



САОБРАЋАЈНА СИГНАЛИЗАЦИЈА

1.	За време управљања возилом у саобраћају на путу, возачи су дужни да: (<i>Заокружити два тачна одговора</i>)	2
	а) кретање возила прилагоде сопственим проценама саобраћајне ситуације без обзира на опасности на које их упозоравају знакови опасности, б) се придржавају ограничења, забрана и обавеза изражених саобраћајном сигнализацијом и да поступи у складу са њиховим значењем, в) поступају по наредбама израженим знаковима обавештења, г) кретање возила прилагоде сопственим проценама саобраћајне ситуације без обзира на ограничења, забране и обавезе изражене саобраћајном сигнализацијом, д) своје кретање прилагоде опасностима на које их упозоравају знакови опасности.	

2.	Саобраћајни знакови:	2
	а) морају бити изведени тако да се садржај њихових порука не може мењати, б) могу бити изведени тако да се садржај њихових порука може мењати делимично или у целини, при чему измењени изглед и садржај мора одговарати прописаном саобраћајном знаку, в) морају бити изведени тако да се садржај њихових порука може мењати делимично или у целини.	

3.	Саобраћајни знакови који су изведени са изменљивим садржајем порука: (<i>Заокружити два тачна одговора</i>)	2
	а) могу бити стално активирани, б) могу бити активирани према потреби, односно искључени када таква потреба не постоји, в) морају увек бити активирани, односно давати одређену поруку, г) морају бити уклоњени када нису активирани, односно не дају одређену поруку.	

4.	Саобраћајни знакови се постављају: (<i>Заокружити два тачна одговора</i>)	2
	а) са десне стране пута, б) са десне или леве стране пута, в) на конзолни носач на објекту са десне стране пута или изнад коловозне траке, г) са леве стране пута.	

5.	Саобраћајни знакови се постављају са: (<i>Заокружити два тачна одговора</i>)	2
	а) десне стране пута, б) десне или леве стране пута, в) десне стране пута, а ако прети опасност да учесници у саобраћају неће правовремено уочити саобраћајни знак, он се поставља и на левој страни пута, г) леве стране пута.	

6.	Постављање, уклањање и измена значења саобраћајне сигнализације као и опреме пута, учесницима у саобраћају:	2
	а) је дозвољено, само у случају означавања гараже и колског прилаза, б) није дозвољено, в) је дозвољено, само у случају када значење саобраћајне сигнализације не одговара саобраћајној ситуацији.	

7.	Постављање табли, знакова, светала, стубова или других сличних предмета којима се заклања или умањује уочљивост постављене саобраћајне сигнализације, учесницима у саобраћају:	2
	а) није дозвољено, б) је дозвољено, само у случају када значење саобраћајне сигнализације не одговара саобраћајној ситуацији, в) је дозвољено када је надлежни орган локалне самоуправе издао одобрење за постављање таквих предмета.	

8.	Постављање предмета који својим обликом, бојом, изгледом или местом постављања, подражавају или личе на саобраћајну сигнализацију или заслепљују учеснике у саобраћају или одвраћају њихову пажњу у мери која може бити опасна за безбедност саобраћаја, учесницима у саобраћају:	2
	а) није дозвољено, б) је дозвољено, само у случају означавања гараже и колског прилаза, в) је дозвољено када је надлежни орган локалне самоуправе издао одобрење за постављање таквих предмета.	

9.	Саобраћајни знакови су: (<i>Заокружити три тачна одговора</i>)	2
	а) знакови опасности, б) семафори, в) знакови изричитих наредби, г) знакови обавештења, д) ознаке на коловозу, ђ) знаци које дају полицијски службеници.	

10.	Саобраћајни знакови се изводе тако да се садржај њихових порука:	2
	а) не може мењати, б) може мењати делимично или у целини, при чему измењени изглед и садржај мора одговарати прописаном саобраћајном знаку.	

11.	Саобраћајни знакови којима се учесницима у саобраћају на путу стављају до знања забране, ограничења и обавезе којих се морају придржавати су:	2
	а) знакови опасности, б) знакови изричитих наредби, в) знакови обавештења.	



12.	Саобраћајни знакови који учеснике у саобраћају упозоравају на опасност која им прети на одређеном месту, односно делу пута и обавештавају о природи те опасности су:	
	а) знакови изричитих наредби, б) знакови обавештења, в) знакови опасности.	2

13.	Саобраћајни знакови који учесницима у саобраћају пружају потребна обавештења о путу којим се крећу и друга обавештења која им могу бити корисна су:	
	а) знакови опасности, б) знакови изричитих наредби, в) знакови обавештења.	2

14.	Саобраћајни знакови који су изведени са изменљивим садржајем порука: (Заокружити два тачна одговора)	
	а) могу бити стално активирани, б) могу бити активирани према потреби, односно искључени када таква потреба не постоји, в) морају увек бити активирани, односно давати одређену поруку, г) морају бити уклоњени када нису активирани, односно не дају одређену поруку.	2

15.	Знакови опасности, по правилу, се постављају:	
	а) на удаљености од 150 m до 250 m испред опасног места на путу, б) непосредно испред опасног места на путу. в) на удаљености од 100 m испред опасног места на путу.	3


16.	Знак опасности који је постављен на путу ван насеља на удаљености мањој од 150 m или већој од 250 m испред опасног места на путу:	
	а) мора имати допунску таблу на којој је назначена удаљеност до опасног места, б) мора имати допунску таблу на којој је назначена врста опасности, в) не мора имати допунску таблу.	3

17.	Знак опасности који је постављен на путу у насељу на удаљености мањој од 150 m испред опасног места:	
	а) мора имати допунску таблу на којој је назначена удаљеност до опасног места, б) мора имати допунску таблу на којој је назначена врста опасности, в) не мора имати допунску таблу.	3

18.	Саобраћајни знак приказан на слици означава:	
		
	а) приближавање кривини на лево, опасној због физичких карактеристика или недовољне прегледности, б) смер којим се возила морају кретати, в) пут са једносмерним саобраћајем.	3

19.	Саобраћајни знак приказан на слици означава:	
		
	а) смер којим се возила морају кретати, б) приближавање кривини на десно, опасној због физичких карактеристика или недовољне прегледности, в) пут са једносмерним саобраћајем.	3

20.	Саобраћајни знак приказан на слици означава:	
		
	а) приближавање делу пута са више опасних кривина од којих је прва налево, б) приближавање делу пута са више опасних кривина од којих је прва надесно, в) приближавање делу пута са више кривина или са узастопним кривинама, које су опасне по својим физичким карактеристикама или због недостатка прегледности.	3

21.	Саобраћајни знак приказан на слици означава:	
		
	а) приближавање делу пута са више опасних кривина од којих је прва налево, б) приближавање делу пута са више опасних кривина од којих је прва надесно, в) приближавање делу пута са више кривина или са узастопним кривинама, које су опасне по својим физичким карактеристикама или због недостатка прегледности.	3



22. Саобраћајни знак приказан на слици означава:



- а) приближавање делу пута са више опасних кривина од којих је прва налево,
- б) приближавање делу пута са више опасних кривина од којих је прва надесно,
- в) приближавање делу пута са више кривина или са узастопним кривинама, које су опасне по својим физичким карактеристикама или због недостатка прегледности.

3

25. Саобраћајни знак приказан на слици означава:



- а) место где се због завршавања саобраћајне траке, сужења коловоза и смањења броја саобраћајних трака, возила наизменично укључују у једну саобраћајну траку,
- б) место на коме се изводе радови на путу,
- в) приближавање сужењу коловоза које може да представља извесну опасност.

3

23. Саобраћајни знак приказан на слици означава:



- а) наилазак на место где су постављени елементи за успоравање саобраћаја,
- б) приближавање опасној низбрдици, ако разлика у висини представља неку опасност која проистиче из тих услова,
- в) приближавање опасном успону, ако разлика у висини представља неку опасност која проистиче из тих услова.

3

26. Саобраћајни знак приказан на слици означава:



- а) наилазак на место где су постављени елементи за успоравање саобраћаја,
- б) приближавање сужењу коловоза с леве стране које може да представља извесну опасност,
- в) приближавање месту на коме се изводе радови на путу.

3

24. Саобраћајни знак приказан на слици означава:



- а) наилазак на место где су постављени елементи за успоравање саобраћаја,
- б) приближавање опасној низбрдици, ако разлика у висини представља неку опасност која проистиче из тих услова,
- в) приближавање опасном успону, ако разлика у висини представља неку опасност која проистиче из тих услова.

3

27. Саобраћајни знак приказан на слици означава:



- а) приближавање сужењу коловоза с десне стране које може да представља извесну опасност,
- б) место где се због завршавања саобраћајне траке, сужења коловоза и смањења броја саобраћајних трака, возила наизменично укључују у једну саобраћајну траку,
- в) место на коме се изводе радови на путу.

3



28. Саобраћајни знак приказан на слици означава:



а) близину места на коме пут наилази на обалу,
 б) близину места на коме се на путу налази покретни мост,
 в) близину дела пута на коме коловоз под одређеним атмосферским условима или сличним околностима има клизаву површину. **3**

31. Саобраћајни знак приказан на слици означава:



а) близину дела пута на коме је коловоз нераван због близине опасног превоја пута или веће избочине на коловозу,
 б) близину дела пута на коме је коловоз нераван због улегнућа,
 в) близину дела пута на коме је коловоз нераван због постојања опасних избочина и улегнућа. **3**

29. Саобраћајни знак приказан на слици означава:



а) близину места на коме пут наилази на обалу,
 б) близину места на коме се на путу налази покретни мост,
 в) близину дела пута на коме коловоз под одређеним атмосферским условима или сличним околностима има клизаву површину. **3**

32. Саобраћајни знак приказан на слици означава:



а) близину дела пута на коме је коловоз нераван због улегнућа,
 б) близину дела пута на коме је коловоз нераван због постојања опасних избочина и улегнућа,
 в) близину дела пута на коме је коловоз нераван због близине опасног превоја пута или веће избочине на коловозу. **3**

30. Саобраћајни знак приказан на слици означава:



а) близину дела пута на коме је коловоз нераван због улегнућа,
 б) близину дела пута на коме је коловоз нераван због близине опасног превоја пута или веће избочине на коловозу,
 в) близину дела пута на коме је коловоз нераван због постојања опасних избочина и улегнућа. **3**

33. Саобраћајни знак приказан на слици означава:



а) близину места на коме пут наилази на обалу,
 б) близину дела пута на коме је уз коловоз неучвршћена банкина,
 в) близину дела пута на коме коловоз под одређеним атмосферским условима или сличним околностима има клизаву површину. **3**

34. Саобраћајни знак приказан на слици означава:



а) близину дела пута на коме се налази неваљани туцаник или који је присут ситним камењем на тврдој подлози и на коме за друге учеснике у саобраћају постоји опасност од прскања камена,
 б) близину дела пута на коме постоји опасност од камења које пада или од камења које се налази на путу,
 в) близину дела пута на коме је уз коловоз неучвршћена банкина.

3


37. Саобраћајни знак приказан на слици означава:



а) место од којег почиње зона школе,
 б) посебно изграђену стазу којом се пешаци морају кретати, а по којој је забрањено кретање другим учесницима у саобраћају,
 в) близину дела пута на коме се деца чешће и у већем броју крећу (близина школе, обданишта, игралишта и сл.).

3

35. Саобраћајни знак приказан на слици означава:



а) близину дела пута на коме се налази неваљани туцаник или који је присут ситним камењем на тврдој подлози и на коме за друге учеснике у саобраћају постоји опасност од прскања камена,
 б) близину дела пута на коме постоји опасност од камења које пада или од камења које се налази на путу, са леве стране,
 в) близину дела пута на коме је уз коловоз неучвршћена банкина.

3

38. Саобраћајни знак приказан на слици означава:



б) пут односно део пута на коме је забрањен саобраћај за бицикле,
 в) близину места на коме се бициклисти често прикључују на пут или га прелазе,
 г) пут којим се морају кретати бицикли, а по коме је забрањено кретање другим учесницима у саобраћају.

3


36. Саобраћајни знак приказан на слици означава:



а) близину места на путу на коме се налази обележени пешачки прелаз,
 б) место на коме се налази обележени пешачки прелаз,
 а) посебно изграђену стазу којом се пешаци морају кретати, а по којој је забрањено кретање другим учесницима у саобраћају.

3

39. Саобраћајни знак приказан на слици означава:



а) близину дела пута на коме се налази неваљани туцаник или који је присут ситним камењем на тврдој подлози и на коме за друге учеснике у саобраћају постоји опасност од прскања камена,
 б) близину дела пута на коме постоји опасност од камења које пада или од камења које се налази на путу, са десне стране,
 в) близину дела пута на коме је уз коловоз неучвршћена банкина.

3



40. Саобраћајни знак приказан на слици означава:



- а) близину дела пута опасног због преласка дивљачи преко пута,
- б) близину дела пута на коме домаће животиње под надзором прелазе преко пута или се крећу дуж пута,
- в) стазу којом се морају кретати јахачи, а по којој је забрањено кретање другим учесницима у саобраћају.

3

43. Саобраћајни знак приказан на слици означава:



- а) близину раскрснице или обележеног пешачког прелаза на коме је саобраћај регулисан помоћу уређаја за давање светлосних саобраћајних знакова,
- б) близину прелаза пута преко железничке пруге у истом нивоу на коме је саобраћај регулисан помоћу уређаја за давање светлосних саобраћајних знакова,
- в) близину места на коме се приступ возила регулише помоћу уређаја за давање светлосних саобраћајних знакова.

3

41. Саобраћајни знак приказан на слици означава:



- а) приближавање сужењу коловоза које може да представља извесну опасност,
- б) место где се због завршавања саобраћајне траке, сужења коловоза и смањења броја саобраћајних трака, возила наизменично укључују у једну саобраћајну траку,
- в) место на коме се изводе радови на путу.

3

44. Саобраћајни знак приказан на слици означава:



- а) део пута преко кога авиони прелећу у ниском лету приликом слетања односно полетања,
- б) близину аеродрома или места аеродрома,
- в) близину дела пута на коме је честа појава јаког бочног ветра изазваног летом авиона.

3

42. Саобраћајни знак приказан на слици означава:



- а) близину прелаза пута преко железничке пруге у истом нивоу на коме је саобраћај регулисан помоћу уређаја за давање светлосних саобраћајних знакова,
- б) близину места на коме се приступ возила регулише помоћу уређаја за давање светлосних саобраћајних знакова,
- в) близину раскрснице или обележеног пешачког прелаза на коме је саобраћај регулисан помоћу уређаја за давање светлосних саобраћајних знакова.

3

45. Саобраћајни знак приказан на слици означава:



- а) близину дела пута на коме често дува јак бочни ветар са леве стране,
- б) близину дела пута на коме постоји опасност од камења које пада или од камења које се налази на путу са леве стране,
- в) део пута преко кога авиони прелећу у ниском лету приликом слетања односно полетања.

3





46. Саобраћајни знак приказан на слици означава:



- а) близину дела пута на коме постоји опасност од камења које пада или од камења које се налази на путу са десне стране,
- б) део пута преко кога авиони прелећу у ниском лету приликом слетања односно полетања,
- в) близину дела пута на коме често дува јак бочни ветар.

3

49. Саобраћајни знак приказан на слици означава:



- а) близину укрштања путева од којих ниједан пут није пут са првенством пролаза,
- б) близину раскрснице на којој се пут са првенством пролаза укршта са споредним путем,
- в) близину прелаза пута преко железничке пруге у нивоу, који није обезбеђен браницима или полубраницима.

3

47. Саобраћајни знак приказан на слици означава:



- а) забрану ступања возила на уски део пута пре него што тим делом пређу возила из супротног смера,
- б) близину места на коме се прелази са дела пута на коме се саобраћај одвија само у једном смеру на део тог пута на коме се привремено или стално саобраћај врши у оба смера,
- в) да на уском пролазу возило има право првенства у односу на возила која долазе из супротног смера.

3

50. Саобраћајни знак приказан на слици означава:



- а) близину раскрснице на којој се пут са првенством пролаза укршта са споредним путем под правим углом,
- б) близину укрштања путева од којих ниједан пут није пут са првенством пролаза,
- в) близину прелаза пута преко железничке пруге у нивоу, који није обезбеђен браницима или полубраницима.

3

48. Саобраћајни знак приказан на слици означава:



- а) место на коме се изводе радови на путу,
- б) близину дела пута или места на путу на коме учесницима у саобраћају прети опасност за коју није предвиђен посебан знак опасности,
- в) близину раскрснице на којој возач мора да уступи првенство пролаза возилима која се крећу по путу на који он наилази.

3

51. Саобраћајни знак приказан на слици означава:



- а) близину укрштања путева од којих ниједан пут није пут са првенством пролаза,
- б) близину раскрснице на којој се пут са првенством пролаза укршта са споредним путем с леве стране,
- в) близину раскрснице на којој се пут са првенством пролаза спаја са споредним путем под правим углом с леве стране.

3





52. Саобраћајни знак приказан на слици означава:



- а) близину тунела на путу,
- б) близину надвожњака,
- в) близину подвожњака.

3

53. Саобраћајни знак приказан на слици означава:



- а) близину укрштања путева од којих ниједан пут није пут са првенством пролаза,
- б) близину раскрснице на којој се пут са првенством пролаза спаја са споредним путем под правим углом с десне стране,
- в) близину раскрснице на којој се пут са првенством пролаза укршта са споредним путем с десне стране.

3

54. Саобраћајни знак приказан на слици означава:



- а) близину раскрснице на којој се пут са првенством пролаза спаја са споредним путем под оштрим углом с десне стране,
- б) близину укрштања путева од којих ниједан пут није пут са првенством пролаза,
- в) близину раскрснице на којој се пут са првенством пролаза укршта са споредним путем с десне стране.

3

55. Наредба изражена саобраћајним знаком изричите наредбе важи од:

- а) места на коме је постављен тај знак,
- б) тренутка када је возач уочио тај знак,
- в) 150 m од места на коме је постављен тај знак.

3

56. Саобраћајни знак приказан на слици означава:



- а) коловоз односно део коловоза којим се возила морају кретати приликом обилажења пешачких острва, острва за усмеравање саобраћаја и других објеката на коловозу,
- б) близину раскрснице на којој се саобраћај одвија у кружном току,
- в) место на коме је забрањено полукружно окретање.

3

57. Саобраћајни знак приказан на слици означава:



- а) близину места на коме пут прелази преко трамвајске пруге у нивоу,
- б) близину прелаза пута преко железничке пруге у нивоу, који није обезбеђен браницима или полубраницима,
- в) близину прелаза пута преко железничке пруге у нивоу, који је обезбеђен браницима или полубраницима.

3

58. Саобраћајни знак приказан на слици означава:



- а) близину дела пута опасног због преласка дивљачи преко пута,
- б) близину дела пута на коме домаће животиње под надзором прелазе преко пута или се крећу дуж пута,
- в) стазу којом се морају кретати јахачи, а по којој је забрањено кретање другим учесницима у саобраћају.

3



59. Саобраћајни знак приказан на слици означава:



а) близину укрштања путева од којих ниједан пут није пут са првенством пролаза,
 б) близину раскрснице на којој се пут са првенством пролаза спаја са споредним путем под оштрим углом с леве стране,
 в) близину раскрснице на којој се пут са првенством пролаза укршта са споредним путем с леве стране.

3

62. Саобраћајни знак приказан на слици означава:



а) место на коме пут прелази преко железничке пруге у нивоу без браника или полубраника, са једним колосеком,
 б) близину прелаза пута преко железничке пруге у нивоу, који није обезбеђен браницима или полубраницима,
 в) место на коме пут прелази преко железничке пруге у нивоу без браника или полубраника, са два или више колосека.

3

60. Саобраћајни знак приказан на слици означава:



а) близину прелаза пута преко железничке пруге у нивоу, који није обезбеђен браницима или полубраницима,
 б) место на коме се налази трамвајска станица,
 в) близину места на коме пут прелази преко трамвајске пруге у нивоу.

3

63. Саобраћајни знак приказан на слици означава:



а) удаљеност до прелаза пута преко железничке пруге у нивоу, који није обезбеђен браницима или полубраницима,
 б) близину места на коме пут прелази преко трамвајске пруге у нивоу,
 в) удаљеност до прелаза пута преко железничке пруге у нивоу, који је обезбеђен браницима или полубраницима.

3

61. Саобраћајни знак приказан на слици означава:



а) близину места на коме пут прелази преко трамвајске пруге у нивоу,
 б) близину прелаза пута преко железничке пруге у нивоу, који је обезбеђен браницима или полубраницима,
 в) близину прелаза пута преко железничке пруге у нивоу, који није обезбеђен браницима или полубраницима.

3

64. Знак изричите наредбе се поставља:

а) на удаљености од 150 m до 250 m испред места на путу, одакле за учеснике у саобраћају настаје обавеза да се придржавају наредбе изражене саобраћајним знаком,
 б) на удаљености од 100 m испред места на путу одакле за учеснике у саобраћају настаје обавеза да се придржавају наредбе изражене саобраћајним знаком,
 в) непосредно испред места одакле за учеснике у саобраћају настаје обавеза да се придржавају наредбе изражене саобраћајним знаком.

3

65. Саобраћајни знак приказан на слици означава:



а) удаљеност од 280 m до прелаза пута преко железничке пруге у нивоу,
 б) удаљеност од 240 m до прелаза пута преко железничке пруге у нивоу,
 в) удаљеност од 160 m до прелаза пута преко железничке пруге у нивоу.

3

68. Саобраћајни знак приказан на слици означава:




а) удаљеност до прелаза пута преко железничке пруге у нивоу, који је обезбеђен браницима или полубраницима,
 б) удаљеност до прелаза пута преко железничке пруге у нивоу, који није обезбеђен браницима или полубраницима,
 в) близину места на коме пут прелази преко трамвајске пруге у нивоу.

3


66. Саобраћајни знак приказан на слици означава:



а) удаљеност од 280 m до прелаза пута преко железничке пруге у нивоу, који је обезбеђен браницима или полубраницима,
 б) удаљеност од 240 m до прелаза пута преко железничке пруге у нивоу, који је обезбеђен браницима или полубраницима,
 в) удаљеност од 160 m до прелаза пута преко железничке пруге у нивоу, који је обезбеђен браницима или полубраницима.

3

69. Саобраћајни знак приказан на слици означава:



а) близину дела пута на коме постоји опасност од камења које пада или од камења које се налази на путу,
 б) близину дела пута на коме је уз коловоз неучвршћена банкина,
 в) близину дела пута на коме се налази неваљани туцаник или који је посут ситним камењем на тврдој подлози и на коме за друге учеснике у саобраћају постоји опасност од прскања камена.

3

67. Саобраћајни знак приказан на слици означава:



а) пут, односно део пута на коме се возила морају кретати у колони,
 б) близину дела пута на коме постоји опасност због загушења саобраћаја,
 в) пут, односно део пута на коме је забрањено кретање возила у колони.

3

70. Изричита наредба дата саобраћајним знаком на слици важи:



а) на месту на коме је постављен тај знак,
 б) иза места на коме је постављен тај знак до најближе ивице попречног коловоза,
 в) иза места на коме је постављен тај знак.

3



71. Саобраћајни знак приказан на слици означава:



- а) удаљеност од 240 m до прелаза пута преко железничке пруге у нивоу,
- б) удаљеност од 160 m до прелаза пута преко железничке пруге у нивоу,
- в) удаљеност од 80 m до прелаза пута преко железничке пруге у нивоу.

3

74. Изричита наредба дата саобраћајним знаком на слици важи:



- а) од места на коме је постављен тај знак,
- б) од места на коме је постављен тај знак у дужини од 200 m,
- в) на удаљености од 200 m од места на коме је постављен тај знак.

3

72. Саобраћајни знак приказан на слици означава:



- а) место на коме пут прелази преко железничке пруге у нивоу без браника или полубраника са два или више колосека,
- б) близину прелаза пута преко железничке пруге у нивоу, који није обезбеђен браницима или полубраницима,
- в) место на коме пут прелази преко железничке пруге у нивоу без браника или полубраника са једним колосеком.

3

75. Изричита наредба дата саобраћајним знаком на слици важи:



- а) од места на коме је постављен тај знак,
- б) од места на коме је постављен тај знак у дужини од 200 m,
- в) на удаљености од 200 m од места на коме је постављен тај знак.

3

73. Саобраћајни знак приказан на слици означава:



- а) пут односно део пута на коме је забрањен саобраћај за сва моторна возила, осим за мотоцикле без приколице и мопедe,
- б) пут односно део пута на коме је забрањен саобраћај возила из смера према коме је окренут знак,
- в) пут односно део пута на коме је забрањен саобраћај свим возилима у оба смера.

3

76. Саобраћајни знак приказан на слици означава:



- а) место пред улазом у раскрсницу на коме је возач дужан да заустави возило и уступи првенство пролаза возилима која се крећу путем на који он наилази,
- б) близину раскрснице на којој возач мора да уступи првенство пролаза возилима која се крећу по путу на који он наилази,
- в) пут односно део пута на коме је забрањен саобраћај свим возилима у оба смера.

3





77. Саобраћајни знак приказан на слици означава:



- а) место пред улазом у раскрсницу на коме је возач дужан да заустави возило и уступи првенство пролаза возилима која се крећу путем на који он наилази,
- б) близину раскрснице на којој возач мора да уступи првенство пролаза возилима која се крећу по путу на који он наилази,
- в) пут односно део пута на коме је забрањен саобраћај возила из смера према коме је окренут знак.

3

80. Саобраћајни знак приказан на слици означава:



- а) пут, односно део пута на коме је забрањен саобраћај за аутобусе,
- б) пут, односно део пута на коме је забрањен саобраћај за сва возила, осим за путничка возила,
- в) место на коме се налази аутобуско стајалиште.

3

78. Саобраћајни знак приказан на слици означава:



- а) пут односно део пута на коме је забрањен саобраћај за сва моторна возила, осим за мотоцикле без приколице и мопеде,
- б) пут односно део пута на коме је забрањен саобраћај возила из смера према коме је окренут знак,
- в) пут односно део пута на коме је забрањен саобраћај свим возилима у оба смера.

3

81. Саобраћајни знак приказан на слици означава:



- а) пут, односно део пута којим се морају кретати теретна возила,
- б) пут или део пута на коме је забрањен саобраћај возилима која превозе експлозив или лако запаљиве материје,
- в) пут, односно део пута на коме је забрањен саобраћај за теретна возила.

3

79. Саобраћајни знак приказан на слици означава:



- а) пут односно део пута на коме је забрањен саобраћај за сва моторна возила, осим за мотоцикле без приколице и мопеде,
- б) пут односно део пута на коме је забрањен саобраћај за сва возила, осим за путничка возила,
- в) пут односно део пута на коме је дозвољен саобраћај само путничким возилима.

3

82. Саобраћајни знак приказан на слици означава:



- а) пут односно део пута на коме је забрањен саобраћај за мотоцикле, тешке трицикле и тешке четвороцикле,
- б) пут односно део пута на коме је забрањен саобраћај за бицикле,
- в) пут односно део пута на коме је забрањен саобраћај за мопеде, лаке трицикле и лаке четвороцикле.

3





83.	Изричита наредба дата знаком изричитих наредби постављеним на путу важи:	
	а) до прве наредне раскрснице, односно до места где је постављен знак обавештења о престанку те изричите наредбе, б) 250 m од места на коме је постављен тај знак, в) до места где је постављен знак обавештења о престанку те изричите наредбе, без обзира да ли до тог места постоји раскрсница.	3

86.	Саобраћајни знак приказан на слици означава:	
		
	а) место на коме је забрањено полукружно окретање, б) смер којим се возила морају кретати, в) раскрсницу на којој је скретање улево забрањено.	3

84.	Саобраћајни знак приказан на слици означава:	
		
	а) пут, односно део пута на коме је забрањен саобраћај за мотоцикле, тешке трицикле и тешке четвороцикле, б) пут, односно део пута на коме је забрањен саобраћај за бицикле, в) пут, односно део пута на коме је забрањен саобраћај за мопед, лаке трицикле и лаке четвороцикле.	3

87.	Саобраћајни знак приказан на слици означава:	
		
	а) пут, односно део пута на коме је забрањен саобраћај за сва возила, б) пут, односно део пута на коме је забрањен саобраћај за сва моторна возила и запрежна возила, в) пут, односно део пута на коме је дозвољен саобраћај само путничким возилима, мотоциклима и запрежним возилима.	3

85.	Саобраћајни знак приказан на слици означава:	
		
	а) пут, односно део пута на коме је забрањено претицање свих моторних возила, осим теретних возила и аутобуса, б) пут, односно део пута на коме је забрањено претицање свих моторних возила, осим мотоцикала без приколице, мопеда, лаких трицикала и лаких четвороцикала, в) пут, односно део пута на коме је забрањено претицање свих моторних возила, осим скупова возила.	3

88.	Саобраћајни знак приказан на слици означава:	
		
	а) пут којим се морају кретати бицикли, а по коме је забрањено кретање другим учесницима у саобраћају, б) пут, односно део пута на коме је забрањен саобраћај за бицикле, в) место одакле престаје да важи забрана саобраћаја за бицикле.	3





89. Саобраћајни знак приказан на слици означава:



- а) пут, односно део пута на коме је забрањен саобраћај за сва моторна возила,
- б) пут, односно део пута на коме је забрањен саобраћај за сва возила, осим за теретна возила и аутобусе,
- в) пут, односно део пута на коме је дозвољен саобраћај само путничким возилима и мотоциклима.

3

92. Саобраћајни знак приказан на слици означава:



- а) пут, односно део пута на коме је забрањен саобраћај за возила чија укупна висина прелази висину означену на знаку,
- б) пут, односно део пута на коме је забрањен саобраћај за возила чија ширина прелази ширину означену на знаку,
- в) пут, односно део пута на коме је забрањен саобраћај за возила, односно скуповима возила, чија укупна дужина прелази дужину означену на знаку.

3

90. Саобраћајни знак приказан на слици означава:



- а) пут, односно део пута на коме је забрањен саобраћај за возила чија укупна висина прелази висину означену на знаку,
- б) пут, односно део пута на коме је забрањен саобраћај за возила чија ширина прелази ширину означену на знаку,
- в) пут, односно део пута на коме је забрањен саобраћај за возила, односно скуповима возила, чија укупна дужина прелази дужину означену на знаку.

3

93. Саобраћајни знак приказан на слици означава:



- а) место на коме је забрањено полукружно окретање,
- б) раскрсницу на којој је скретање удесно забрањено,
- в) смер којим се возила морају кретати.

3

91. Саобраћајни знак приказан на слици означава:



- а) место на коме је забрањено полукружно окретање,
- б) раскрсницу на којој је скретање улево забрањено,
- в) забрану ступања возила на пут пре него што прођу возила из супротног смера.

3

94. Саобраћајни знак приказан на слици означава:



- а) пут, односно део пута на коме се возила у нормалним условима морају кретати најмање оном брзином (у km/h) која је означена на знаку,
- б) пут, односно део пута на коме се возила не смеју кретати брзином (у km/h) већом од брзине која је означена на знаку,
- в) брзину која се препоручује на одређеном делу пута (у km/h).

3



95. Саобраћајни знак приказан на слици означава:



- а) близину царинарнице, односно места где се возило мора зауставити из разлога означеног на знаку,
- б) близину полиције, односно места где се возило мора зауставити из разлога означеног на знаку,
- в) близину наплатног места за путарину, односно места где се возило мора зауставити из разлога означеног на знаку.

3

98. Саобраћајни знак приказан на слици означава:



- а) пут, односно део пута на коме је забрањен саобраћај возилима која превозе материје које могу да изазову загађивање воде,
- б) пут, или део пута на коме је забрањен саобраћај возилима која превозе експлозив или лако запаљиве материје,
- в) пут, односно део пута на коме је забрањен саобраћај за теретна возила.

3

96. Саобраћајни знак приказан на слици означава:



- а) забрану ступања возила на уски део пута пре него што тим делом пређу возила из супротног смера,
- б) обавештење возачу да на уском пролазу има право првенства у односу на возила која долазе из супротног смера,
- в) близину места на коме се прелази са дела пута на коме се саобраћај одвија само у једном смеру на део тог пута на коме се привремено или стално саобраћај врши у оба смера.

3

99. Саобраћајни знак приказан на слици означава:



- а) пут, или део пута на коме је забрањен саобраћај возилима која превозе експлозив или лако запаљиве материје,
- б) пут, или део пута на коме је забрањен саобраћај возилима која превозе опасне терете.
- в) пут, односно део пута на коме је забрањен саобраћај за теретна возила.

3

97. Саобраћајни знак приказан на слици означава:



- а) пут, односно део пута на коме је забрањен саобраћај возилима која превозе материје које могу да изазову загађивање воде,
- б) пут или део пута на коме је забрањен саобраћај возилима која превозе експлозив или лако запаљиве материје,
- в) пут, односно део пута на коме је забрањен саобраћај за теретна возила.

3

100. Саобраћајни знак приказан на слици означава:



- а) пут, односно део пута на коме је забрањен саобраћај за моторна возила која вуку прикључно возило осим полуприколице,
- б) пут, односно део пута на коме је забрањен саобраћај за моторна возила која вуку прикључно возило,
- в) пут, односно део пута на коме је забрањен саобраћај за теретна возила.

3



101. Саобраћајни знак приказан на слици означава:



а) пут, односно део пута на коме је забрањен саобраћај за моторна возила која вуку прикључно возило осим полуприколице,
 б) пут, односно део пута на коме је забрањен саобраћај за моторна возила која вуку прикључно возило,
 в) пут, односно део пута на коме је забрањен саобраћај за теретна возила.

3

104. Саобраћајни знак приказан на слици означава:



а) пут, односно део пута на коме је забрањен саобраћај за ручна колица,
 б) пут, односно део пута на коме је забрањен саобраћај за пешаке,
 в) пут, односно део пута којим се морају кретати пешаци који гурају ручна колица.

3

102. Саобраћајни знак приказан на слици означава:



а) пут, односно део пута на коме је забрањен саобраћај за сва моторна возила,
 б) пут, односно део пута на коме се морају кретати трактори,
 в) пут, односно део пута на коме је забрањен саобраћај за тракторе.

3

105. Саобраћајни знак приказан на слици означава:



а) пут, односно део пута на коме је забрањен саобраћај за пешаке,
 б) близину места на путу на коме се налази обележени пешачки прелаз,
 в) посебно изграђену стазу којом се пешаци морају кретати, а по којој је забрањено кретање другим учесницима у саобраћају.

3

103. Саобраћајни знак приказан на слици означава:



а) пут, односно део пута на коме је забрањен саобраћај за моторна возила и запрежна возила,
 б) пут, односно део пута на коме је забрањен саобраћај за запрежна возила,
 в) пут, односно део пута на коме је забрањен саобраћај за домаће животиње.

3

106. Саобраћајни знак приказан на слици означава:



а) пут, односно део пута на коме је дозвољен саобраћај само аутобусима, тракторима и запрежним возилима.
 б) пут, односно део пута на коме је забрањен саобраћај за сва моторна возила,
 в) пут, односно део пута на коме је забрањен саобраћај за врсту возила приказаних на знаку.

3





107. Саобраћајни знак приказан на слици означава:



а) пут, односно део пута на коме је забрањен саобраћај за возила чија укупна висина прелази висину означену на знаку,
 б) пут, односно део пута на коме је забрањен саобраћај за возила чија ширина прелази ширину означену на знаку,
 в) пут, односно део пута на коме је забрањен саобраћај за возила, односно скуповима возила, чија укупна дужина прелази дужину означену на знаку.

3

110. Саобраћајни знак приказан на слици означава:



а) пут, односно део пута на коме је забрањен саобраћај за возила односно скупове возила, чија укупна маса прелази масу означену на знаку,
 б) пут, односно део пута на коме је забрањен саобраћај за возила односно скупове возила, чија највећа дозвољена маса прелази масу означену на знаку,
 в) пут, односно део пута на коме је забрањен саобраћај за возила са осовинским оптерећењем већим од оптерећења означеног на знаку.

3

108. Саобраћајни знак приказан на слици означава:



а) страну пута на којој је забрањено паркирање возила,
 б) део пута на који се забрана паркирања односи у парне дане,
 в) део пута на који се забрана паркирања односи у непарне дане.

3


111. Саобраћајни знак приказан на слици означава:



а) најмање растојање између возила у кретању којег се возачи морају придржавати,
 б) највеће одстојање између возила у кретању којег се возачи морају придржавати,
 в) најмање одстојање између возила у кретању којег се возачи морају придржавати.

3

109. Саобраћајни знак приказан на слици означава:



а) пут, односно део пута на коме је забрањен саобраћај за возила односно скупове возила, чија маса прелази масу означену на знаку,
 б) пут, односно део пута на коме је забрањен саобраћај за возила са осовинским оптерећењем већим од оптерећења означеног на знаку,
 в) пут, односно део пута на коме је забрањен саобраћај за возила чија ширина прелази ширину означену на знаку.

3

112. Саобраћајни знак приказан на слици означава:



а) близину царинарнице, односно места где се возило мора зауставити из разлога означеног на знаку,
 б) близину полиције, односно места где се возило мора зауставити из разлога означеног на знаку,
 в) близину наплатног места за путарину, односно места где се возило мора зауставити из разлога означеног на знаку.

3



113. Саобраћајни знак приказан на слици означава:



- а) пут, односно део пута на коме је забрањено да теретна возила чија највећа дозвољена маса прелази 3,5 t претичу друга моторна возила осим теретних возила и аутобуса,
- б) пут, односно део пута на коме је забрањено да сва теретна возила претичу друга моторна возила осим мотоцикла без приколице, mopеда, лаке трицикле и лаке четвороцикле,
- в) пут, односно део пута на коме је забрањено да теретна возила чија највећа дозвољена маса прелази 3,5 t претичу друга моторна возила осим мотоцикла без приколице, mopеда, лаке трицикле и лаке четвороцикле.

3

114. Саобраћајни знак приказан на слици означава:



- а) пут, односно део пута на коме се уређајем на возилу не смеју давати звучни знакови, осим у случају непосредне опасности,
- б) место одакле престаје забрана давања звучних знакова,
- в) место на којем се завршава одредиште од културно историјског значаја.

3

115. Саобраћајни знак приказан на слици означава:



- а) страну пута на којој је забрањено паркирање возила,
- б) део пута на који се забрана паркирања односи у парне дане,
- в) део пута на који се забрана паркирања односи у непарне дане.

3


116. Саобраћајни знак приказан на слици означава:



- а) близину царинарнице, односно места где се возило мора зауставити из разлога означеног на знаку,
- б) близину полиције, односно места где се возило мора зауставити из разлога означеног на знаку,
- в) близину наплатног места за путарину односно места где се возило мора зауставити из разлога означеног на знаку.

3

117. Саобраћајни знак приказан на слици означава:



- а) део пута на коме моторна возила, осим мотоцикла, mopеда, лаких трицикла, тешких трицикла, лаких четвороцикла, тешких четвороцикла, радних машина, трактора и мотокултиватора, морају на погонским точковима имати ланце за снег кад је на коловозу снег,
- б) део пута на коме сва моторна возила морају на погонским точковима имати ланце за снег кад је на коловозу снег,
- в) део пута на коме сва моторна возила морају на погонским точковима имати ланце за снег или зимске пнеуматике када је на коловозу снег.

3

118. Саобраћајни знак приказан на слици означава:



- а) пут са једносмерним саобраћајем,
- б) смер којим се возила морају кретати,
- в) обавештење учесника у саобраћају о једносмерном путу.

3



119. Саобраћајни знак приказан на слици означава:



а) пут по коме се одвојено крећу само бициклисти и пешаци, у својим стазама,
 б) пут по коме се одвојено крећу само бициклисти, односно возачи мопеда и пешаци, у својим стазама,
 в) пут који могу само користити бициклисти, односно возачи мопеда и пешаци.

3

122. Саобраћајни знак приказан на слици означава:



а) означава место на коме се налази обележени пешачки прелаз,
 б) близину места на путу на коме се налази обележени пешачки прелаз,
 в) посебно изграђену стазу којом се пешаци морају кретати, а по којој је забрањено кретање другим учесницима у саобраћају.

3

120. Саобраћајни знак приказан на слици означава:



а) близину дела пута опасног због преласка дивљачи преко пута,
 б) близину дела пута на коме домаће животиње под надзором прелазе преко пута или се крећу дуж пута,
 в) стазу којом се морају кретати јахачи, а по којој је забрањено кретање другим учесницима у саобраћају.

3

123. Саобраћајни знак приказан на слици означава:



а) пут са једносмерним саобраћајем,
 б) приближавање опасној кривини на десно,
 в) смер којим се возила морају кретати.

3

121. Саобраћајни знак приказан на слици означава:



а) пут, односно део пута на коме је забрањен саобраћај за бицикле,
 б) близину места на коме се бициклисти често прикључују на пут или га прелазе,
 в) пут којим се морају кретати бицикли, а по коме је забрањено кретање другим учесницима у саобраћају.

3

124. Саобраћајни знак приказан на слици означава:



а) коловоз односно део коловоза којим се возила морају кретати приликом обилажења пешачких острва, острва за усмеравање саобраћаја и других објеката на коловозу,
 б) пружање пута са једносмерним саобраћајем,
 в) место на коме се налази подземни пролаз за возила.

3





132. Саобраћајни знак приказан на слици означава:



а) коловоз, односно део коловоза којим се возила могу кретати приликом обилажења пешачких острва, острва за усмеравање саобраћаја и других објеката на коловозу,
 б) пружање путева са једносмерним саобраћајем,
 в) смерове у којима је дозвољено кретање возила.

3

135. Саобраћајни знак приказан на слици означава:



а) смер којим се возила морају кретати,
 б) пут са једносмерним саобраћајем,
 в) приближавање опасној кривини на лево.

3

133. Саобраћајни знак приказан на слици означава:



а) близину раскрснице на којој се саобраћај одвија у кружном току,
 б) близину раскрснице на којој се укрштају три пута са једносмерним саобраћајем,
 в) коловоз, односно део коловоза којим се возила морају кретати приликом обилажења острва за усмеравање саобраћаја.

3

136. Саобраћајни знак приказан на слици означава:



а) пружање путева са једносмерним саобраћајем,
 б) смерове у којима се возила смеју кретати,
 в) коловоз, односно део коловоза којим се возила могу кретати приликом обилажења пешачких острва, острва за усмеравање саобраћаја и других објеката на коловозу.

3


134. Саобраћајни знак приказан на слици означава:



а) близину раскрснице на којој се укрштају два пута са једносмерним саобраћајем,
 б) пружање путева са једносмерним саобраћајем,
 в) коловоз односно део коловоза којим се возила могу кретати приликом обилажења пешачких острва, острва за усмеравање саобраћаја и других објеката на коловозу.

3

137. Саобраћајни знак приказан на слици означава:



а) забрану ступања возила на уски део пута пре него што тим делом пређу возила из супротног смера,
 б) обавештење возачу да на уском пролазу има право првенства у односу на возила која долазе из супротног смера,
 в) близину места на коме се прелази са дела пута на коме се саобраћај одвија само у једном смеру на део тог пута на коме се привремено или стално саобраћај врши у оба смера.

2





138. Саобраћајни знак приказан на слици означава:



а) коловоз, односно део коловоза којим се возила могу кретати приликом обилажења пешачких острва, острва за усмеравање саобраћаја и других објеката на коловозу,
 б) пружање путева са једносмерним саобраћајем,
 в) смерове у којима се возила смеју кретати.

3

142. Саобраћајни знак приказан на слици означава:



а) број међународног пута,
 б) број регионалног пута,
 в) број магистралног пута.

2

139. Саобраћајни знак приказан на слици означава:



а) пут са једносмерним саобраћајем,
 б) обавештење учесника у саобраћају о једносмерном путу,
 в) смер којим се возила морају кретати.

3

143. Саобраћајни знак приказан на слици означава:



а) место на коме се налази подземни или надземни пешачки пролаз,
 б) означава место на коме се налази обележени пешачки прелаз,
 в) близину места на путу на коме се налази обележени пешачки прелаз.

2

140. Саобраћајни знак приказан на слици означава:



а) пут, односно део пута на коме је забрањен саобраћај за пешаке,
 б) означава место на коме се налази обележени пешачки прелаз,
 в) близину места на путу на коме се налази обележени пешачки прелаз.

2

144. Саобраћајни знак приказан на слици означава:



а) место на коме се завршава насељено место кроз које пролази пут,
 б) место на коме се завршава насеље и од кога престају да важе прописи о саобраћају у насељу,
 в) место на коме се завршава одредиште или објекат туристичког или историјског значаја.

2

141. У циљу пружања учесницима у саобраћају претходних обавештења, обавештења о престојавању, обавештења о скретању, потврдних обавештења о правцу кретања, као и означавања објеката, терена, улица или делова пута на које се односе, постављају се:

а) знакови изричитих наредби,
 б) знакови опасности,
 в) знакови обавештења.

2



145. Саобраћајни знак приказан на слици означава:



- а) број пута,
- б) број деонице пута,
- в) стационажу пута.

2

148. Саобраћајни знак приказан на слици означава:



- а) близину места на којем се налази надвожњак на путу,
- б) место на коме се завршава аутопут,
- в) близину места на коме се пут завршава.

2

146. Саобраћајни знак приказан на слици означава:



- а) број пута,
- б) број деонице пута,
- в) стационажу пута, односно растојање од почетка тог пута до места на ком је постављен знак.

2

149. Саобраћајни знак приказан на слици означава:



- а) место на којем се завршава одредиште од културно историјског значаја,
- б) пут односно део пута на коме се уређајем на возилу не смеју давати звучни знакови, осим у случају непосредне опасности,
- в) место одакле престаје забрана давања звучних знакова.

2

147. Саобраћајни знак приказан на слици означава:



- а) место на коме се завршава паркиралиште за путничка возила,
- б) место на коме се завршава мотопут,
- в) место на коме се завршава аутопут.

2

150. Саобраћајни знак приказан на слици означава:



- а) број пута, број деонице пута и стационажу пута,
- б) растојање од граничног прелаза до места на коме је постављен знак.
- в) растојање до завршетка пута по којем се возило креће.

2

151. Саобраћајни знак приказан на слици означава:



- а) место на путу одакле престаје да важи обавеза поседовања прописане зимске опреме,
- б) место на путу одакле почиње забрана употребе зимских пнеуматика или ланаца за снег,
- в) место на путу одакле престаје да важи обавеза ношења ланаца за снег која је пре тог места успостављена одговарајућим саобраћајним знаком постављеним на том путу.

2

154. Саобраћајни знак приказан на слици означава:



- а) место на путу на којем се завршава стаза за јахаче,
- б) место где се завршава зона успореног саобраћаја,
- в) место где се завршава део пута на коме домаће животиње под надзором прелазе преко пута или се крећу дуж пута.

2

152. Саобраћајни знак приказан на слици означава:



- а) близину места на коме се бициклисти често прикључују на пут или га прелазе,
- б) место на путу на којем се завршава бициклистичка стаза,
- в) пут односно део пута на коме је забрањен саобраћај за бицикле.

2

155. Саобраћајни знак приказан на слици означава:



- а) место на путу на којем се завршава спојена бициклистичка и пешачка стаза
- б) пут по коме се одвојено крећу само бициклисти и пешаци, у својим стазама,
- в) место где се завршава зона успореног саобраћаја.

2

153. Саобраћајни знак приказан на слици означава:



- а) место на путу где се завршава зона успореног саобраћаја,
- б) место на путу где се завршава пешачка зона,
- в) место на путу на којем се завршава пешачка стаза.

2

156. Саобраћајни знак приказан на слици означава:



- а) место у насељу одакле се улази у зону у којој је спроведено опште ограничење трајања паркирања на одређено време, без обзира да ли се за паркирање на одређено време плаћа накнада или се не плаћа,
- б) страну пута на којој је забрањено паркирање возила,
- в) страну пута на којој је забрањено заустављање и паркирање возила.

2

157. Саобраћајни знак приказан на слици означава:



- а) гаражу са паркинг местима,
- б) паркиралиште на коме је паркирање возила временски ограничено,
- в) паркиралиште.

2

160. Саобраћајни знак приказан на слици означава:



- а) гаражу са паркинг местима,
- б) паркиралиште на коме је паркирање возила временски ограничено,
- в) паркиралиште.

2

158. Саобраћајни знак приказан на слици означава:



- а) страну пута на којој престаје забрана паркирања возила,
- б) страну пута на којој престаје забрана заустављања и паркирања возила,
- в) место у насељу на коме се излази из зоне у којој је спроведено опште ограничење трајања паркирања на одређено време.

2

161. Саобраћајни знак приказан на слици означава:



- а) гаражу са паркинг местима,
- б) паркиралиште на коме је паркирање возила временски ограничено,
- в) паркиралиште где возило може да се паркира и да се путовање настави неким другим транспортним средством, које може бити приказано симболом.

2

159. Саобраћајни знак приказан на слици означава:



- а) гаражу са паркинг местима,
- б) паркиралиште на коме је паркирање возила временски ограничено,
- в) паркиралиште где возило може да се паркира и да се путовање настави неким другим транспортним средством, које може бити приказано симболом.

2

162. Саобраћајни знак приказан на слици означава:



- а) близину места на коме се налази радионица за оправку возила,
- б) близину места или место на коме се налази објекат за вршење техничких прегледа возила,
- в) близину места или место у коме се налази служба за пружање помоћи у случају кvara на возилу.

2



163. Саобраћајни знак приказан на слици означава:



а) близину болнице и упозорење возачу да својим возилом не ствара сувишну буку,
 б) близину места или место на коме се налази станица за прву помоћ,
 в) близину места или место на коме се налази здравствена установа у којој се врше здравствени прегледи возача.

2

166. Саобраћајни знак приказан на слици означава:



а) близину места или место на коме се налази бензинска станица,
 б) близину места или место на коме се налази телефонска говорница,
 в) близину места или место у коме се могу добити туристичке информације.

2

164. Саобраћајни знак приказан на слици означава:



а) близину места или место на коме се налази телефонска говорница,
 б) близину места или место у коме се могу добити туристичке информације,
 в) близину места или место на којем је могуће користити телефон за време војње.

2

167. Саобраћајни знак приказан на слици означава:



а) близину места или место на коме се налази хотел односно мотел,
 б) близину места или место на коме се налази ресторан,
 в) близину места или место на коме се налази кафана.

2

165. Саобраћајни знак приказан на слици означава:



а) близину болнице и упозорење возачу да својим возилом не ствара сувишну буку,
 б) близину места или место на коме се налази станица за прву помоћ,
 в) близину места или место на коме се налази здравствена установа у којој се врше здравствени прегледи возача.

2

168. Саобраћајни знак приказан на слици означава:



а) близину места или место на коме се налази хотел односно мотел,
 б) близину места или место на којем су постављени елементи за успоравање саобраћаја,
 в) близину места или место на коме се налази терен за камповање.

2



169. Саобраћајни знак приказан на слици означава:



- а) близину места или место на коме се налази терен уређен за излетнике,
- б) близину терена или терен уређен за камповање под шаторима,
- в) близину места или место на коме се налази планинарски дом.

2

172. Саобраћајни знак приказан на слици означава:



- а) близину места или место на коме се налази терен уређен за излетнике,
- б) близину терена или терен за боравак у приколицама,
- в) близину терена или терен за камповање под шаторима и у приколицама.

2

170. Саобраћајни знак приказан на слици означава:



- а) близину места или место на коме се налази хотел односно мотел,
- б) близину места или место на коме се налази ресторан,
- в) близину места или место на коме се налази кафана.

2

173. Саобраћајни знак приказан на слици означава:



- а) близину места на коме се налази радионица за оправку возила,
- б) близину места или место на коме се налази објекат за вршење техничких прегледа возила,
- в) близину места или место у коме се налази служба за пружање помоћи у случају квара на возилу.

2

171. Саобраћајни знак приказан на слици означава:



- а) близину места или место на коме се налази терен уређен за излетнике,
- б) близину терена или терен уређен за камповање под шаторима,
- в) близину места или место на коме се налази планинарски дом.

2

174. Саобраћајни знак приказан на слици означава:



- а) близину места или место на коме се налази терен уређен за излетнике,
- б) близину терена или терен за боравак само у приколицама,
- в) близину терена или терен за камповање под шаторима и у приколицама.

2

175. Саобраћајни знак приказан на слици означава:



- а) близину места или место на коме се налази терен уређен за излетнике,
- б) близину терена или терен уређен за камповање под шаторима,
- в) близину места или место на коме се налази планинарски дом.

2

178. Саобраћајни знак приказан на слици означава:



- а) близину места на коме пут наилази на речну, односно морску обалу,
- б) близину места на коме се на путу налази покретни мост,
- в) близину луке, пристаништа, односно трајекта или место у коме се налази лука, пристаниште, односно трајект.

2

176. Саобраћајни знак приказан на слици означава:



- а) близину места или место у коме се налази служба за гашење пожара,
- б) близину места или место на коме је обавезно гашење отвореног пламена помоћу апарата за гашење почетних пожара који је саставни део опреме возила,
- в) близину места или место где постоји апарат за гашење почетних пожара.

2

179. Саобраћајни знак приказан на слици означава:



- а) близину места на коме пут прелази преко трамвајске пруге у нивоу,
- б) близину места на коме пут прелази преко железничке пруге у нивоу,
- в) место на коме се налази трамвајска станица.

2

177. Саобраћајни знак приказан на слици означава:



- а) саобраћајну траку која је намењена само за кретање возила јавног превоза путника,
- б) место на коме се налази аутобуско стајалиште,
- в) место на коме се налази трамвајска станица.

2

180. Саобраћајни знак приказан на слици означава:



- а) да је планински пут, односно прелаз преко планинског врха отворен или затворен,
- б) назив путног објекта од посебног значаја (вијадукт, тунел и сл.),
- в) назив планинског превоја.

2

181. Саобраћајни знак приказан на слици означава:



а) близину аеродрома или место аеродрома,
 б) део пута преко кога авиони прелећу у ниском лету приликом слетања односно полетања,
 в) близину дела пута на коме је честа појава јаког бочног ветра изазваног летом авиона.

2

185. Саобраћајни знак приказан на слици означава:



а) близину места или место на коме се налази станица полиције,
 б) близину раскрснице на којој је саобраћај регулисан од стране полицијских службеника,
 в) близину места где је забрањен пролаз без заустављања и одобрења полицијског службеника.

2


182. Саобраћајни знак приказан на слици означава:



а) број серпентине са надморском висином,
 б) број путног објекта од посебног значаја са надморском висином (вијадукт, тунел и сл.),
 в) број планинског превоја са надморском висином.

2

186. Саобраћајни знак приказан на слици означава:



а) близину раскрснице на којој возач мора да уступи првенство пролаза возилима која се крећу по путу на који он наилази,
 б) место пред улазом у раскрсницу на коме је возач дужан да заустави возило и уступи првенство пролаза возилима која се крећу путем на који он наилази,
 в) пут или део пута на коме возила имају првенство пролаза у односу на возила која се крећу путевима који се укрштају с тим путем односно делом пута.

2


183. Саобраћајни знак приказан на слици означава:



а) назив реке преко које пут прелази,
 б) назив путног објекта од посебног значаја,
 в) назив туристичког одређишта.

2

187. Саобраћајни знак приказан на слици означава:



а) место на коме се завршава пут или део пута са првенством пролаза,
 б) обавештење учесницима у саобраћају о једносмерном путу,
 в) пут или део пута на коме возила имају првенство пролаза у односу на возила која се крећу путевима који се укрштају с тим путем односно делом пута.

2

184. Саобраћајни знак приказан на слици означава:



а) назив путног објекта од посебног значаја и његову удаљеност од саобраћајног знака (вијадукт, тунел и сл.),
 б) назив путног објекта од посебног значаја (вијадукт, тунел и сл.),
 в) назив путног објекта од посебног значаја и његова надморска висина.

2



188. Саобраћајни знак приказан на слици означава:



а) назив планиског превоја са дужином пута који се пружа преко превоја,
 б) назив путног објекта од посебног значаја са надморском висином (вијадукт, тунел и сл.),
 в) планински превој са надморском висином.

2


191. Саобраћајни знак приказан на слици означава:



а) обавештење учесницима у саобраћају о једносмерном путу,
 б) смер којим није дозвољено кретање возила,
 в) смер којим се возила морају кретати.

2

189. Саобраћајни знак приказан на слици означава:



а) пут односно део пута на коме се возила у нормалним условима морају кретати најмање оном брзином (у km/h) која је означена на знаку,
 б) пут односно део пута на коме се возила не смеју кретати брзином (у km/h) већом од брзине која је означена на знаку,
 в) брзину која се препоручује на одређеном делу пута.

2

192. Саобраћајни знак приказан на слици означава:



а) обавештење учесницима у саобраћају о једносмерном путу,
 б) смер којим није дозвољено кретање возила,
 в) смер којим се возила морају кретати.

2

190. Саобраћајни знак приказан на слици означава:



а) назив улице,
 б) назив туристичког одређишта,
 в) близину места на којем се налази културно историјски објекат.

2

193. Саобраћајни знак приказан на слици означава:



а) претходно обавештење возачу ради претстројавања на раскрсници на путевима са више саобраћајних трака,
 б) близину и положај пута који нема излаз (слепи пут),
 в) близину места или места на коме се налази станица за прву помоћ.

2






194. Саобраћајни знак приказан на слици означава:



- а) приближавање кривини на лево, опасној због физичких карактеристика или недовољне прегледности,
- б) пут са једносмерним саобраћајем,
- в) место где се налази на оштру кривину.

2

198. Саобраћајни знак приказан на слици означава:



- а) место где се налази на оштру кривину,
- б) приближавање делу пута са више опасних кривина од којих је прва надесно,
- в) приближавање кривини на десно, опасној због физичких карактеристика или недовољне прегледности.

2

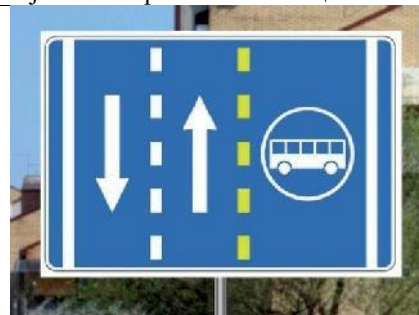
195. Саобраћајни знак приказан на слици означава:



- а) место где се налази на оштру кривину,
- б) пут са једносмерним саобраћајем,
- в) приближавање кривини на десно, опасној због физичких карактеристика или недовољне прегледности.

2


199. Саобраћајни знак приказан на слици означава:



- а) саобраћајну траку која је намењена само за кретање аутобуса,
- б) место на коме се налази аутобуско стајалиште,
- в) саобраћајну траку која је намењена само за кретање возила јавног превоза путника.

2

196. Саобраћајни знак приказан на слици означава:



- а) приближавање кривини на лево, опасној због физичких карактеристика или недовољне прегледности,
- б) место где се налази на оштру кривину,
- в) приближавање делу пута са више опасних кривина од којих је прва налево.

2

197. Саобраћајни знак приказан на слици означава:



- а) место изласка са аутопута,
- б) место изласка са путног објекта,
- в) место изласка из тунела у случају опасности.

2

200. Саобраћајни знак приказан на слици означава:



- а) место на коме се завршава саобраћајна трака која је намењена само за кретање аутобуса,
- б) саобраћајну траку којом је забрањено кретање аутобуса,
- в) место на коме се завршава саобраћајна трака намењена само за кретање возила јавног превоза путника.

2



201. Саобраћајни знак приказан на слици означава:



- а) место од којег почиње зона школе,
- б) близину дела пута на коме се деца чешће и у већем броју крећу (близина школе, обданишта, игралишта и сл.),
- в) место у чијој се близини налази школа и пешачки прелаз који деца често користе.

2

202. Саобраћајни знак приказан на слици означава:



- а) опште ограничење највеће дозвољене брзине у Републици Србији према врсти пута и обавезе употребе светала,
- б) обавештење о брзинама које се препоручују на путевима у Републици Србији, у нормалним условима саобраћаја и са укљученим светлима за осветљавање пута,
- в) обавештење о ограничењу средње брзине кретања према врсти пута у Републици Србији и обавезе употребе светала.

2

203. Саобраћајни знак приказан на слици означава:



- а) назив путног објекта од посебног значаја и растојање од саобраћајног знака до објекта,
- б) место изласка са пута до вишенаменског објекта,
- в) наилазак на вишенаменски објекат на путу чији се садржај означава пиктограмима.

2

204. Саобраћајни знак приказан на слици означава:



- а) почетак саобраћајне траке којом се возила не смеју кретати брзином већом од брзине која је означена на знаку,
- б) почетак саобраћајне траке којом се морају кретати возила која се крећу брзином мањом од брзине означене на знаку,
- в) место на коме се завршава трака којом се морају кретати возила која се крећу брзином мањом од брзине означене на знаку.

2

205. Саобраћајни знак приказан на слици означава:



- а) место на коме се завршава трака којом се морају кретати возила која се крећу брзином мањом од брзине означене на знаку,
- б) почетак саобраћајне траке којом се морају кретати возила која се крећу брзином мањом од брзине означене на знаку,
- в) место на коме се завршава трака којом се морају кретати возила која се крећу брзином већом од брзине означене на знаку.

2



206. Саобраћајни знак приказан на слици означава:



- а) смер кретања до путног објекта од посебног значаја,
- б) место изласка са пута до вишенаменског објекта,
- в) наилазак на вишенаменски објекат на путу чији се садржај означава пиктограмима.

2

209. Саобраћајни знак приказан на слици означава:



- а) завршетак зоне школе,
- б) завршетак пешачке стазе,
- в) крај пешачке зоне.

2

207. Саобраћајни знак приказан на слици означава:



- а) почетак зоне намењене искључиво за кретање пешака,
- б) место од којег почиње зона школе,
- в) место од којег почиње пешачка стаза.

2

210. Саобраћајни знак приказан на слици означава:



- а) зону у којој је брзина кретања возила ограничена до 30 km/h,
- б) место од којег почиње зона успореног саобраћаја,
- в) место од којег почиње зона школе.

2

208. Саобраћајни знак приказан на слици означава:



- а) завршетак пешачке зоне,
- б) завршетак зоне школе,
- в) место где се завршава зона успореног саобраћаја.

2

211. Саобраћајни знак приказан на слици означава:



- а) почетак зоне намењене искључиво за кретање пешака,
- б) место од којег почиње зона школе,
- в) место од којег почиње зона успореног саобраћаја.

2



212. Саобраћајни знак приказан на слици означава:



- а) завршетак зоне у којој је ограничена брзина кретања возила до 30 km/h,
- б) место где се завршава зона успореног саобраћаја,
- в) место где се завршава зона школе.

2

213. Саобраћајни знак приказан на слици означава:



- а) близину дела пута на коме је коловоз нераван због близине опасног превоја пута или веће избочине на коловозу,
- б) близину дела пута на коме је коловоз нераван због постојања опасних избочина и улегнућа,
- в) наилазак на место где су постављени елементи за успоравање саобраћаја.

2

214. Саобраћајни знак приказан на слици означава:



- а) место на коме се налази подземни или надземни пешачки пролаз,
- б) излаз за пешаке у случају опасности,
- в) близину објекта намењеног за рекреацију и спортске активности, са леве стране пута.

2

215. Саобраћајни знак приказан на слици означава:



- а) наилазак на посебно опасну деоницу пута и њену дужину,
- б) наилазак на опасно место на путу и његову удаљеност од саобраћајног знака,
- в) удаљеност до излаза са пута ради обиласка опасне деонице.

2

216. Саобраћајни знак приказан на слици означава:



- а) близину дела пута на коме се деца чешће и у већем броју крећу,
- б) место од којег почиње зона школе,
- в) место од којег почиње зона успореног саобраћаја.

2

217. Саобраћајни знак приказан на слици означава:



- а) место где се завршава део пута на којем се деца чешће и у већем броју крећу,
- б) завршетак зоне школе,
- в) место где се завршава зона успореног саобраћаја.

2



218. Саобраћајни знак приказан на слици означава:



- а) да одређена саобраћајна трака није намењена за кретање појединих врста возила чији је симбол приказан на знаку,
- б) да је одређена саобраћајна трака намењена за кретање врсте возила чији је симбол приказан на знаку,
- в) да је на тој деоници пута забрањено кретање врсте возила чији је симбол приказан на знаку.

2

221. Саобраћајни знак приказан на слици означава:



- а) излаз за пешаке у случају опасности,
- б) близину објекта намењеног за рекреацију и спортске активности, са десне стране пута,
- в) место на коме се налази подземни или надземни пешачки пролаз.

2

219. Саобраћајни знак приказан на слици означава:



- а) близину дела пута на коме постоји опасност због загушења саобраћаја,
- б) приближавање сужењу коловоза које може да представља извесну опасност,
- в) место где се због завршавања саобраћајне траке, сужења коловоза и смањења броја саобраћајних трака, возила наизменично укључују у једну саобраћајну траку.

2

222. Саобраћајни знак приказан на слици означава:



- а) удаљеност до објекта намењеног за рекреацију и спортске активности, са леве стране пута,
- б) излаз за пешаке у случају опасности,
- в) смер у коме се налази излаз за случај опасности и удаљеност до њега.

2

220. Саобраћајни знак приказан на слици означава:



- а) близину места на којем се налази надвожњак на путу,
- б) место на коме се завршава аутопут,
- в) место одакле почиње аутопут.

2

223. Саобраћајни знак приказан на слици означава:



- а) излаз за пешаке у случају опасности,
- б) смер у коме се налази излаз за случај опасности и удаљеност до њега,
- в) удаљеност до објекта намењеног за рекреацију и спортске активности, са десне стране пута.

2





224. Саобраћајни знак приказан на слици означава:



- а) почетак деонице на којој се врши контрола брзине кретања возила,
- б) почетак деонице пута на којој је обавезно поштовање највеће дозвољене брзине кретања возила,
- в) почетак деонице пута на којој је обавезно поштовање највеће дозвољене брзине кретања возила, када возачи који долазе из супротног смера дају светлосни знак упозорења.

2

227. Саобраћајни знак приказан на слици означава:



- а) место одакле почиње мотопут,
- б) паркиралишта за путничка возила,
- в) место одакле почиње аутопут.

2

225. Саобраћајни знак приказан на слици означава:



- а) пут којим се возило мора кретати ако намерава да скрене улево на следећој раскрсници на којој је скретање улево забрањено,
- б) раскрсницу на којој је скретање улево забрањено,
- в) смер кретања обилазним путем на месту где се изводе радови.

2

228. Саобраћајни знак приказан на слици означава:



- а) територију и назив насељеног места у које улази пут и границу од које почиње то насељено место,
- б) место од кога почиње насеље и од кога се примењују прописи о саобраћају у насељу,
- в) одредиште или објекат туристичког или историјског значаја.

2

226. Саобраћајни знак приказан на слици означава:



- а) правац пута до одредишта или карактеристичног објекта,
- б) претходно обавештење возачу ради претстројавања на раскрсници на путевима са више саобраћајних трака,
- в) потврду правца кретања после проласка раскрснице.

2

229. Саобраћајни знак приказан на слици означава:



- а) место од кога почиње насеље и од кога се примењују прописи о саобраћају у насељу,
- б) територију насељеног места у које улази пут и границу од које почиње то насељено место,
- в) одредиште или објекат туристичког или историјског значаја.

2



230. Саобраћајни знак приказан на слици означава:



- а) место на коме се завршава насељено место кроз које пролази пут,
- б) место на коме се завршава насеље и од кога престају да важе прописи о саобраћају у насељу,
- в) место на коме се завршава одредиште или објекат туристичког или историјског значаја.

2

233. Саобраћајни знак приказан на слици означава:



- а) место одакле престаје забрана успостављена саобраћајним знаком којим је забрањено да теретна возила чија највећа дозвољена маса прелази 3,5 t претичу друга моторна возила, осим мотоцикала без приколице, мопеда, лаких трицикала и лаких четвороцикала,
- б) пут односно део пута на коме је забрањено да теретна возила чија највећа дозвољена маса прелази 3,5 t претичу друга моторна возила осим мотоцикала без приколице, мопеда, лаких трицикала и лаких четвороцикала,
- в) место одакле престаје забрана претицања за путничка возила да претичу теретна возила.

2

231. Саобраћајни знак приказан на слици означава:



- а) место одакле престаје забрана успостављена саобраћајним знаком којим је забрањено претицање свих моторних возила, осим мотоцикла без приколице, мопеда, лаких трицикала и лаких четвороцикала,
- б) пут односно део пута на коме је забрањено претицање свих моторних возила, осим мотоцикала без приколице, мопеда, лаких трицикала и лаких четвороцикала,
- в) место одакле престаје забрана претицања за теретна возила чија највећа дозвољена маса прелази 3,5 t да претичу друга моторна возила.

2

234. Саобраћајни знак приказан на слици означава:



- а) место одакле престаје ограничење брзине,
- б) место одакле престаје обавеза кретања најмање прописаном брзином,
- в) место одакле престаје обавеза кретања брзином која је препоручена на одређеном делу пута.

2


232. Саобраћајни знак приказан на слици означава:



- а) место одакле престаје ограничење брзине,
- б) место одакле престаје обавеза кретања најмање прописаном брзином,
- в) место одакле престаје обавеза кретања брзином која је препоручена на одређеном делу пута.

2

235. Саобраћајни знак приказан на слици означава:



- а) место на путу одакле престају да важе одговарајуће забране и обавезе које су пре тог места успостављене саобраћајним знаковима постављеним на том путу,
- б) место на путу одакле престају да важе сви саобраћајни знакови који су постављени на том путу до тог места,
- в) место на путу одакле престају да важе сви саобраћајни знакови опасности који су постављени на том путу до тог места.

2

236. Саобраћајни знак приказан на слици означава:



- међусобни положај и правце путева и називе места до којих воде путеви који се укрштају на раскрсници испред које је знак постављен,
- претходно обавештење возачу ради престројавања на раскрсници на путевима са више саобраћајних трака,
- потврду правца кретања после проласка раскрснице.

2

238. Саобраћајни знак приказан на слици означава:



- међусобни положај и правце путева и називе места до којих воде путеви који се укрштају,
- претходно обавештење возачу ради престројавања на раскрсници на путевима са више саобраћајних трака,
- потврду правца кретања после проласка раскрснице.

2

237. Саобраћајни знак приказан на слици означава:



- претходно обавештење возачу ради престројавања на раскрсници на путевима са више саобраћајних трака,
- међусобни положај и правце путева и називе места до којих воде путеви који се укрштају на раскрсници испред које је знак постављен,
- потврду правца кретања после проласка раскрснице.

2

239. Саобраћајни знак приказан на слици означава:



- потврду правца кретања после проласка раскрснице,
- пут са једносмерним саобраћајем,
- правац пута до одредишта или карактеристичног објекта.

2

240. Саобраћајни знак приказан на слици означава:



- а) правац пута, односно путева, за насељено место, односно насељена места, исписана на знаку и поставља се на раскрсници где се путеви укрштају,
- б) претходно обавештење возачу ради рестројавања на раскрсници на путевима са више саобраћајних трака и поставља се испред раскрснице где се путеви укрштају,
- в) потврду правца кретања после проласка раскрснице где се путеви укрштају.

2

242. Саобраћајни знак приказан на слици означава:



- а) место на коме се завршава аутопут,
- б) правац кретања до насељених места исписаних на знаковима,
- в) потврду правца кретања после проласка раскрснице где се путеви укрштају.

2

241. Саобраћајни знак приказан на слици означава:



- а) претходно обавештење возачу ради рестројавања на раскрсници на путевима са више саобраћајних трака,
- б) међусобни положај и правце путева и називе места до којих воде путеви који се укрштају,
- в) потврду правца кретања после проласка раскрснице.

2

243. Саобраћајни знак приказан на слици означава:



- а) правац кретања до насељеног места исписаног на знаку,
- б) место на коме се завршава аутопут,
- в) потврду правца кретања после проласка раскрснице где се путеви укрштају.

2



244. Саобраћајни знак приказан на слици означава:



- а) место на коме се завршава аутопут,
- б) потврду правца кретања после проласка раскрснице где се путеви укрштају,
- в) правац кретања до насељеног места исписаног на знаку.

2

246. Саобраћајни знак приказан на слици означава:



- а) обавештење возачима о коришћењу саобраћајне траке за кретање до насељеног места исписаног на знаку и поставља се изнад саобраћајне траке,
- б) потврду правца кретања после проласка раскрснице где се путеви укрштају,
- в) обавештење о називу петље на коју се наилази.

2

245. Саобраћајни знак приказан на слици означава:



- а) место на коме почиње мотопут,
- б) потврду правца кретања после проласка раскрснице где се путеви укрштају,
- в) правац кретања до насељеног места исписаног на знаку.

2

247. Саобраћајни знак приказан на слици означава:



- а) обавештење возачима о коришћењу саобраћајне траке за кретање до насељеног места исписаног на знаку и поставља се изнад саобраћајне траке,
- б) потврду правца кретања после проласка раскрснице где се путеви укрштају,
- в) обавештење о називу петље на коју се наилази.

2





248. Саобраћајни знак приказан на слици означава:



- а) обавештење возачима о коришћењу саобраћајне траке за кретање до насељеног места исписаног на знаку и поставља се изнад саобраћајне траке,
- б) потврду правца кретања после проласка раскрснице где се путеви укрштају,
- в) обавештење о називу петље на коју се наилази.

2

250. Саобраћајни знак приказан на слици означава:



- а) потврду правца кретања после проласка раскрснице где се путеви укрштају.
- б) обавештење о називу петље на коју се наилази,
- в) положај путног правца до насељеног места исписаног на знаку.

2

249. Саобраћајни знак приказан на слици означава:



- а) положај путних праваца до насељених места исписаних на знаку,
- б) потврду правца кретања после проласка раскрснице где се путеви укрштају,
- в) обавештење о називу петље на коју се наилази.

2

251. Саобраћајни знак приказан на слици означава:



- а) потврду правца кретања после проласка раскрснице где се путеви укрштају.
- б) обавештење о називу петље на коју се наилази,
- в) положај путног правца до насељеног места исписаног на знаку.

2



252. Саобраћајни знак приказан на слици означава:



- пут којим се возило мора кретати ако намерава да скрене улево на следећој раскрсници на којој је скретање улево забрањено,
- смер и ток преусмереног саобраћаја када је због радова на путу, привремених препрека или оштећења коловоза, пут затворен,
- близину и положај пута који нема излаз.

2

254. Саобраћајни знак приказан на слици:



- служи за усмеравање возила на обилазни пут,
- означава пут са једносмерним саобраћајем,
- означава правац кретања до одређеног објекта туристичког значаја.

2

253. Саобраћајни знак приказан на слици означава:



- место где се врши скретање саобраћајних трака, при чему број саобраћајних трака остаје исти,
- приближавање кривини на десно, опасној због физичких карактеристика или недовољне прегледности,
- приближавање делу пута са више кривина или са узастопним кривинама, које су опасне по својим физичким карактеристикама или због недостатка прегледности.

2

255. Саобраћајни знак приказан на слици означава:



- удаљеност до места на путу са кривином на десно, опасној због физичких карактеристика или недовољне прегледности,
- удаљеност до места на путу са више кривина или са узастопним кривинама, које су опасне по својим физичким карактеристикама или због недостатка прегледности,
- удаљеност до места где се врши скретање саобраћајних трака, при чему број саобраћајних трака остаје исти.

2

256. Саобраћајни знак приказан на слици означава:



- а) место где почиње затварање једне саобраћајне траке намењене за кретање у истом смеру,
- б) приближавање сужењу коловоза са леве стране које може да представља извесну опасност,
- в) почетак саобраћајне траке којом се морају кретати спора возила.

2

258. Саобраћајни знак приказан на слици означава:



- а) удаљеност до места на коме се затвара једна саобраћајна трака,
- б) удаљеност до места сужења коловоза са леве стране које може да представља извесну опасност,
- в) удаљеност до места где почиње саобраћајна трака којом се морају кретати спора возила.

2

257. Саобраћајни знак приказан на слици означава:



- а) место где почиње затварање једне саобраћајне траке намењене за кретање у истом смеру,
- б) приближавање сужењу коловоза са десне стране које може да представља извесну опасност,
- в) завршетак саобраћајне траке којом се морају кретати спора возила.

2

259. Саобраћајни знак приказан на слици означава:



- а) удаљеност до места на коме се затвара једна саобраћајна трака,
- б) удаљеност до места сужења коловоза са десне стране које може да представља извесну опасност,
- в) удаљеност до места где се завршава саобраћајна трака којом се морају кретати спора возила.

2

260. Саобраћајни знак приказан на слици означава:



- а) означава близину места где се двосмерни саобраћај са дела пута на којем су коловозне траке физички раздвојене преусмерава на део пута на којем коловозне траке нису физички раздвојене, односно раздвојене су ознакама на коловозу
- б) удаљеност до места где почиње саобраћајна трака којом се морају кретати спора возила,
- в) удаљеност до пешачких острва, острва за усмеравање саобраћаја и других објеката на коловозу и правац којим се морају кретати возила приликом њиховог обилажења.

2

262. Саобраћајни знак приказан на слици означава:



- а) означава близину места где се двосмерни саобраћај са дела пута на којем коловозне траке нису физички раздвојене, односно раздвојене су ознакама на коловозу, одвија на делу пута на којем су коловозне траке физички раздвојене,
- б) удаљеност до места где почиње саобраћајна трака којом се морају кретати спора возила,
- в) удаљеност до пешачких острва, острва за усмеравање саобраћаја и других објеката на коловозу и правац којим се морају кретати возила приликом њиховог обилажења.

261. Саобраћајни знак приказан на слици означава:



- а) удаљеност до места где почиње саобраћајна трака којом се морају кретати спора возила,
- б) удаљеност до пешачких острва, острва за усмеравање саобраћаја и других објеката на коловозу и правац којим се морају кретати возила приликом њиховог обилажења,
- в) означава близину места где се двосмерни саобраћај са дела пута на којем коловозне траке нису физички раздвојене, односно раздвојене су ознакама на коловозу, преусмерава на део пута на којем су коловозне траке физички раздвојене.

263. Саобраћајни знак приказан на слици означава:



- а) удаљеност до места где почиње саобраћајна трака којом се морају кретати спора возила,
- б) удаљеност до пешачких острва, острва за усмеравање саобраћаја и других објеката на коловозу и правац којим се морају кретати возила приликом њиховог обилажења.
- в) означава близину места где се двосмерни саобраћај са дела пута на којем су коловозне траке физички раздвојене одвија на делу пута на којем коловозне траке нису физички раздвојене, односно раздвојене су ознакама на коловозу.



264. Саобраћајни знак приказан на слици означава:



- а) обавештење возачима о удаљености до места на коме полицијски службеник врши контролу саобраћаја.
- б) обавештење возачима о удаљености до места на коме се одржава спортска приредба на путу,
- в) обавештење возачима о удаљености до места на коме је, због радова на путу, привремених препрека или оштећења коловоза, уведено наизменично пропуштање возила, које непосредно регулишу овлашћена лица.

2

267. Саобраћајни знак приказан на слици означава:



- а) удаљеност до улаза пута на територију насељеног места и границе од које почиње то насељено место,
- б) одредиште или објекат туристичког значаја и садржи назив туристичког одредишта, симбол (графички приказ) и удаљеност до одредишта,
- в) удаљеност до места од кога почиње насеље и од кога се примењују прописи о саобраћају у насељу.

2

265. Саобраћајни знак приказан на слици означава:



- а) да је одређена саобраћајна трака намењена за кретање врсте возила чији је симбол приказан на знаку,
- б) да је на тој деоници пута забрањено кретање врсте возила чији је симбол приказан на знаку,
- в) да одређена саобраћајна трака није намењена за кретање појединих врста возила чији је симбол приказан на знаку.

2

266. Допунска табла се поставља:

- а) изнад горње ивице саобраћајног знака на који се допунска табла односи,
- б) испод доње ивице саобраћајног знака на који се допунска табла односи,
- в) са леве или десне стране саобраћајног знака на који се допунска табла односи.

2

268. У ситуацији приказаној на слици допунска табла је саставни део:



- а) саобраћајног знака „Ограничење брзине“,
- б) саобраћајног знака „Забрана претицања свих моторних возила, осим мотоцикала без приколице“,
- в) оба саобраћајна знака.

2

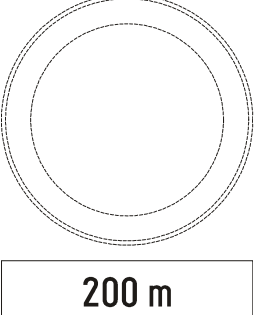
269. Допунска табла:
(Заокружити два тачна одговора)

- а) је саставни део саобраћајног знака уз који је постављена,
- б) је саобраћајни знак који означава правац пута за насељено место,
- в) ближе одређује значење саобраћајног знака уз који је постављена,
- г) је саобраћајни знак којим се, поруком у облику текста учесницима у саобраћају, саопштавају забране, ограничења и обавезе.

2



270. Допунска табла приказана на слици означава:

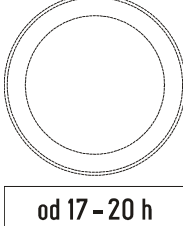


200 m

а) удаљеност између знака уз који је постављена допунска табла и почетка дела пута односно места на које се знак односи,
 б) дужину дела пута на коме прети опасност означена знаком, односно на коме се примењује изричита забрана, обавезе односно ограничење означено знаком,
 в) примену забране паркирања или заустављања возила до знака.

2

273. Допунска табла приказана на слици означава:



od 17 - 20 h

а) време за које изричита забрана, обавеза, односно ограничење не важи,
 б) време за које изричита забрана, обавеза, односно ограничење важи,
 в) додатна обавештења о врсти и начину коришћења временске зоне паркирања.

2

271. Допунска табла приказана на слици означава:




↑ 2000 m ↑

а) удаљеност између знака уз који је постављена допунска табла и почетка дела пута односно места на које се знак односи,
 б) дужину дела пута на коме прети опасност означена знаком, односно на коме се примењује изричита забрана, обавезе, односно ограничење означено знаком,
 в) примену забране паркирања или заустављања возила с једне или друге стране знака.

2


274. Допунске табле које садрже текстуалне поруке, као у ситуацији на слици:



а) речима дају додатна обавештења о врсти и начину коришћења временске зоне паркирања,
 б) речима дају обавештење које није у вези са значењем саобраћајног знака,
 в) речима стављају до знања забране, ограничења и обавезе којих се учесници у саобраћају морају придржавати.

2

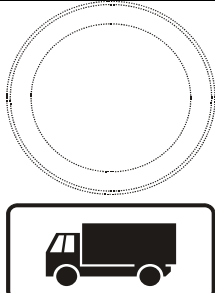
272. Допунска табла приказана на слици означава:



а) удаљеност између знака уз који је постављена допунска табла и почетка дела пута, на коме постоји опасност означена тим знаком,
 б) дужину дела пута на коме прети опасност означена саобраћајним знаком, односно на коме се примењује изричита забрана, обавезе, односно ограничење означено знаком,
 в) удаљеност између знака уз који је постављена допунска табла и објекта, терена или дела пута на који се обавештење односи.

2


275. Допунске табле које садрже поруке у облику симбола, као у ситуацији на слици:



а) симболом ближе одређују значење знакова уз које се истичу,
 б) симболом дају обавештења која нису у вези са значењем саобраћајних знакова,
 в) симболом стављају до знања забране, ограничења и обавезе којих се учесници у саобраћају морају придржавати.

2

276. Допунска табла приказана на слици означава:



- а) близину дела пута, односно места на коме постоји опасност од клизавог коловоза због настанка поледице или снега,
- б) временске услове у којима важи знаком означена опасност или изричита наредба, када је на коловозу снег,
- в) деоницу пута на коме се снег чисти машински и поставља се за време чишћења снега уз знак „Опасност на путу” (I-25).

2

277. Допунска табла приказана на слици означава:



- а) примену забране паркирања или заустављања возила 10 m са леве стране саобраћајног знака,
- б) примену забране паркирања или заустављања возила 10 m са десне стране саобраћајног знака,
- в) примену забране паркирања или заустављања возила 10 m иза саобраћајног знака.

2

278. Допунска табла приказана на слици, означава:



- а) примену забране паркирања или заустављања возила испред и иза саобраћајног знака,
- б) примену забране паркирања или заустављања возила иза саобраћајног знака,
- в) примену забране паркирања или заустављања возила испред саобраћајног знака.

2

279. Допунска табла приказана на слици означава:



- а) примену забране паркирања или заустављања возила испред и иза саобраћајног знака,
- б) примену забране паркирања или заустављања возила са леве и десне стране саобраћајног знака,
- в) примену забране паркирања или заустављања возила испред саобраћајног знака.

2

280. Допунска табла приказана на слици, постављена уз саобраћајни знак „Паркиралиште”, означава:



- а) паркирање на коловозу под углом, у односу на подужну осу коловоза,
- б) паркирање на коловозу паралелно са подужном осом коловоза,
- в) паркирање на коловозу управно на подужну осу коловоза.

2

281. Допунска табла приказана на слици, постављена уз саобраћајни знак „Паркиралиште”, означава:



а) паркирање на тротоару под углом у односу на подужну осу коловоза,
 б) паркирање на тротоару паралелно са подужном осом коловоза,
 в) паркирање на тротоару управно на подужну осу коловоза.

2


284. Допунска табла приказана на слици, постављена уз саобраћајни знак „Ограничење брзине”, означава:



а) да саобраћајни знак „Ограничење брзине“ важи када пада киша,
 б) да саобраћајни знак „Ограничење брзине“ важи када пада снег,
 в) да саобраћајни знак „Ограничење брзине“ не важи када пада киша.

2

282. Допунска табла приказана на слици, постављена уз саобраћајни знак, означава:



а) временске услове у којима важи знаком означена опасност или изричита наредба, и то када пада киша,
 б) временске услове у којима важи знаком означена опасност или изричита наредба, и то када је на коловозу снег,
 в) временске услове у којима важи знаком означена опасност или изричита наредба, и то када пада киша или снег.

2

285. Допунска табла приказана на слици, постављена уз саобраћајни знак „Укрштање са путем са првенством пролаза”, означава:



а) пружање пута са првенством пролаза,
 б) близину и положај пута који нема излаз (слепи пут),
 в) смер којим се возила морају кретати.

2

283. Допунска табла приказана на слици, постављена уз саобраћајни знак ограничење брзине, означава:



а) да изричита наредба дата знаком важи када је снег на коловозу,
 б) да изричита наредба дата знаком важи када пада снег,
 в) да изричита наредба дата знаком важи када пада снег или киша.

2

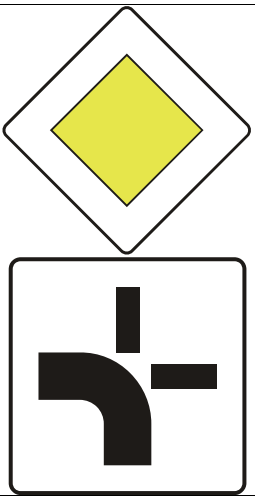
286. Допунска табла приказана на слици, постављена уз саобраћајни знак „Обавезно заустављање”, означава:



а) пружање пута са првенством пролаза,
 б) близину и положај пута који нема излаз (слепи пут),
 в) смер којим се возила морају кретати.

2

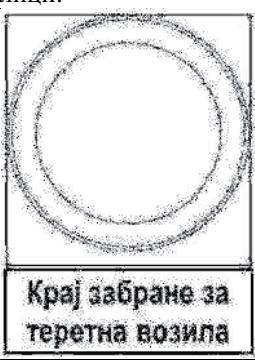
287. Допунска табла приказана на слици, постављена уз саобраћајни знак „Пут са првенством пролаза“, означава:



а) пружање пута са првенством пролаза,
 б) близину и положај пута који нема излаз (слепи пут),
 в) смер којим се возила морају кретати.

2

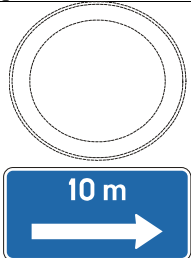
288. Допунска табла која садржи текстуалну поруку, као у ситуацији на слици:



а) речима ближе одређује значење саобраћајног знака,
 б) речима даје обавештење које није у вези са значењем саобраћајног знака,
 в) речима ставља до знања забране, ограничења и обавезе којих се учесници у саобраћају морају придржавати.

2

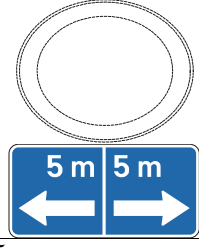
289. Допунска табла приказана на слици означава:



а) примену забране паркирања или заустављања возила 10 m са леве стране саобраћајног знака,
 б) примену забране паркирања или заустављања возила 10 m са десне стране саобраћајног знака,
 в) примену забране паркирања или заустављања возила 10 m иза саобраћајног знака.

2

290. Допунска табла приказана на слици означава:



а) примену забране паркирања или заустављања возила 5 m са леве и десне стране саобраћајног знака,
 б) примену забране паркирања или заустављања возила 5 m испред и иза саобраћајног знака,
 в) примену забране паркирања или заустављања возила 5 m са десне стране, испред и иза саобраћајног знака.

2

291. Допунска табла приказана на слици означава:



а) паркиралиште на коме је паркирање возила временски ограничено,
 б) положај паркиралишта или гараже и удаљеност до њега,
 в) паркиралиште у дужини од 200 m.

2

292. Допунска табла приказана на слици, постављена уз саобраћајни знак „Паркиралиште“, означава:




а) паркирање на тротоару под углом у односу на подужну осу коловоза,
 б) паркирање на тротоару паралелно са подужном осом коловоза,
 в) паркирање на тротоару управно на подужну осу коловоза.

2




293. Допунска табла приказана на слици, постављена уз саобраћајни знак „Паркиралиште”, означава:



а) паркирање на тротоару под углом у односу на подужну осу коловоза,
 б) паркирање на тротоару паралелно са подужном осом коловоза,
 в) паркирање на тротоару управно на подужну осу коловоза.

2

295. Допунска табла приказана на слици, постављена уз саобраћајни знак „Паркиралиште”, означава:



а) паркирање на тротоару и коловозу, под углом у односу на подужну осу коловоза,
 б) паркирање на тротоару и коловозу, паралелно са подужном осом коловоза,
 в) паркирање на тротоару и коловозу, управно на подужну осу коловоза.

2

294. Допунска табла приказана на слици, постављена уз саобраћајни знак „Паркиралиште”, означава:



а) паркирање на тротоару и коловозу, под углом у односу на подужну осу коловоза,
 б) паркирање на тротоару и коловозу, паралелно са подужном осом коловоза,
 в) паркирање на тротоару и коловозу, управно на подужну осу коловоза.

2

296. Допунска табла приказана на слици, постављена уз саобраћајни знак „Паркиралиште”, означава:




а) паркирање на тротоару и коловозу под углом у односу на подужну осу коловоза,
 б) паркирање на тротоару и коловозу паралелно са подужном осом коловоза,
 в) паркирање на тротоару и коловозу управно на подужну осу коловоза.

2



297.	Допунска табла приказана на слици, постављена уз саобраћајни знак „Паркиралиште”, означава:
	
	<ul style="list-style-type: none"> а) паркирање на коловозу под углом, у односу на подужну осу коловоза, б) паркирање на коловозу паралелно са подужном осом коловоза, в) паркирање на коловозу управно на подужну осу коловоза.
	2

299.	Допунска табла приказана на слици, постављена уз саобраћајни знак, означава:
	
	<ul style="list-style-type: none"> а) временске услове у којима важи знаком означена опасност или изричита наредба, и то када не пада киша, б) временске услове у којима важи знаком означена опасност или изричита наредба, и то када пада киша, в) временске услове у којима важи знаком означена опасност или изричита наредба, и то када пада снег.
	2

298.	Допунска табла приказана на слици, постављена уз саобраћајни знак „Опасност на путу”, означава:
	
	<ul style="list-style-type: none"> а) близину дела пута односно места на коме постоји опасност од клизавог коловоза због настанка поледице или снега, б) деоницу пута на коме се снег чисти машински, в) временске услове у којима важи знаком означена опасност или изричита наредба, и то када је на коловозу снег.
	2

300.	Допунска табла приказана на слици, постављена уз саобраћајни знак „Паркиралиште”, означава:
	
	<ul style="list-style-type: none"> а) паркирање на коловозу под углом, у односу на подужну осу коловоза, б) паркирање на коловозу паралелно са подужном осом коловоза, в) паркирање на коловозу управно на подужну осу коловоза.
	2


301. Допунска табла, постављена уз знак „Паркиралиште”, приказана на слици означава:



а) гаражу за возило лица са инвалидитетом,
 б) простор намењен за кретање лица са инвалидитетом у инвалидским колицима,
 в) да је паркиралиште, односно паркинг место, резервисано за возила лица са инвалидитетом.

2

302. Допунска табла приказана на слици, постављена уз саобраћајни знак, означава:



а) удаљеност до дела пута на коме постоје колотрази,
 б) врсту оштећења на коловозу и дужину пута на коју се односи.
 в) удаљеност до дела пута где не постоји изграђен коловозни застор.

2

303. Ознакама на коловозу се:
 (Заокружити три тачна одговора)

а) учесницима у саобраћају стављају до знања ограничења, забране и обавезе,
 б) означавају опасности на путу,
 в) врши усмеравање кретања учесника у саобраћају,
 г) дају информације о објектима од туристичког значаја,
 д) ближе одређује значење саобраћајног знака уз који су ознаке изведене,
 њ) учесницима у саобраћају дају обавештења.

2

304. Боја ознаке којима се обележавају места за одређене намене (аутобуска стајалишта, такси возила, полиција и др.) је:

а) жута,
 б) плава,
 в) бела.

2

305. Боја ознака на коловозу, по правилу, је:

а) бела,
 б) наранџаста,
 в) плава.

2

306. Боја ознака места на коловозу и тротоару на којима је забрањено паркирање је:

а) бела,
 б) плава,
 в) жута.

2

307. Ознаке на коловозу могу бити изведене као:
 (Заокружити три тачна одговора)

а) смерокази,
 б) стрелице,
 в) натписи и друге ознаке на коловозу и тротоару,
 г) значке за обележавање ивице коловоза,
 д) табле за означавање врха разделног острва,
 њ) линије.

2

308. Боја линије за одвајање саобраћајних трака за кретање возила јавног превоза путника је:

а) бела,
 б) жута,
 в) плава.

2

309. Боја привремених ознака на коловозу које се користе приликом извођења радова на путу је:

а) бела,
 б) жута,
 в) плава.

2

310. Уздужна линија која раздваја коловоз на коловозне траке, односно на саобраћајне траке, је:

а) разделна линија,
 б) ивична линија,
 в) линија упозорења.

2

311. Неиспрекидана разделна линија означава:

а) забрану прелажења преко те линије и забрану кретања по тој линији,
 б) забрану прелажења преко те линије или кретања по њој, само када на путу постоји саобраћајни знак „Забрана претицања“,
 в) означава место на коловозу непосредно пре кога возач мора да заустави возило.

2

312. Удвојена неиспрекидана разделна линија означава:

а) забрану прелажења преко те линије или кретања по њој, само када на путу постоји саобраћајни знак „Забрана претицања“,
 б) забрану прелажења преко те линије и забрану кретања по тој линији,
 в) означава место на коловозу непосредно пре кога возач мора да заустави возило.

2

313. Да ли су ознаке на коловозу и тротоару саобраћајни знакови?

а) Да.
 б) Не.

2

314. Линија водиља је:

а) разделна испрекидана линија која служи за усмеравање саобраћаја при кретању кроз раскрсницу,
 б) разделна удвојена комбинована линија која означава забрану преласка преко те линије или кретања по њој, за возила која се крећу коловозном траком коју додирује неиспрекидана линија,
 в) неиспрекидана разделна линија која означава забрану прелажења преко те линије и забрану кретања по тој линији.

2

315. У ситуацији приказаној на слици удвојена неискрикидана разделна линија, која означава забрану прелажења преко те линије и забрану кретања по тој линији је означена бројем:



а) 1, в) 3,
б) 2, г) 4.

2

319. Разделна удвојена комбинована линија, приказана на слици, даје могућност преласка преко линије:



а) путањом означеном бројем 1,
б) путањом означеном бројем 2,
в) било којом путањом.

2

316. У ситуацији приказаној на слици искрикидана разделна линија је означена бројем:



а) 1, в) 3,
б) 2, г) 4.

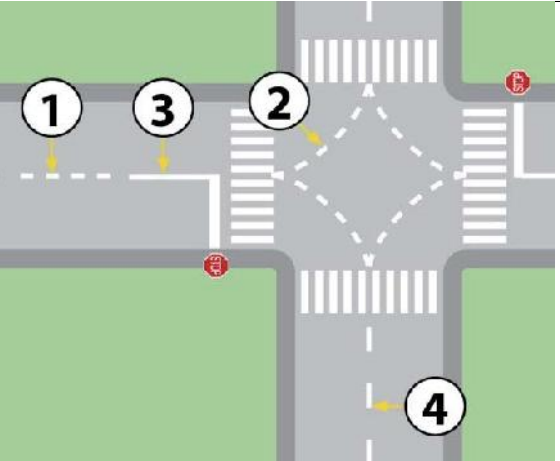
2

320. Разделна удвојена комбинована линија даје могућност преласка преко те линије или кретања по њој:

а) за возила која се крећу коловозном траком којој је ближа искрикидана линија,
б) за возила која се крећу коловозном траком којој је ближа неискрикидана линија,
в) за сва возила из обе коловозне траке под условом да не угрожавају возила из супротног смера.

2

317. У ситуацији приказаној на слици линија водила је означена бројем:



а) 1, в) 3,
б) 2, г) 4.

2

321. У ситуацији приказаној на слици, саобраћајна трака са изменљивим смером кретања на којој је саобраћај регулисан семафорима је означена бројем:



а) 1, б) 2, в) 3.

2

318. Разделна удвојена комбинована линија означава:

а) забрану преласка преко те линије или кретања по њој, за возила која се крећу коловозном траком којој је ближа искрикидана линија,
б) забрану преласка преко те линије за сва возила из обе коловозне траке,
в) забрану преласка преко те линије или кретања по њој, за возила која се крећу коловозном траком којој је ближа неискрикидана линија.

2

322. У ситуацији приказаној на слици уздужна линија која се користи за најављивање близине неискрикидане линије је означена бројем:



а) 1, б) 2, в) 3, г) 4.

2

323. У ситуацији приказаној на слици линија која означава ивицу возне површине коловоза је означена бројевима:



а) 1 и 4, в) 1 и 3,
б) 2 и 3, г) 1 и 2.

2

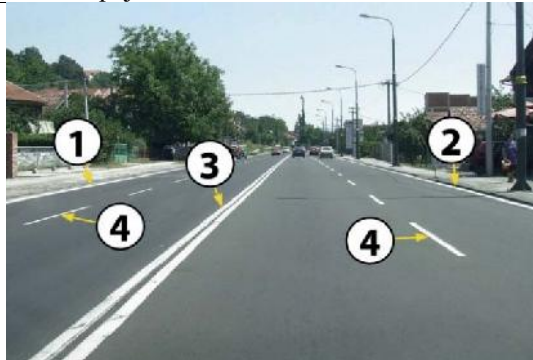
327. У ситуацији приказаној на слици, разделна линија која означава забрану прелажења преко те линије и забрану кретања по тој линији, означена је бројем:



а) 1,
б) 2,
в) 3,
г) 4.

2

324. У ситуацији приказаној на слици, разделна линија је означена бројевима:



а) 1 и 4,
б) 2 и 3,
в) 1 и 3,
г) 3 и 4.

2

328. Саобраћајна трака означена са разделним удвојеним испрекиданим линијама означава:
(Заокружити два тачна одговора)

а) да је она намењена само за претицање возила,
б) да се на њој одвија саобраћај са изменљивим смером кретања,
в) да је на њој саобраћај регулисан семафорима, постављеним изнад саобраћајне траке,
г) да је на њој саобраћај регулисан правилима саобраћаја.

2

325. У ситуацији приказаној на слици разделна линија која означава забрану прелажења преко те линије и забрану кретања по тој линији је означена бројем:



а) 1,
б) 2,
в) 3,
г) 4.

2

329. Уздужна линија која означава ивицу возне површине коловоза је:

а) разделна линија,
б) ивична линија,
в) линија упозорења.

2

326. Испрекидана линија заустављања, постављена испред саобраћајног знака „Укрштање са путем са првенством пролаза”, означава:

а) место на коловозу непосредно пре кога возач мора да заустави возило,
б) место на коловозу на коме је возач дужан да уступи првенство возилима која се крећу путем на који наилази и да, по потреби, заустави возило пре линије заустављања,
в) место на коловозу непосредно пре кога возач мора да заустави возило само ако је испред линије на коловозу обележен тај саобраћајни знак.

2

330. У ситуацији приказаној на слици црвено возило:



а) мора се зауставити непосредно пре линије заустављања,
б) мора се зауставити на линији прегледности,
в) може се зауставити пре линије заустављања или на линији прегледности.

2



331. У ситуацији приказаној на слици:



- а) морате се увек зауставити непосредно испред линије заустављања,
- б) морате се зауставити на линији прегледности или испред линије заустављања,
- в) зауставићете се пре линије заустављања ради уступања првенства пролаза, ако за то постоји потреба.

2

332. У ситуацији приказаној на слици:



- а) морате се увек зауставити непосредно испред линије заустављања,
- б) зауставићете се пре линије заустављања ради уступања првенства пролаза, ако за то постоји потреба,
- в) морате се зауставити на линији прегледности или испред линије заустављања.

2

333. У ситуацији приказаној на слици, возач који наилази на саобраћајни знак:



- а) морате се увек зауставити непосредно испред линије заустављања,
- б) зауставићете се пре линије заустављања ради уступања првенства пролаза, ако за то постоји потреба,
- в) морате се зауставити на линији прегледности или испред линије заустављања.

2

334. Испрекидана линија заустављања, постављена на прилазу раскрсници са путем са првенством пролаза на месту где не постоји саобраћајни знак „Укрштање са путем са првенством пролаза“, означава:

- а) место на коловозу непосредно пре кога возач мора да заустави возило,
- б) место на коловозу на коме је возач дужан да уступи првенство возилима која се крећу путем на који наилази и да, по потреби, заустави возило пре линије заустављања,
- в) место на коловозу непосредно пре кога возач мора да уступи првенство возилима која се крећу путем на који наилази само ако је испред те линије, на коловозу обележен и натпис у облику наведеног саобраћајног знака.

335. У ситуацији приказаној на слици бело возило:



- а) мора се увек зауставити непосредно испред линије заустављања,
- б) зауставиће се пре линије заустављања ради уступања првенства пролаза, ако за то постоји потреба,
- в) мора се зауставити на линији прегледности или испред линије заустављања.

2

336. У ситуацији приказаној на слици:



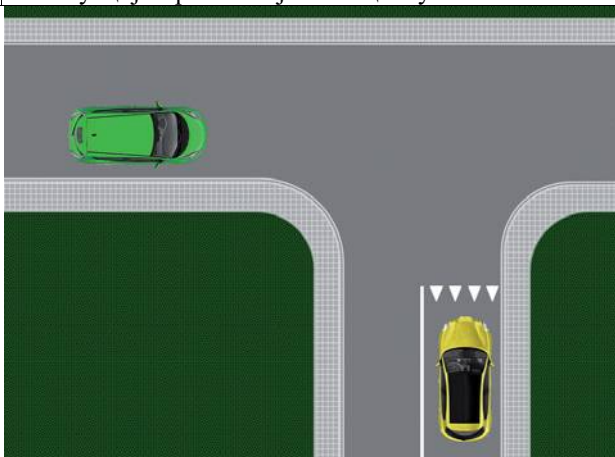
- а) зауставићете се пре линије заустављања ради уступања првенства пролаза, ако за то постоји потреба,
- б) морате се увек зауставити непосредно испред линије заустављања,
- в) морате се зауставити на линији прегледности или испред линије заустављања.

2





337. У ситуацији приказаној на слици жуто возило:



- а) мора се зауставити на линији прегледности или испред линије заустављања,
- б) мора се увек зауставити непосредно испред линије заустављања,
- в) зауставиће се пре линије заустављања ради уступања првенства пролаза, ако за то постоји потреба.

2

338. У ситуацији приказаној на слици:



- а) зауставићете се пре линије заустављања ради уступања првенства пролаза, ако за то постоји потреба,
- б) се не морате зауставити јер возило долази са Ваше леве стране,
- в) непрекидана линија заустављања Вас обавезује да се морате увек зауставити непосредно испред те линије без обзира на саобраћајну ситуацију.

2

339. Попречна ознака на коловозу приказана на слици („Косник“) означава:



- а) део површине коловоза намењен за заустављање и паркирање возила,
- б) место затварања саобраћајне траке,
- в) место отварања саобраћајне траке.

2

340. Попречна ознака на коловозу означена на слици („Граничник“) означава:



- а) место затварања траке, отварања траке, односно затварања саобраћајне траке резервисане за возила јавног превоза путника,
- б) део коловоза на коме је забрањен саобраћај због уливања саобраћаја са прилазног пута,
- в) део површине коловоза намењен за принудно заустављање и паркирање.

2

341. Попречна ознака на коловозу означена на слици означава:



- а) део површине коловоза намењен за прелаз бициклиста,
- б) место на коловозу непосредно пре кога возач мора да заустави возило,
- в) део површине коловоза намењен за прелаз пешака.

2

342. У ситуацији приказаној на слици:



- а) морате се зауставити на линији прегледности или испред линије заустављања,
- б) зауставићете се пре линије заустављања ради уступања првенства пролаза, ако за то постоји потреба,
- в) непрекидана линија заустављања Вас обавезује да се морате увек зауставити непосредно испред те линије без обзира на саобраћајну ситуацију.

2





343. Ознаке означене на слици („Стрелице“) служе за:



- а) означавање обавезног смера, односно дозвољених смерова, кретања возила,
- б) обавештавање возача о намени саобраћајне траке,
- в) означавање скретања саобраћаја.

2

347. Ознака приказана на слици („Стрелица“) служи за:



- а) обавештавање возача о намени саобраћајне траке,
- б) означавање смера кретања у гаражама,
- в) скретање саобраћаја.

2

344. Ознаке приказане на слици („Стрелице“) служе за:



- а) означавање дозвољених смерова кретања возила,
- б) обавештавање возача о намени саобраћајне траке,
- в) означавање скретања саобраћаја.

2

348. Ознака приказана на слици („Стрелица“) служи за:



- а) обавештавање возача о намени саобраћајне траке,
- б) најављивање близине неиспрекидане линије,
- в) скретање саобраћаја.

2

345. Ознака на коловозу означена на слици служи за:



- а) означавање обавезног смера, на делу пута где постоје две блиске раскрснице, при чему означени смер није дозвољен на првој раскрсници,
- б) обавештење о намени саобраћајних трака на делу пута где постоје две блиске раскрснице,
- в) скретање саобраћаја.

2

346. На коловозу поред пешачког прелаза који се налази у зони школе изводи се натпис:

- а) „ШКОЛА”,
- б) „ЗОНА ШКОЛЕ”,
- в) „ДЕЦА НА ПУТУ”.

2

349. Ознаке приказане на слици („Стрелице“) служе за:



- а) означавање обавезног смера, односно дозвољених смерова, кретања возила,
- б) обавештавање возача о намени саобраћајне траке,
- в) означавање скретања саобраћаја.

2



350. Ознака приказана на слици („Поља за усмеравање саобраћаја“) означава:



- а) површину на којој је забрањен саобраћај и на којој није дозвољено заустављање и паркирање,
- б) површину на којој је дозвољен саобраћај, а на којој није дозвољено заустављање и паркирање,
- в) површину на којој је забрањен саобраћај, а на којој је дозвољено заустављање и паркирање.

2

353. Ознака приказана на слици („Поља за усмеравање саобраћаја“) означава:



- а) површину на којој је забрањен саобраћај и на којој није дозвољено заустављање и паркирање,
- б) површину на којој је дозвољен саобраћај, а на којој није дозвољено заустављање и паркирање,
- в) површину на којој је забрањен саобраћај, а на којој је дозвољено заустављање и паркирање.

2

351. Ознаку приказану на слици возач може обићи:



- а) само са леве стране,
- б) само са десне стране,
- в) са обе стране.

2

354. Натпис приказан на слици („BUS“) означава:



- а) саобраћајну траку за возила јавног превоза путника,
- б) саобраћајну траку за аутобусе,
- в) саобраћајну траку само за возила којима се обавља ауто такси превоз.

2

352. Ознака приказана на слици, са бр. 1 („Поља за усмеравање саобраћаја“) означава:



- а) површину на којој је забрањен саобраћај и на којој није дозвољено заустављање и паркирање,
- б) површину на којој је дозвољен саобраћај, а на којој није дозвољено заустављање и паркирање,
- в) површину на којој је забрањен саобраћај, а на којој је дозвољено заустављање и паркирање.

2

355. Ознака на коловозу приказана на слици означава:



- а) зону пешачког прелаза у зони школе,
- б) саобраћајне траке за возила која врше организовани превоз деце,
- в) место резервисано за стајалиште за школски аутобус.

2



356. Натпис приказан на слици („саобраћајни знак“) означава:



а) додатно упозорење возачу на највећу дозвољену брзину одређену саобраћајним знаком,
 б) додатно упозорење возачу на брзину која се препоручује на одређеном делу пута,
 в) додатно упозорење возачу на најмању дозвољену брзину кретања одређену саобраћајним знаком.

2

357. Натпис приказан на слици („саобраћајни знак“) означава:



а) додатно упозорење возачу на близину дела пута на коме се деца чешће и у већем броју крећу (близина школе, обданишта, игралишта и сл.),
 б) додатно упозорење возачу на место од којег почиње зона школе,
 в) додатно упозорење возачу на посебно изграђену стазу којом се пешаци морају кретати, а по којој је забрањено кретање другим учесницима у саобраћају.

2

358. Ознака означена на слици („Саобраћајна површина за посебне намене“) означава:



а) место где је забрањено заустављање и паркирање на тротоару,
 б) место где је забрањено заустављање и паркирање на коловозу,
 в) место резервисано за аутобуско стајалиште.

2

359. Натпис приказан на слици („саобраћајни знак“) Вам даје:



а) додатно упозорење на близину раскрснице на којој сте дужни да уступите првенство пролаза возилима која се крећу по путу на који наилазите,
 б) додатно упозорење на место, пред улазом у раскрсницу, на коме сте дужни да зауставите возило и уступите првенство пролаза возилима која се крећу путем на који наилазите,
 в) додатно упозорење на пут, односно део пута, на коме је забрањен саобраћај свим возилима у оба смера.

2

360. Натпис приказан на слици („саобраћајни знак“) означава:



а) додатно упозорење возачу на близину раскрснице на којој возач мора да уступи првенство пролаза возилима која се крећу по путу на који он наилази,
 б) додатно упозорење возачу на место пред улазом у раскрсницу на коме је возач дужан да заустави возило и уступи првенство пролаза возилима која се крећу путем на који он наилази,
 в) додатно упозорење возачу на пут, односно део пута, на коме је забрањен саобраћај свим возилима у оба смера.

2





361. Натпис приказан на слици означава:



- а) додатно обавештење возачу на близину раскрснице на којој возач мора да уступи првенство пролаза возилима која се крећу по путу на који он наилази,
- б) додатно обавештење возачу на пут односно део пута на коме је забрањен саобраћај свим возилима у оба смера,
- в) додатно обавештење возачу на место пред улазом у раскрсницу на коме је возач дужан да заустави возило и уступи првенство пролаза возилима која се крећу путем на који он наилази.

2

363. Натпис приказан на слици („Пиктограм колица за лица са инвалидитетом“) означава:



- а) непосредну близину пешачког прелаза у зони установе у којој бораве лица са инвалидитетом,
- б) да је паркинг место на коме је натпис обележен намењен искључиво за паркирање возила лица са инвалидитетом,
- в) простор намењен за кретање лица са инвалидитетом у инвалидским колицима.

2

362. Натпис приказан на слици („Пиктограм бицикла“) означава:



- а) бицикличку стазу,
- б) завршетак бицикличке стазе односно траке,
- в) спојену бицикличку и пешачку стазу.

2

364. Ознака приказана на слици („Саобраћајна површина за посебне намене“) означава:



- а) место где је забрањено заустављање и паркирање на тротоару,
- б) место где је забрањено заустављање и паркирање на коловозу,
- в) место резервисано за аутобуско стајалиште.

2





365. Ознака приказана на слици („Саобраћајна површина за посебне намене“) означава:



а) место резервисано за паркирање аутобуса и заустављање других возила,
 б) место резервисано за аутобуско стајалиште,
 в) место резервисано за такси возила или друга возила.

2

368. Ознака приказана на слици („Паркинг место“) означава:



а) место за подужно паркирање,
 б) место за управно паркирање,
 в) место за паркирање под било којим углом.

2

366. Ознака приказана на слици („Саобраћајна површина за посебне намене“) означава:



а) место резервисано за паркирање такси возила и заустављање осталих возила,
 б) место резервисано за паркирање возила јавног градског превоза путника,
 в) место резервисано за такси возила.

2

369. Ознака приказана на слици означава:



а) место за паркирање,
 б) место где је забрањено заустављање и паркирање,
 в) аутобуско стајалиште.

2

370. Ознака приказана на слици („Паркинг место“) означава:



а) место за подужно паркирање,
 б) место за управно паркирање,
 в) место за косо паркирање.

2

367. Ознака приказана на слици означава:



а) место за паркирање,
 б) место где је забрањено заустављање и паркирање,
 в) аутобуско стајалиште.

2

371. Ознака приказана на слици означава:



а) место за паркирање,
 б) место где је забрањено заустављање и паркирање,
 в) аутобуско стајалиште.

2



372. Ознака приказана на слици („Паркинг место“) означава:



а) место за подужно паркирање,
 б) место за управно паркирање,
 в) место за косо паркирање.

2

377. Неиспрекидана линија заустављања, постављена испред светлосног саобраћајног знака, означава:

а) место на коловозу непосредно пре кога возач мора да заустави возило,
 б) место на коловозу непосредно пре кога возач мора да заустави возило, само ако му је светлосним саобраћајним знаком забрањен пролаз,
 в) место на коловозу непосредно пре кога возач мора да заустави возило, само када је постављен и саобраћајни знак „Обавезно заустављање“.

2

373. Ознака приказана на слици означава:



а) сталну препреку унутар габарита слободног профила пута,
 б) вертикалну запреку,
 в) запречну траку.

2


378. У ситуацији приказаној на слици:



а) морате се зауставити непосредно пре линије заустављања,
 б) морате се зауставити на линији прегледности,
 в) можете проћи без заустављања.

2


374. У ситуацији приказаној на слици, ивична линија је означена бројем:



а) 1 и 2, в) 2 и 4,
 б) 2 и 3, г) 3 и 4.

2

379. У ситуацији приказаној на слици:



а) дужни сте да се зауставите непосредно пре линије заустављања,
 б) дужни сте да се зауставите на линији прегледности,
 в) можете проћи раскрсницу без заустављања.

2

375. Уздужна линија која се користи за најављивање близине неиспрекидане линије је:

а) разделна линија,
 б) ивична линија,
 в) линија упозорења.

2

376. Линија заустављања, косници, граничници, пешачки прелази и прелази бициклитичке стазе преко коловоза су:

а) уздужне ознаке на коловозу,
 б) попречне ознаке на коловозу,
 в) остале ознаке на коловозу.

2



380.	Неиспрекидана линија заустављања, постављена на прилазу раскрсници са путем са првенством пролаза на месту где не постоји саобраћајни знак „Обавезно заустављање“, означава:	
	<ul style="list-style-type: none"> а) место на коловозу непосредно пре кога возач мора да заустави возило, б) место на коловозу непосредно пре кога возач мора да заустави возило, само ако је испред те линије исписана реч „STOP“; в) место на коловозу на коме је возач дужан да заустави возило само када се путем са првенством пролаза крећу возила којима мора да уступи првенство пролаза. 	2

381.	Неиспрекидана линија заустављања, постављена испред саобраћајног знака „Обавезно заустављање“, означава:	
	<ul style="list-style-type: none"> а) место на коловозу непосредно пре кога возач мора да заустави возило, б) место на коловозу непосредно пре кога возач мора да заустави возило, само ако му то место омогућава прегледност саобраћајне ситуације на путу са првенством пролаза, в) место на коловозу на коме је возач дужан да заустави возило само када се путем са првенством пролаза крећу возила којима мора да уступи првенство пролаза. 	2

382.	У ситуацији приказаној на слици:	
		
	<ul style="list-style-type: none"> а) можете се зауставити пре линије заустављања или на линији прегледности, б) дужни сте да се зауставите непосредно пре линије заустављања, в) дужни сте да се зауставите на линији прегледности. 	2

383.	Неиспрекидана линија заустављања, постављена испред знака „Забрана пролаза без заустављања“ који означава близину царинарнице, полиције или наплатног места за путарину, означава место непосредно пре кога возач мора да:	
	<ul style="list-style-type: none"> а) заустави возило пре линије заустављања, само ако му овлашћено лице даје одговарајући знак, б) заустави возило само ако је пролаз онемогућен одговарајућим запречним средством (покретном рампом), в) заустави возило. 	2

384.	У ситуацији приказаној на слици:	
		
	<ul style="list-style-type: none"> а) се морате зауставити непосредно пре линије заустављања, б) се морате зауставити непосредно испред запречног средства (покретне рампе), в) се можете зауставити непосредно пре линије заустављања или испред запречног средства (покретне рампе). 	2

385.	У ситуацији приказаној на слици:	
		
	<ul style="list-style-type: none"> а) се не морате зауставити јер друго возило долази са Ваше леве стране, б) се морате зауставити непосредно пре непрекидане линије заустављања да би пропустили друго возило, в) можете се зауставити на било којем месту да би пропустили друго возило. 	2

386.	Семафори се користе за: (Заокружити два тачна одговора)	
	<ul style="list-style-type: none"> а) регулисање саобраћаја, б) означавање радова и препрека на путу, в) давање обавештења, г) означавање возила, д) давање знакова са измењивим садржајем порука. 	3

387.	Уређаји за давање светлосних саобраћајних знакова су:	
	<ul style="list-style-type: none"> а) светлосне ознаке на путу, б) знакови са изменљивим садржајем порука, в) семафори. 	3





388.	Попречна ознака на коловозу приказана на слици („Косник“) означава:
	
	<ul style="list-style-type: none"> а) део површине коловоза намењен за заустављање и паркирање возила, б) место отварања саобраћајне траке, в) место затварања саобраћајне траке.
	2

389.	Попречна ознака на коловозу приказана на слици („Косник“) означава:
	
	<ul style="list-style-type: none"> а) део површине коловоза намењен за заустављање и паркирање возила, б) место затварања саобраћајне траке резервисане за возила јавног превоза путника, в) место отварања саобраћајне траке резервисане за возила јавног превоза путника.
	2

390.	Ознаке на коловозу („Стрелице“) служе за:
	
	<ul style="list-style-type: none"> а) означавање обавезног смера, односно смерова, кретања возила, б) обавештавање возача о намени саобраћајне траке, в) означавање скретања саобраћаја.
	2

391.	Светлосни саобраћајни знак – црвено светло који даје семафор има значење:
	<ul style="list-style-type: none"> а) забрањен пролаз, б) забрањен пролаз, осим у случају када се возило не може безбедно зауставити испред наведеног знака, в) дозвољен пролаз уз обавезу за све учеснике у саобраћају да се крећу уз повећану опрезност.
	3

392.	Ознака на коловозу приказана на слици („Стрелице“) служи за:
	
	<ul style="list-style-type: none"> а) означавање смера кретања у гаражама, б) најављивање близине неиспрекидане линије, в) скретање саобраћаја.
	2

393.	Ознака на коловозу приказана на слици („Поља за усмеравање саобраћаја“) означава:
	
	<ul style="list-style-type: none"> а) површину на којој је забрањен саобраћај и на којој није дозвољено заустављање и паркирање, б) површину на којој је дозвољен саобраћај, а на којој није дозвољено заустављање и паркирање, в) површину на којој је забрањен саобраћај, а на којој је дозвољено заустављање и паркирање.
	2

394.	Светлосни саобраћајни знак – зелено светло који даје семафор има значење:
	<ul style="list-style-type: none"> а) забрањен пролаз, б) дозвољен пролаз, в) обавезу за све учеснике у саобраћају да се крећу уз повећану опрезност.
	3

395.	Светлосни саобраћајни знак – истовремено укључено црвено и жуто светло који даје семафор има значење:
	<ul style="list-style-type: none"> а) дозвољен пролаз уз обавезу за све учеснике у саобраћају да се крећу уз повећану опрезност, б) забрањен пролаз и наговештај да ће се укључити зелено светло, в) дозвољен пролаз и наговештај да ће се ускоро укључити црвено светло.
	3

396.	Светлосни саобраћајни знак – истовремено укључено црвено и жуто светло са симболом једне или више стрелица, које даје семафор, има значење:
	<ul style="list-style-type: none"> а) дозвољен пролаз у смеру означеном стрелицом, односно смеровима означеним стрелицама, уз обавезу за све учеснике у саобраћају да се крећу уз повећану опрезност, б) забрањен пролаз у смеру означеном стрелицом, односно смеровима означеним стрелицама и наговештај да ће се укључити зелено светло, в) дозвољен пролаз у смеру означеном стрелицом, односно смеровима означеним стрелицама и наговештај да ће се ускоро укључити црвено светло.
	3





397. Светлосни саобраћајни знак приказан на слици има значење:



- а) забрањен пролаз,
- б) дозвољен пролаз,
- в) обавезу за све учеснике у саобраћају да се крећу уз повећану опрезност.

3

400. Светлосни саобраћајни знак приказан на слици има значење:



- а) забрањен пролаз,
- б) забрањен пролаз, осим у случају када се возило не може безбедно зауставити испред наведеног знака,
- в) дозвољен пролаз уз обавезу за све учеснике у саобраћају да се крећу уз повећану опрезност.

3

398. Светлосни саобраћајни знак приказан на слици, значи да Вам је:



- а) дозвољен пролаз и наговештај да ће се ускоро укључити црвено светло,
- б) дозвољен пролаз,
- в) забрањен пролаз, осим у случају када се возило не може безбедно зауставити испред наведеног знака.

3

401. Светлосни саобраћајни знак приказан на слици означава да Вам је:



- а) забрањен пролаз и наговештај да ће се укључити зелено светло,
- б) дозвољен пролаз уз обавезу да се крећете уз повећану опрезност,
- в) дозвољен пролаз и наговештај да ће се ускоро укључити црвено светло.

3

399. Светлосни саобраћајни знак – трепћуће зелено светло са симболом једне или више стрелица, које даје семафор, има значење:

- а) дозвољен пролаз у смеру означеном стрелицом, односно смеровима означеним стрелицама и наговештај скорог престанка дозвољеног пролаза укључењем жутог, а затим црвеног светла,
- б) забрањен пролаз у смеру означеном стрелицом, односно смеровима означеним стрелицама, осим у случају када се возило не може безбедно зауставити испред наведеног знака,
- в) забрањен пролаз у смеру означеном стрелицом, односно смеровима означеним стрелицама.

3

402. Светлосни саобраћајни знак – зелено светло са симболом једне или више стрелица, које даје семафор, има значење:

- а) дозвољен пролаз само у смеру означеном стрелицом, односно смеровима означеним стрелицама,
- б) дозвољен пролаз при чему се морају пропустити сва возила која долазе из супротног смера, односно возила која се крећу по путу на који возило улази,
- в) обавезу за све учеснике у саобраћају који се крећу у смеру означеном стрелицом, односно смеровима означеним стрелицама, да се крећу уз повећану опрезност.

3



403.	Светлосни саобраћајни знак – трепћуће жуто светло који даје семафор има значење:	
	а) обавеза за све учеснике у саобраћају да се крећу уз повећану опрезност, б) забрањен пролаз, осим у случају када се возило не може безбедно зауставити испред наведеног знака, в) забрањен пролаз.	3

404.	Светлосни саобраћајни знак – трепћуће зелено светло који даје семафор има значење:	
	а) дозвољен пролаз и наговештај скорог престанка дозвољеног пролаза укључењем жутог, а затим црвеног светла, б) забрањен пролаз, осим у случају када се возило не може безбедно зауставити испред наведеног знака, в) забрањен пролаз.	3

405.	Светлосни саобраћајни знак приказан на слици, означава:	
------	---	--



	а) да Вам је дозвољен пролаз само у смеру означеном стрелицом, б) да Вам је дозвољен пролаз, при чему морате пропустити сва возила која долазе из супротног смера, односно возила која се крећу по путу на који возило улази, в) обавезу да се крећете уз повећану опрезност.	3
--	---	---

406.	У ситуацији приказаној на слици, светлосни саобраћајни знакови дозвољавају кретање:	
------	---	--



а) само право,	в) право и лево,	3
б) само лево,	г) у свим смеровима.	

407.	У ситуацији приказаној на слици, светлосни саобраћајни знак који регулише скретање улево на раскрсници, означава:	
------	---	--



	а) дозвољен пролаз у смеру означеном стрелицом и наговештај да ће се ускоро укључити црвено светло, б) дозвољен пролаз у смеру означеном стрелицом, в) забрањен пролаз у смеру означеном стрелицом, осим у случају када се возило не може безбедно зауставити испред наведеног знака.	3
--	---	---

408.	Светлосни саобраћајни знак приказан на слици има значење:	
------	---	--



а) забрањен пролаз у смеру означеном стрелицом, односно смеровима означеним стрелицама, б) забрањен пролаз у смеру означеном стрелицом, односно смеровима означеним стрелицама, осим у случају када се возило не може безбедно зауставити испред наведеног знака, в) дозвољен пролаз у смеру означеном стрелицом, односно смеровима означеним стрелицама, уз обавезу за све учеснике у саобраћају да се крећу уз повећану опрезност.	3
--	---

409.	Светлосни саобраћајни знак – жуто светло са симболом једне или више стрелица, које даје семафор, има значење:	
	а) дозвољен пролаз у смеру означеном стрелицом, односно смеровима означеним стрелицама и наговештај да ће се ускоро укључити црвено светло, б) дозвољен пролаз у смеру означеном стрелицом, односно смеровима означеним стрелицама, в) забрањен пролаз у смеру означеном стрелицом, односно смеровима означеним стрелицама, осим у случају када се возило не може безбедно зауставити испред наведеног знака.	3

410.	У ситуацији приказаној на слици из саобраћајне траке намењене за кретање право и скретање улево светлосним саобраћајним знаком:	
		
	а) дозвољен Вам је пролаз право и улево, б) није Вам дозвољен пролаз ни право ни улево, в) дозвољен Вам је пролаз право уз повећану опрезност, а није Вам дозвољен пролаз улево.	3

411.	Светлосни саобраћајни знак – црвено светло са симболом једне или више стрелица, које даје семафор, има значење:	
	а) забрањен пролаз у смеру означеном стрелицом, односно смеровима означеним стрелицама, б) забрањен пролазу смеру означеном стрелицом, односно смеровима означеним стрелицама, осим у случају када се возило не може безбедно зауставити испред наведеног знака, в) дозвољен пролаз у смеру означеном стрелицом, односно смеровима означеним стрелицама, уз обавезу за све учеснике у саобраћају да се крећу уз повећану опрезност.	3

412.	Светлосни саобраћајни знак – трепћуће жуто светло, са симболом једне или више стрелица, које даје семафор, има значење:	
	а) обавеза за све учеснике у саобраћају да се крећу уз повећану опрезност, б) забрањен пролаз у смеру означеном стрелицом, односно смеровима означеним стрелицама, осим у случају када се возило не може безбедно зауставити испред наведеног знака, в) забрањен пролаз у смеру означеном стрелицом, односно смеровима означеним стрелицама.	3

413.	Светлосни саобраћајни знак у облику зелене стрелице (условни знак), који је додат семафору са тробојним светлима, на којем је укључено црвено или жуто светло, има значење:	
	а) дозвољен пролаз у смеру означеном стрелицом, при чему возила која се крећу у означеном смеру имају првенство пролаза у односу на сва друга возила, б) дозвољен пролаз само у смеру означеном стрелицом, при чему се морају пропустити пешаци који прелазе преко коловоза, као и сва возила која се крећу по путу на који се улази, в) дозвољен пролаз у смеру означеном стрелицом само за возила којима се врши јавни превоз путника.	3

414.	Светлосни саобраћајни знак приказан на слици има значење:	
		
	а) дозвољен пролаз у смеру означеном стрелицом, при чему возила која се крећу у означеном смеру имају првенство пролаза у односу на сва друга возила, б) дозвољен пролаз само у смеру означеном стрелицом при чему се морају пропустити сва возила која се крећу по путу на који се улази као и пешаци који прелазе преко коловоза, в) дозвољен пролаз у смеру означеном стрелицом само за возила јавног превоза путника.	3

415.	Приликом наилаaska на место на ком се изводе радови на путу возач: (Заокружити два тачна одговора)	
	а) не мора да поступа по знаковима које даје радник одређен од стране извођача радова, већ само по постављеној саобраћајној сигнализацији, б) мора уклонити своје возило само на захтев саобраћајне полиције, в) не сме да омета радника који обавља радове на путу или поред пута, г) је дужан да уклони своје возило на захтев извођача радова.	2

416.	На семафорима са тробојним светлима којима се регулише кретање возила, када се светла постављају по вертикалној оси, једно испод другог, њихов распоред је:	
	а) црвено горе, жуто у средини, а зелено доле, б) зелено горе, жуто у средини, а црвено доле, в) црвено горе, зелено у средини, а жуто доле.	3

417. У ситуацији приказаној на слици, кретање можете наставити:



а) путањама 1 и 2,
б) само путањом 1,
в) путањама 1, 2 и 3.

3

418. Светлосни саобраћајни знак – жута трепћућа стрелица, приказан на слици, означава:



а) обавезну промену саобраћајне траке изнад које се овај знак налази, односно саобраћајне траке у којој се овај знак налази и обавезу кретања саобраћајном траком на коју упућује стрелица,
б) почетак саобраћајне траке намењене за кретање возила јавног превоза путника,
в) обавезу за све учеснике у саобраћају да се крећу уз повећану опрезност.

3


419. Светлосни саобраћајни знак приказан на слици, означава:



а) обавезно заустављање возила непосредно испод места где се овај знак налази,
б) забрану кретања возила дуж саобраћајне траке изнад које се овај знак налази, осим за возила јавног превоза путника,
в) забрану кретања возила дуж саобраћајне траке изнад које се овај знак налази.

3

420. Светлосни саобраћајни знак – жута трепћућа стрелица приказан на слици означава:



а) обавезу за све учеснике у саобраћају да се крећу уз повећану опрезност,
б) обавезну промену саобраћајне траке изнад које се овај знак налази, односно саобраћајне траке у којој се овај знак налази и обавезу кретања саобраћајном траком на коју упућује стрелица,
в) почетак саобраћајне траке намењене за кретање возила јавног превоза путника.

3

421. Светлосни саобраћајни знак приказан на слици означава:



а) обавезну промену саобраћајне траке изнад које се овај знак налази, осим за возила јавног превоза путника,
б) слободан пролаз дуж саобраћајне траке изнад које се овај знак налази,
в) слободан пролаз само за трамваје.

3

422. Бројчана ознака на светлосном саобраћајном знаку приказана на слици означава:



а) препоручену брзину којом возило треба да се креће да би на наредном семафору имало слободан пролаз,
б) највећу дозвољену брзину кретања возила,
в) најмању брзину којом возила морају да се крећу.

3

423. На семафорима са тробојним светлима којима се регулише кретање возила, када се светла постављају по хоризонталној оси, једно поред другог, њихов распоред је:

а) зелено лево, жуто у средини, а црвено десно,
б) црвено лево, зелено у средини, а жуто десно,
в) црвено лево, жуто у средини, а зелено десно.


3

424. Светлосни саобраћајни знак – жуто светло који даје семафор има значење:

а) дозвољен пролаз и наговештај да ће се ускоро укључити црвено светло,
б) дозвољен пролаз,
в) забрањен пролаз, осим у случају када се возило не може безбедно зауставити испред наведеног знака.

3



425.	Семафор приказан на слици намењен је за:
	
	<ul style="list-style-type: none"> а) регулисање кретања мотоцикала, мопеда и бицикала на бицикличким тракама, б) регулисање кретања бицикала и мопеда на бицикличким тракама, в) регулисање кретања мотоцикала, мопеда и бицикала на бицикличким стазама.
	3


426.	Светлосни саобраћајни знак приказан на слици означава:
	
	<ul style="list-style-type: none"> а) дозвољен пролаз за пешаке, б) забрањен пролаз за пешаке.
	3

427.	Светлосни саобраћајни знак приказан на слици означава:
	
	<ul style="list-style-type: none"> а) дозвољен пролаз за пешаке, б) забрањен пролаз за пешаке.
	3

428.	Укључена положена црта на уређајима за давање светала за регулисање кретања трамваја, означава:
	<ul style="list-style-type: none"> а) забрану саобраћаја трамваја, б) слободан пролаз трамваја у правцу који означава црта, в) наилазак на раскрсницу на којој се трамваји могу кретати само у правцу означеном цртом.
	3

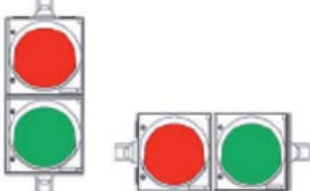
429.	На прилазима раскрсници са више саобраћајних трака:
	<ul style="list-style-type: none"> а) семафор се поставља само са десне стране пута, б) семафори који приказују исте сигналне појмове се постављају и са десне и са леве стране пута (понављач), а по потреби и на конзолном носачу, в) семафори се увек постављају са десне стране и на порталном носачу изнад саобраћајних трака.
	3

430.	Уређаји за регулисање кретања трамваја:
	<ul style="list-style-type: none"> а) служе искључиво за регулисање кретања трамваја, б) служе и за регулисање кретања возила јавног превоза путника, само када се она крећу саобраћајном траком којом се крећу и трамваји, в) служе и за регулисање кретања возила јавног превоза путника на саобраћајним тракама којима се не крећу трамваји, а те траке су намењене само за кретање возила јавног превоза путника.
	3

431.	Знак који даје уређај за давање светала за регулисање кретања трамваја, приказан на слици, означава:
	
	<ul style="list-style-type: none"> а) забрану проласка трамваја, б) слободан пролаз трамваја у правцу који означава црта, в) правац пружања трамвајских шина на раскрсници на којој се уређај налази.
	3

432.	Укључена усправна или коса црта, односно њихова комбинација, на уређајима за давање светала за регулисање кретања трамваја означава:
	<ul style="list-style-type: none"> а) забрану саобраћаја трамваја, б) слободан пролаз у одговарајућем смеру, в) правац пружања трамвајских шина на одређеној раскрсници.
	3

433.	У ситуацији приказаној на слици знак који даје уређај за давање светала за регулисање кретања трамваја означава:
	
	<ul style="list-style-type: none"> а) забрањен пролаз трамваја, б) слободан пролаз у одговарајућем смеру, в) правац пружања трамвајских шина на одређеној раскрсници.
	3

434.	Семафори приказани на слици намењени су за:
	
	<ul style="list-style-type: none"> а) регулисање приступа возила, б) регулисање кретања бицикала на бицикличким стазама, в) регулисање кретања трамваја.
	3





435. У ситуацији приказаној на слици, светлосне знакове за регулисање Вашег кретања:



а) даје само семафор који се налази на левој страни пута,
 б) даје само семафор који се налази на десној страни пута,
 в) дају семафори који се налазе на левој и на десној страни пута и на конзолном носачу.

3

436. Светлосне ознаке на путу ван насељених места које означавају леву ивицу коловоза и имају рефлектујућа тела беле боје су:

а) смерокази,
 б) значке за обележавање ивице коловоза,
 в) саобраћајни знакови.

2

437. Светлосне ознаке на путу ван насељених места које означавају десну ивицу коловоза и имају рефлектујућа тела црвене боје су:

а) смерокази,
 б) значке за обележавање ивице коловоза,
 в) саобраћајни знакови.

2

438. Светлосне ознаке на путу ван насељених места означавају:

а) ивицу коловоза,
 б) место на којем пут прелази преко трамвајске пруге у истом нивоу,
 в) слободан профил пута.

2

439. Светлосна ознака на путу ван насељених места, приказана на слици, представља:



а) значку за обележавање ивице коловоза,
 б) стуб саобраћајног знака,
 в) смероказ.

2

440. Светлосна ознака на путу ван насељених места приказана на слици представља:



а) смероказ за означавање десне ивице коловоза,
 б) смероказ за обележавање леве ивице коловоза,
 в) саобраћајни знак.

2

441. Светлосна ознака на путу ван насељених места приказана на слици представља:



а) смероказ за означавање десне ивице коловоза,
 б) смероказ за обележавање леве ивице коловоза,
 в) значку за обележавање ивице коловоза.

2

442. Светлосне ознаке на путу ван насељених места, које означавају ивицу коловоза, изведене у облику штапова обојених наизменично пољима црвене и жуте боје су:

а) смерокази,
 б) значке за обележавање ивице коловоза,
 в) саобраћајни знакови.

2

443. Светлосна ознака на путу изведена у облику табле обојене наизменично пољима црне и жуте боје је:

а) смероказ,
 б) значка за обележавање ивице коловоза,
 в) табла за означавање врха разделног острва.

2

444. Светлосна ознака на путу, приказана на слици, представља:



а) смероказ,
 б) значка за обележавање ивице коловоза,
 в) таблу за означавање врха разделног острва.

2

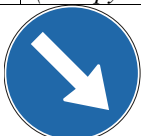

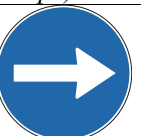



445. На врху табле за означавање врха разделног острва постављају се саобраћајни знакови који означавају:

а) препреке на путу и места на коме се изводе радови на путу,
 б) коловоз односно део коловоза којим се возила морају, односно могу, кретати приликом обилажења пешачких острва, острва за усмеравање саобраћаја и других објеката на коловозу,
 в) пут односно део пута на коме је забрањен саобраћај свим возилима у оба смера.

2

446. Који саобраћајни знак, од знакова приказаних на слици, се поставља на врх табле за означавање врха разделног острва:
 (Заокружити два тачна одговора)

			
а) 1,	б) 2,	в) 3,	г) 4.

2

447. Наизменично паљење два округла црвена светла, на семафору приказаном на слици, означава:
 (Заокружити три тачна одговора)



а) наилазак на место на коме пут прелази преко трамвајске пруге у истом нивоу,
 б) приближавање воза,
 в) спуштање браника или полубраника,
 г) близину раскрснице на којој је саобраћај регулисан помоћу семафора.
 д) да је браник или полубраник у спуштеном положају,
 њ) наилазак на опасну раскрсницу.

2

448. У ситуацији приказаној на слици, уређаји којима се забрањује и спречава прелазак возила су:



а) браници,
 б) полубраници,
 в) запречне траке.

2

449. У ситуацији приказаној на слици, уређаји којима се забрањује и спречава прелазак возила су:



а) браници,
 б) полубраници,
 в) запречне траке.

2

450. Привремена саобраћајна сигнализација се користи за:

а) ближе одређивање значења саобраћајног знака уз који је постављена,
 б) обавештавање и упућивање корисника до туристичких одређишта,
 в) обележавање препрека на путу и места на коме се изводе радови на путу.

2

451. Опрема приказана на слици („Чеони браник“):



а) означава десну ивицу коловоза на путевима ван насељеног места,
 б) означава забрану и спречавање преласка возила преко железничке пруге,
 в) обележава препреку на путу и место на коме се изводе радови и служи за затварање пута, односно саобраћајне траке.

2

452. Опрема приказана на слици („Усмеравајући браник“):



а) означава место на путу где се наилази на оштру кривину,
 б) означава пут са једносмерним саобраћајем,
 в) обележава препреку на путу и место на коме се изводе радови и служи за затварање пута, односно саобраћајне траке.

2

453. На делу пута на коме су настале препреке, односно оштећења, које се не могу одмах уклонити, односно отклонити или на коме се изводе радови, учесници у саобраћају морају бити обезбеђени постављањем:

а) браника,
 б) сигурносног троугла,
 в) приручних средстава (старе гуме, грана дрвета и сл.).

2

454. Опрема приказана на слици („Чеони браник“):



а) означава леву ивицу коловоза на путевима ван насељеног места,
 б) означава забрану и спречавање преласка возила преко железничке пруге,
 в) обележава препреку на путу и место на коме се изводе радови и служи за затварање пута, односно саобраћајне траке.

2

455. Опрема приказана на слици („Усмеравајући браник“):



а) означава место на путу где се налази на оштру кривину,
 б) обележава препреку на путу и место на коме се изводе радови и служи за затварање пута, односно саобраћајне траке,
 в) означава пут са једносмерним саобраћајем.

2

456. У ситуацији приказаној на слици постављена опрема означава:



а) препреку на путу, односно место где се изводе радови на путу, при чему се обилазак врши са десне стране,
 б) место на путу где се налази на оштру кривину,
 в) пут са једносмерним саобраћајем.

2

457. У ситуацији приказаној на слици постављена опрема означава:



а) препреку на путу, односно место где се изводе радови на путу, при чему се обилазак врши леве стране,
 б) место на путу где се налази на оштру кривину,
 в) пут са једносмерним саобраћајем.

2

458. Опрема приказана на слици („Запрека“) означава:



а) ивицу коловоза на путевима ван насељеног места,
 б) забрану и спречавање преласка возила преко железничке пруге,
 в) бочне стране радилишта, односно привремених препрека на путу, на местима где се врши потпуно затварање саобраћаја.

2

459. Опрема приказана на слици („Запрека“) означава:



а) ивицу коловоза на путевима ван насељеног места,
 б) забрану и спречавање преласка возила преко железничке пруге,
 в) бочне стране радилишта, односно привремених препрека на путу, на местима где се врши потпуно затварање саобраћаја.

2



460. Опрема приказана на слици („Вертикална запрека“) означава:



а) ивицу коловоза на путевима ван насељеног места,
 б) врх разделног острва,
 в) бочну страну радилишта на путу које се обилази са леве стране.

2

464. У ситуацији приказаној на слици постављена опрема означава:



а) ивицу коловоза на путевима ван насељеног места,
 б) границе разделног острва,
 в) бочну страну радилишта на путу које се обилази са десне стране.

2


461. У ситуацији приказаној на слици постављена опрема означава:



а) ивицу коловоза на путевима ван насељеног места,
 б) границе разделног острва,
 в) бочну страну радилишта на путу које се обилази са леве стране.

2

465. Опрема приказана на слици („Запречна трака“) означава:



а) ивицу радилишта, односно простора са привременим препрекама на путевима,
 б) забрану и спречавање преласка возила преко железничке пруге,
 в) место на путу на којем је паркирано „тешко возило“.

2

462. Опрема приказана на слици („Вертикална запрека“) означава:



а) ивицу коловоза на путевима ван насељеног места,
 б) врх разделног острва,
 в) бочну страну радилишта на путу које се обилази са десне стране.

2

466. Опрема приказана на слици („Саобраћајна купа“) означава:



а) место на путу где се изводе краткотрајни радови,
 б) врх разделног острва,
 в) место на путу на којем је паркирано „тешко возило“.

2

463. Опрема приказана на слици („Запречно уже“) означава:



а) ивицу радилишта, односно простора са привременим препрекама на путевима,
 б) забрану и спречавање преласка возила преко железничке пруге,
 в) место на путу на којем је паркирано „тешко возило“.

2

467. Опрема приказана на слици („монтажни ивичњак“) означава:



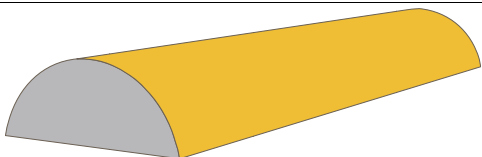
а) место на путу где су постављени елементи за успоравање саобраћаја,
 б) ивицу коловоза на путевима у насељу,
 в) површину коловоза која је намењена за кретање возила у зонама радова на путу.

2





468. Опрема приказана на слици („монтажни ивичњак“) означава:



а) место на путу где су постављени елементи за успоравање саобраћаја,
 б) ивицу коловоза на путевима у насељу,
 в) површину коловоза која је намењена за кретање возила у зонама радова на путу.

2

469. Опрема приказана на слици („Раздвајајућа ограда“) означава:



а) место на путу где постоје елементи за успоравање саобраћаја,
 б) место на путу где је неопходно извршити раздвајање супротних смерова кретања, скретање саобраћаја и раздвајање површине коловоза на којој је дозвољено кретање од површине на којој кретање возила није дозвољено,
 в) место за раздвајање паркиралишта од зауставне траке на аутопуту и мотопуту.

2

470. Опрема приказана на слици („Делинеатор“) користи се:



а) за означавање места на путу где се изводе краткотрајни радови,
 б) за означавање врха разделног острва,
 в) за раздвајање смерова кретања или вођење токова у случајевима скретања саобраћаја.

2

471. На сигналној табли којом се означавају краткотрајна покретна радилишта на путу, постављају се саобраћајни знакови и семафори означени бројем: (Заокружити два тачна одговора):



а) 1, б) 2, в) 3, г) 4, д) 5.

2


472. Опрема приказана на слици („Делинеатор“) користи се:



а) за означавање места на путу где се изводе краткотрајни радови,
 б) за означавање врха разделног острва,
 в) за раздвајање смерова кретања или вођење токова у случајевима скретања саобраћаја.

2

473. Сигнална табла приказана на слици означава:



а) краткотрајна покретна радилишта на путу,
 б) препреку на путу која се налази у десној саобраћајној траци у односу на саобраћајну траку у којој се табла налази,
 в) забрану саобраћаја на путу свим возилима због извођења радова на путу.

2

474. Сигнална табла приказана на слици означава:



а) забрану саобраћаја на путу свим возилима због извођења радова на путу,
 б) краткотрајна покретна радилишта на путу,
 в) препреку на путу која се налази у левој саобраћајној траци у односу на саобраћајну траку у којој се табла налази.

2





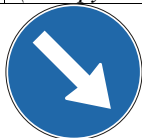
475. Сигнална табла, приказана на слици, поставља се:



- а) на „Раздвајајућу ограду“ којом је извршено скретање саобраћаја у десну страну
- б) на задњи део моторних возила или приколице, када је возило заустављено,
- в) на „Чеони браник“ којим је извршено ограђивање радилишта или привремених препрека на путу са чеоне стране,

2

476. На сигналној табли којом се означавају краткотрајна покретна радилишта на путу, постављају се саобраћајни знакови означени бројем:
(Заокружити три тачна одговора)




1



2



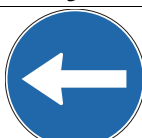
3



4



5



6

- а) 1, б) 2, в) 3, г) 4, д) 5, њ) 6.

2

477. На делу пута на коме се изводе радови регулисање саобраћаја могу да обављају најмање два радника одређена од стране извођача радова који дају знакове:

- а) заставицама црвене и зелене боје, при чему подигнута заставица црвене боје означава да је пролаз забрањен, а подигнута заставица зелене боје да је пролаз дозвољен,
- б) само заставицом црвене боје, при чему подигнута заставица означава да је пролаз забрањен, а спуштена заставица да је пролаз дозвољен,
- в) само заставицом зелене боје, при чему подигнута заставица означава да је пролаз дозвољен, а спуштена заставица да је пролаз забрањен.

2

478. У ситуацији приказаној на слици радник извођача радова даје знак заставицом који означава:



- а) слободан пролаз и није обавезујући за Вас,
- б) место где се морате зауставити,
- в) слободан пролаз и обавезујући је за Вас.

2

479. У ситуацији приказаној на слици радник извођача радова даје знак заставицом који означава:



- а) да је потребно да успорите кретање,
- б) слободан пролаз,
- в) место где се морате зауставити.

2

480. У ситуацији приказаној на слици радник извођача радова даје знак заставицом који означава:



- а) забрањен пролаз и није обавезујући за Вас ако проходна саобраћајна трака није заузета возилима из супротног смера,
- б) да је потребно да успорите кретање, односно да наставите да се крећете ако проходна саобраћајна трака није заузета возилима из супротног смера и обавезујући је за Вас
- в) забрањен пролаз и обавезујући је за Вас.

2





481. У ситуацији приказаној на слици радник извођача радова даје знак заставицом који означава:



а) да је потребно да успорите кретање,
 б) да Вам је забрањен пролаз,
 в) да Вам је забрањен пролаз док је проходна саобраћајна трака заузета возилима из супротног смера.


2

482. Знаци које даје полицијски службеник који непосредно регулише или врши контролу саобраћаја, дају се: *(Заокружити три тачна одговора)*

а) усмено,
 б) рукама, односно положајем тела полицијског службеника,
 в) заставицом за регулисање саобраћаја,
 г) уређајима за давање светлосних и звучних знакова,
 д) „стоп таблицом“,
 њ) знаковима са измењивим садржајем порука.

3

483. Знак који даје полицијски службеник приказан на слици означава:



а) да возачи који возилима долазе из правца у коме су окренута леђа, односно прса полицијског службеника морају зауставити своја возила, а да возачи који возилима долазе са његових бочних страна имају право пролаза,
 б) забрану пролаза за све возаче, осим за оне возаче чија се возила, у часу када полицијски службеник подигне руку, не могу на безбедан начин зауставити, а за пешаке - значи забрану да прелазе коловоз,
 в) да возачи који возилима долазе из правца у коме су окренута леђа, односно прса полицијског службеника морају смањити брзину кретања.

3


484. Знак који даје полицијски службеник приказан на слици, када се налази на коловозу, означава:



а) обавезно заустављање за све возаче према којима је окренут длан и прса полицијског службеника,
 б) забрану пролаза за све возаче, осим за оне возаче чија се возила, у часу када полицијски службеник подигне руку, не могу на безбедан начин зауставити,
 в) да возачи који возилима долазе из правца у коме су окренута леђа, односно прса полицијског службеника морају зауставити своја возила, а да возачи који возилима долазе са његових бочних страна имају право пролаза.

3

485. Знак који даје полицијски службеник приказан на слици означава:



а) забрану пролаза за све возаче, осим за оне возаче чија се возила, у часу када полицијски службеник подигне руку, не могу на безбедан начин зауставити,
 б) забрану пролаза за све учеснике у саобраћају чији смер кретања сече смер предручене руке,
 в) обавезу возача да се креће у смеру предручене руке.

3





486. У ситуацији приказаној на слици:



- а) дужни сте да се зауставите,
- б) можете наставити кретање,
- в) дужни сте да кретање наставите смањеном брзином.

3

489. Знак полицијског службеника - лагано махање хоризонтално одрученом руком горе - доле, са дланом отворене шаке окренутим на доле, приказан на слици, означава да:



- а) возач у чијем смеру се даје тај знак, треба да убрза кретање возила,
- б) возач у чијем смеру се даје тај знак треба да помери своје возило ближе раскрсници, односно овлашћеном лицу које даје знак,
- в) возач у чијем смеру се даје тај знак треба да смањи брзину кретања возила.

3

487. У ситуацији приказаној на слици:



- а) није дозвољено да наставите кретање ако сечете смер предручене руке,
- б) можете наставити кретање право,
- в) дужни сте да се крећете у смеру предручене руке.

3

490. У ситуацији приказаној на слици:



- а) дужни сте да се зауставите,
- б) можете наставити кретање,
- в) дужни сте да кретање наставите смањеном брзином.

3

488. У ситуацији приказаној на слици дужни сте да:



- а) смањите брзину кретања возила,
- б) убрзате кретање возила,
- в) померите своје возило ближе овлашћеном лицу које даје знак.

3

491. У ситуацији приказаној на слици дужни сте да:



- а) смањите брзину кретања возила,
- б) убрзате кретање возила,
- в) померите своје возило ближе овлашћеном лицу које даје знак.

3





492. Знак који даје полицијски службеник приказан на слици означава да:



- а) возач у чијем смеру се даје тај знак треба да смањи брзину кретања возила,
- б) је возач у чијем смеру се даје тај знак обавезан да заустави возило,
- в) је возач у чијем смеру се даје тај знак обавезан да уклони возило са коловоза.

3

495. У ситуацији приказаној на слици:



- а) можете да наставите кретање право, када пропустите возила која се крећу путем са којим се пут којим се крећете укршта,
- б) можете да наставите кретање право, јер Вам је знаком који даје полицијски службеник то дозвољено,
- в) дужни сте да зауставите возило.

3

493. У ситуацији приказаној на слици дужни сте да:



- а) смањите брзину кретања возила,
- б) уклоните возило са коловоза,
- в) зауставите возило.

3

494. У ситуацији приказаној на слици дужни сте да:



- а) смањите брзину кретања возила,
- б) убрзате кретање возила,
- в) померите своје возило ближе раскрсници, односно овлашћеном лицу које даје знак.

3

496. Знак који даје полицијски службеник приказан на слици означава:



- а) да возачи који возилима долазе са његових бочних страна морају зауставити своја возила, а да возачи који возилима долазе из правца у коме су окренута леђа, односно прса полицијског службеника имају право пролаза,
- б) да возачи који возилима долазе из правца у коме су окренута леђа, односно прса полицијског службеника морају зауставити своја возила, а да возачи који возилима долазе са његових бочних страна имају право пролаза,
- в) забрану пролаза за све возаче, осим за оне возаче чија се возила, у часу када полицијски службеник подигне руке, не могу на безбедан начин зауставити.

3





497. У ситуацији приказаној на слици:



- а) можете да наставите кретање право, када пропустите возила која се крећу путем са којим се пут којим се крећете укршта,
- б) можете да наставите кретање право, јер Вам је знаком који даје полицијски службеник то дозвољено,
- в) дужни сте да зауставите возило.

3

499. Знак који даје полицијски службеник приказан на слици означава:



- а) да возачи који возилима долазе из правца у коме су окренута леђа, односно прса полицијског службеника морају зауставити своја возила, а да возачи који возилима долазе са његових бочних страна имају право пролаза,
- б) да возачи који возилима долазе са његових бочних страна морају зауставити своја возила, а да возачи који возилима долазе из правца у коме су окренута леђа, односно прса полицијског службеника имају право пролаза,
- в) забрану пролаза за све возаче, осим за оне возаче чија се возила, у часу када полицијски службеник подигне руку, не могу на безбедан начин зауставити.

3

498.

Знак полицијског службеника - хоризонтално одручена рука са дланом отворене шаке окренутим на горе и лагано махање подлактице и шаке савијањем у лакту, приказан на слици, означава да:



- а) возач у чијем смеру се даје тај знак треба да смањи брзину кретања возила,
- б) возач у чијем смеру се даје тај знак, треба да убрза кретање возила,
- в) возач у чијем смеру се даје тај знак треба да помери своје возило ближе раскрсници, односно овлашћеном лицу које даје знак.

3

500.

Знак полицијског службеника - хоризонтално предручена рука савијена у лакту, са отвореном шаком и кружно кретање подлактице и шаке, приказан на слици, означава да:



- а) возач у чијем смеру се даје тај знак треба да смањи брзину кретања возила,
- б) возач у чијем смеру се даје тај знак, треба да убрза кретање возила,
- в) возач у чијем смеру се даје тај знак треба да помери своје возило ближе раскрсници, односно овлашћеном лицу које даје знак.

3





501.	У ситуацији приказаној на слици:		
	а) дужни сте да померите своје возило ближе раскрсници, односно овлашћеном лицу које даје знак, б) можете да наставите кретање право, в) дужни сте да зауставите возило.		3

506.	Један дужи звиждук пиштаљком који је дат од стране полицијског службеника значи:		
	а) да је неко од учесника у саобраћају поступио противно датом знаку, правилима саобраћаја или постављеним саобраћајним знаковима, б) позив учесницима у саобраћају који га чују да обрате пажњу на полицијског службеника који ће дати одговарајући знак, в) обавезу возача да се заустави.		3

507.	Више узастопних кратких звиждука пиштаљком који су дати од стране полицијског службеника значе:		
	а) позив учесницима у саобраћају који га чују да обрате пажњу на полицијског службеника који ће дати одговарајући знак, б) да је неко од учесника у саобраћају поступио противно датом знаку, правилима саобраћаја или постављеним саобраћајним знаковима, в) обавезу возача да се заустави.		3

502.	Полицијски службеник прописани знак којим се наређује смањење брзине кретања:		
	а) може давати и из возила, односно са мотоцикла, када полицијски службеник, односно возило, има видно обележје полиције, б) не може давати из возила, односно са мотоцикла, в) може давати само из возила са првенством пролаза.		3

508.	Возач који чује звучни знак пиштаљком који се састоји од више узастопних кратких звиждука који су дати од стране полицијског службеника, дужан је да:		
	а) осматрањем полицијског службеника, утврди да ли се тај знак односи на њега, б) заустави возило, в) убрза кретање возила.		3

503.	Полицијски службеник прописани знак којим се наређује убрзање кретања:		
	а) може давати само из возила са првенством пролаза, б) може давати и из возила, односно са мотоцикла, када полицијски службеник, односно возило, има видно обележје полиције, в) не може давати из возила, односно са мотоцикла.		3

509.	Светлосни знак – црвено и плаво трепћуће светло која се наизменично пале на возилу под пратњом, за возача који сусретне та возила, односно кога сустигну та возила, значи обавезу да: <i>(Заокружити три тачна одговора)</i>		
	а) возила под пратњом пропусти, да им омогући мимоилажење и претицање, односно обилажење, б) се заустави и да кретање настави тек пошто сва возила под пратњом прођу, в) по потреби заустави своје возило или га уклони са коловоза и да кретање настави тек пошто сва возила под пратњом прођу, г) се строго придржава наредби које му дају лица из пратње, д) смањи брзину и настави кретање.		3

504.	Полицијски службеник прописане знаке којима се наређује заустављање возила:		
	а) може давати и из возила, односно са мотоцикла, када полицијски службеник, односно возило, има видно обележје полиције, б) не може давати из возила, односно са мотоцикла, в) може давати само из возила са првенством пролаза.		3

510.	Светлосни знак – два трепћућа или ротациона светла плаве боје на возилу са првенством пролаза, које се креће по путу, значи обавезу возача да: <i>(Заокружити три тачна одговора)</i>		
	а) смањи брзину и настави кретање, б) се заустави и да кретање настави тек пошто сва возила са првенством пролаза прођу, в) обрати пажњу на возило с првенством пролаза, односно на возила којима оно обезбеђује пролаз и да пропусти та возила, г) по потреби заустави своје возило или га уклони са коловоза док та возила прођу, д) се строго придржава наредби које му дају лица из возила с првенством пролаза.		3

505.	Звучне знаке пиштаљком који се дају у комбинацији са знацима који се дају рукама, полицијски службеник може давати:		
	а) само кад се налази ван возила, б) само кад се налази у возилу са видним обележјем полиције, в) и када се налази ван возила и када се налази у возилу са видним обележјем полиције.		3





511.	Светлосни знак – једно трепћуће или ротационо светло плаве боје на возилу са првенством пролаза које се креће по путу, значи обавезу за возача који види то светло да: <i>(Заокружити два тачна одговора)</i>	
	а) смањи брзину и настави кретање, б) обрати пажњу на ово возило и да му уступи првенство пролаза, односно да га пропусти, в) по потреби заустави своје возило или га уклони са коловоза док то возило прође, г) се заустави и да кретање настави тек пошто сва возила са првенством пролаза прођу.	3

512.	Светлосни знак – једно трепћуће или ротационо светло плаве боје на возилу са првенством пролаза које стоји на коловозу, значи обавезу за возаче других возила да: <i>(Заокружити три тачна одговора)</i>	
	а) смање брзину кретања свог возила, б) по потреби зауставе своје возило, в) зауставе своје возило, г) поступају по наредбама полицијског службеника, д) убрзају кретање свог возила.	3

513.	Светлосни знак – два трепћућа или ротациона светла плаве боје на возилу са првенством пролаза које стоји на коловозу, значи обавезу за возаче других возила да: <i>(Заокружити три тачна одговора)</i>	
	а) смање брзину кретања свог возила, б) по потреби зауставе своје возило, в) поступају по наредбама полицијског службеника, г) зауставе своје возило, д) убрзају кретање свог возила.	3

514.	Светлосни знак – црвено и плаво трепћуће светло која се наизменично пале на возилу под пратњом, за возача који сусретне та возила, односно кога сустигну та возила, значи обавезу да:	
	а) возила под пратњом пропусти, да им омогући мимоилажење и претицање, односно обилажење и по потреби да заустави своје возило или га уклони са коловоза, да се строго придржава наредби које му дају лица из пратње и да кретање настави тек пошто сва возила под пратњом прођу, б) се заустави и да кретање настави тек пошто сва возила под пратњом прођу, в) смањи брзину и настави кретање.	3

515.	Светлосни знак на возилу полиције које представља возило с првенством пролаза, исписан на дисплеју у виду променљиве поруке, значи за возача возила које се налази непосредно иза полицијског возила које даје овај светлосни знак:	
	а) обавезу да поступи по знаку исписаном у виду поруке на дисплеју, б) препоруку како да настави кретање.	3

516.	У ситуацији приказаној на слици када је возило полиције заустављено дужни сте да: <i>(Заокружити три тачна одговора)</i>	
------	---	--

	а) смањите брзину кретања свог возила, б) зауставите своје возило, в) по потреби зауставите своје возило, г) поступате по наредбама полицијског службеника, д) убрзате кретање свог возила.	3
--	---	---

517.	Светлосни знак који полицијски службеник даје батеријском лампом која емитује постојано црвено светло машући управно на уздужну осу пута, значи обавезу возача возила које се креће на делу пута где се тај светлосни знак даје и на кога се знак односи, да:	
	а) безбедно заустави своје возило на коловозу, а по могућности ван коловоза, непосредно испред полицијског службеника који тај знак даје, б) смањи брзину кретања свог возила, в) убрза кретање свог возила.	3


518.	У ситуацији приказаној на слици, када полицијски службеник даје светлосни знак батеријском лампом која емитује постојано црвено светло машући управно на уздужну осу пута, дужни сте да:	
------	--	--

	а) безбедно зауставите своје возило на коловозу, а по могућности ван коловоза, непосредно испред полицијског службеника који тај знак даје, б) смањите брзину кретања свог возила, в) убрзате кретање свог возила.	3
--	--	---





519. У ситуацији приказаној на слици, када полицијски службеник даје светлосни знак батеријском лампом која емитује постојано црвено светло машући управно на уздужну осу пута, дужни сте да:



а) зауставите своје возило,
 б) смањите брзину кретања свог возила, односно да се крећете са повећаном опрезношћу,
 в) убрзате кретање свог возила.

3

522. Светлосни знак на возилу полиције приказан на слици означава:



а) да нисте дужни да се зауставите иза полицијског возилом, ако при свом кретању нисте учинили прекршај,
 б) обавезу поступања по њему само када уз тај знак полицијски службеник из полицијског возила даје прописани знак за заустављање „стоп таблицом“,
 в) да сте дужни да зауставите возило иза полицијског возила.

3

520. Када возило под пратњом, односно возило са првенством пролаза даје истовремено и светлосни знак упозорења (узастопним или наизменичним паљењем дугих светала), возач возила које се креће непосредно испред полицијског возила које даје те знаке, дужан је да:

а) одмах безбедно заустави своје возило уз десну ивицу коловоза, а по могућности ван коловоза,
 б) омогући претицање полицијском возилу,
 в) смањи брзину кретања свог возила

3


521. Светлосни знак на возилу полиције, приказан на слици, означава:



а) да сте дужни да успорите кретање само у случају ако сте прекорачили дозвољену брзину,
 б) препоруку за безбедно кретање,
 в) да сте дужни да успорите кретање, односно да се крећете брзином којом се креће полицијско возило док даје тај знак.

3

523. Светлосни знак на возилу полиције, приказан на слици, означава:



а) да сте дужни да се крећете за полицијским возилом, само ако сте при свом кретању учинили прекршај,
 б) да сте дужни да се крећете за полицијским возилом док даје тај знак,
 в) препоруку за безбедно кретање.

3



524. Светлосни знак на возилу полиције приказан на слици означава:



- a) да сте дужни да зауставите возило испред полицијског возила,
- b) да нисте дужни да се зауставите, ако при свом кретању нисте учинили прекршај,
- v) обавезу поступања по њему само када уз тај знак полицијски службеник из полицијског возила даје прописани знак за заустављање „стоп таблицом“.

3



Забрањено је коришћење, односно повремено или стално умножавање базе података испитних питања или њених делова, било којим средствима и у било којој форми, у **комерцијалне сврхе**

13.	Возачу којем је одлуком надлежног органа забрањено управљање моторним возилом:	
	а) дозвољено је управљање моторним возилом, односно скупом возила, само на локалним путевима, б) дозвољено је управљање само моторним возилима чија највећа конструктивна брзина није већа од 45 km/h, в) није дозвољено управљање моторним возилом, односно скупом возила, г) дозвољено је управљање само скупом возила.	2

14.	Возачу који је искључен из саобраћаја:	
	а) дозвољено је управљање моторним возилом, односно скупом возила, само до места његовог пребивалишта, односно седишта правног лица у случају када је возило власништво правног лица, б) није дозвољено управљање само моторним возилима оне категорије којом је управљао у моменту искључења, в) дозвољено је управљање само скупом возила, г) није дозвољено управљање моторним возилом, односно скупом возила.	2

15.	Возачу који има две возачке дозволе издате од стране две државе, коришћење обе дозволе у исто време:	
	а) није дозвољено, б) је дозвољено, в) је дозвољено, ако борави ван места пребивалишта дуже од три месеца.	2

16.	Коришћење возачке дозволе чији је нестанак возач пријавио надлежном органу:	
	а) је дозвољено, б) није дозвољено, в) је дозвољено само у случају одузимања дупликата возачке дозволе.	2

17.	Да ли возач има обавезу да пријави промену пребивалишта надлежном органу?	
	а) Да, ради уписа у евиденцију возача, у року од 30 дана од дана те промене. б) Не, јер постоји јединствена евиденција возача. в) Да, ради уписа у евиденцију возача, у року од 90 дана од дана те промене.	2

18.	За време управљања моторним возилом, односно скупом возила, возач код себе:	
	а) мора имати возачку дозволу, односно пробну возачку дозволу, б) мора имати само личну карту, јер постоји јединствени регистар возача, путем кога је могуће извршити проверу, в) не мора имати возачку дозволу, односно пробну возачку дозволу, ако поседује међународну возачку дозволу.	2

19.	Возач коме је издата пробна возачка дозвола не управља возилом савесно и на прописан начин ако има:	
	а) најмање 18 казних поена, б) најмање 12 казних поена, в) најмање 9 казних поена.	2

20.	Међународна возачка дозвола издата у Републици Србији:	
	а) сме се користити за управљање моторним возилима на територији Републике Србије, б) не сме се користити за управљање моторним возилима на територији Републике Србије.	2

21.	Да ли возач мора дати овлашћеном лицу на увид возачку дозволу, односно пробну возачку дозволу, при контроли у саобраћају на путу?	
	а) Да. б) Не, ако је на увид дата лична карта помоћу које се може извршити провера у јединственом регистру возача. в) Не, ако је на увид дата међународна возачка дозвола.	2

22.	Приликом управљања возилом на путу возач је дужан да:	
	а) користи помагала која су уписана у возачку дозволу, односно пробну возачку дозволу, б) има у возилу помагала која су уписана у возачку дозволу, односно пробну возачку дозволу и да их по потреби користи, в) користи само она помагала која су му потребна за време војње.	2

23.	Здравственом прегледу ради утврђивања психофизичке способности морају се у одређеном року подвргавати: <i>(Заокружити два тачна одговора)</i>	
	а) сви возачи који управљају моторним возилима, б) возачи који управљају моторним возилима, односно скупом возила којима се обавља јавни превоз, в) возачи који управљају возилима којима се обавља превоз опасних материја, г) возачи којима је управљање моторним возилима основно занимање.	3

24.	Возачи који управљају моторним возилом, односно скупом возила којима се обавља јавни превоз, морају се подвргавати здравственом прегледу ради утврђивања психофизичке способности за возача:	
	а) у року који не може бити дужи од три године, б) у року који не може бити дужи од пет година, в) сваке године.	3

25.	Контролном здравственом прегледу мора се подвргнути возач:	
	а) који је учествовао у саобраћајној незгоди, б) код кога се посумња да због психофизичких сметњи, односно недостатака, није у стању безбедно да управља возилом, в) који је учинио више од три прекршаја из прописа из безбедности саобраћаја у току једне године.	3

26.	Возач коме је издата возачка дозвола не управља возилом савесно и на прописан начин ако има:	
	а) најмање 10 казних поена, б) најмање 14 казних поена, в) најмање 18 казних поена.	2



РЕПУБЛИКА СРБИЈА

МИНИСТАРСТВО УНУТРАШЊИХ ПОСЛОВА – УПРАВА САОБРАЋАЈНЕ ПОЛИЦИЈЕ





Забрањено је коришћење, односно повремено или стално умножавање базе података испитних питања или њених делова, било којим средствима и у било којој форми, у **комерцијалне сврхе**

27.	Када се возач у одређеном року не подвргне контролном здравственом прегледу на који је упућен, надлежни орган ће:	
	а) возачу одузети возачку дозволу, б) против возача поднети захтев за покретање прекршајног поступка, в) возачу привремено забранити управљање возилом у саобраћају на путу док се не подвргне контролном здравственом прегледу.	3

28.	Возачу који возилом не управља савесно и на прописан начин организациона јединица Министарства унутрашњих послова која возача води у евиденцији:	
	а) одузеће возачку дозволу, б) привремено ће забранити управљање моторним возилом у трајању до једне године, в) изрећи ће одговарајући број казних поена.	2

29.	Возач коме је издата возачка дозвола не управља возилом савесно и на прописан начин уколико је:	
	а) правоснажном пресудом осуђен за кривично дело против безбедности јавног саобраћаја, које за последицу има смрт лица, б) најмање 2 пута у року од 5 године правоснажно осуђен за кривично дело против безбедности јавног саобраћаја, које за последицу има смрт лица, в) правоснажном пресудом осуђен за кривично дело против безбедности јавног саобраћаја, које за последицу има тешке телесне повреде другог лица.	2

30.	Возач коме је издата возачка дозвола не управља возилом савесно и на прописан начин уколико је:	
	а) правоснажном пресудом осуђен за кривично дело против безбедности јавног саобраћаја, које за последицу има тешке телесне повреде другог лица, б) више од једном у року од 5 године правоснажно осуђен за кривично дело против безбедности јавног саобраћаја, које за последицу има тешке телесне повреде другог лица, в) више од једном у року од 5 године правоснажно осуђен за кривично дело против безбедности јавног саобраћаја, које за последицу има телесне повреде другог лица или имовинску штету.	2

1.	Моторним возилом, односно скупом возила, може самостално да управља возач који:	
	а) испуњава прописане услове и има уверење о положеном возачком испиту оне категорије возила којим управља, б) испуњава прописане услове и има возачку дозволу за управљање возилом оне категорије возила којим управља, в) има возачку дозволу.	2

33.	Возач коме је издата возачка дозвола не управља возилом савесно и на прописан начин уколико је:	
	а) правоснажном пресудом осуђен за кривично дело против безбедности јавног саобраћаја, које за последицу има телесне повреде другог лица или имовинску штету, б) више од једном у року од 5 године правоснажно осуђен за кривично дело против безбедности јавног саобраћаја, које за последицу има телесне повреде другог лица или имовинску штету, в) више од једном у року од 3 године правоснажно осуђен за кривично дело против безбедности јавног саобраћаја, које за последицу има телесне повреде другог лица или имовинску штету.	2

34.	Казнени поени изречени возачу се бришу:	
	а) након истека 24 месеца од дана правоснажности одлуке о прекршају, б) након истека 24 месеца од дана извршења прекршаја, в) уколико возач у току 24 месеца од дана правоснажности одлуке о прекршају није поново правоснажно кажњен изрицањем казних поена.	2

35.	Лице којем је изречена заштитна мера, односно мера безбедности забране управљања моторним возилом:	
	а) не може започети нити вршити обуку и полагати возачки испит у време трајања те мере, б) може вршити обуку али не може полагати возачки испит, у време трајања те мере, в) може вршити теоријску обуку и полагати теоријски испит, али не може вршити практичну обуку и полагати практични испит, у време трајања те мере.	2

36.	Кандидат за возача за време практичне обуке код себе мора имати и ставити на увид: <i>(Заокружити три тачна одговора)</i>	
	а) доказ о здравственој способности за возача, б) потврду о положеном теоријском испиту, в) личну карту, г) потврду о завршеној теоријској обуци, д) уговор о условима под којима ће се обавити обука, ђ) књижицу обуке кандидата за возача.	2

37.	Возачку дозволу за управљање моторним возилом категорије АМ може добити лице које је навршило:	
	а) 14 година, б) 15 година, в) 16 година.	2

38.	Возачку дозволу за управљање моторним возилом категорије А1 може добити лице које је навршило:	
	а) 15 година, б) 16 година, в) 18 година.	2



РЕПУБЛИКА СРБИЈА

МИНИСТАРСТВО УНУТРАШЊИХ ПОСЛОВА – УПРАВА САОБРАЋАЈНЕ ПОЛИЦИЈЕ





Забрањено је коришћење, односно повремено или стално умножавање базе података испитних питања или њених делова, било којим средствима и у било којој форми, у комерцијалне сврхе

39.	Возачку дозволу за управљање моторним возилом категорије А2 може добити лице које је навршило:		
	а) 15 година, б) 16 година, в) 18 година.		2

40.	Возачку дозволу за управљање моторним возилом категорије А може добити лице које је навршило:		
	а) 18 година, б) 20 година, в) 24 година.		2

41.	Возачку дозволу за управљање моторним возилом категорије F може добити лице које је навршило:		
	а) 14 година, б) 15 година, в) 16 година.		2

42.	Возачку дозволу за управљање возилима категорије В, В1 и ВЕ може добити лице које је навршило:		
	а) 17 година, б) 18 година, в) 21 година.		2

43.	Возачку дозволу за управљање возилима категорије С1 и С1Е може добити лице које је навршило:		
	а) 17 година, б) 18 година, в) 21 година.		2

44.	Возачку дозволу за управљање возилима категорије С и СЕ може добити лице које је навршило:		
	а) 18 година, б) 21 година, в) 24 година.		2

45.	Возачку дозволу за управљање возилима категорије D1 и D1E може добити лице које је навршило:		
	а) 18 година, б) 21 година, в) 24 година.		2

46.	Возачку дозволу за управљање возилима категорије D и DE може добити лице које је навршило:		
	а) 18 година, б) 21 година, в) 24 година.		2

47.	Возачку дозволу за управљање возилима категорије ВЕ могу добити само они возачи који већ имају возачку дозволу за управљање моторним возилом категорије:		
	а) А, б) В, в) В1.		2

48.	Возачку дозволу за управљање возилима категорије С1Е могу добити само они возачи који већ имају возачку дозволу за управљање моторним возилом категорије:		
	а) В, б) В1, в) С1.		2

49.	Возачку дозволу за управљање возилима категорије СЕ могу добити само они возачи који већ имају возачку дозволу за управљање моторним возилом категорије:		
	а) В, б) С1, в) С.		2

50.	Возачку дозволу за управљање возилима категорије D1E могу добити само они возачи који већ имају возачку дозволу за управљање возилом категорије:		
	а) ВЕ, б) С, в) D1.		2

51.	Возачку дозволу за управљање возилима категорије DE могу добити само они возачи који већ имају возачку дозволу за управљање возилом категорије:		
	а) ВЕ, б) D1, в) D.		2

52.	Возачку дозволу за управљање моторним возилима категорије С1 и С могу добити само они возачи који већ имају возачку дозволу за управљање моторним возилом категорије:		
	а) А, б) В, в) В1.		2

53.	Возачку дозволу за управљање моторним возилима категорије D могу добити само они возачи који већ имају возачку дозволу за управљање моторним возилом категорије С најмање:		
	а) једну годину, б) две године, в) три године.		2

54.	Возачку дозволу за управљање моторним возилима категорије D1 могу добити само они возачи који већ имају возачку дозволу за управљање моторним возилом категорије С1 најмање:		
	а) једну годину, б) две године, в) три године.		2

55.	Возач коме је издата возачка дозвола за управљање моторним возилима категорије А1 сме да управља у саобраћају на путу: (Заокружити два тачна одговора)		
	а) тешким трициклом чија снага мотора не прелази 15 kW, б) мотоциклом чија радна запремина мотора није већа 125 cm ³ и снаге мотора до 11 kW, чији однос снаге мотора и масе возила није већи од 0,1 kW/kg, в) мотоциклом чија снага мотора није већа од 35 kW и чији однос снаге мотора и масе возила није већи од 0,2 kW/kg, г) тешким четвороциклом.		2



РЕПУБЛИКА СРБИЈА

МИНИСТАРСТВО УНУТРАШЊИХ ПОСЛОВА – УПРАВА САОБРАЋАЈНЕ ПОЛИЦИЈЕ





Забрањено је коришћење, односно повремено или стално умножавање базе података испитних питања или њених делова, било којим средствима и у било којој форми, у **комерцијалне сврхе**

56.	Возач коме је издата возачка дозвола за управљање моторним возилима категорије АМ сме да управља у саобраћају на путу: (<i>Заокружити три тачна одговора</i>)	а) мопедом, б) мотоциклом чија радна запремина мотора није већа 125 cm ³ , в) тешким трициклом, г) лаким трициклом, д) лаким четвороциклом, ђ) тешким четвороциклом.	2
-----	--	--	---

57.	Возач коме је издата возачка дозвола за управљање моторним возилима категорије А1 сме да управља у саобраћају на путу:	а) мотоциклом чија је радна запремина мотора 150 cm ³ , снага мотора 15 kW и однос снаге мотора и масе возила је 0,1 kW/kg, б) мотоциклом чија је радна запремина мотора 100 cm ³ , снага мотора 15 kW и однос снаге мотора и масе возила је 0,1 kW/kg, в) мотоциклом чија је радна запремина мотора 100 cm ³ , снага мотора 10 kW и однос снаге мотора и масе возила је 0,1 kW/kg.	2
-----	--	--	---

58.	Возач коме је издата возачка дозвола за управљање моторним возилима категорије А2 сме да управља у саобраћају на путу: (<i>Заокружити два тачна одговора</i>)	а) мотоциклом чија снага мотора није већа од 35 kW и чији однос снаге мотора и масе возила није већи од 0,2 kW/kg, б) тешким четвороциклом, в) тешким трициклом чија снага мотора не прелази 15 kW, г) тешким трициклом без обзира на снагу мотора.	2
-----	--	--	---

59.	Возач коме је издата возачка дозвола за управљање моторним возилима категорије А2 сме да управља у саобраћају на путу:	а) мотоциклом чија је снага мотора 30 kW и однос снаге мотора и масе возила је 0,2 kW/kg, б) мотоциклом чија је снага мотора 40 kW и однос снаге мотора и масе возила је 0,3 kW/kg, в) мотоциклом чија је снага мотора 30 kW и однос снаге мотора и масе возила је 0,3 kW/kg.	2
-----	--	---	---

60.	Возач коме је издата возачка дозвола за управљање моторним возилима категорије D1 сме да управља у саобраћају на путу:	а) аутобусима чија највећа дозвољена маса није већа од 7.500 kg и чија максимална дужина не прелази 8 m, б) аутобусима који осим седишта за возача имају највише 16 седишта и чија максимална дужина не прелази 8 m, в) аутобусима који осим седишта за возача имају највише 25 седишта и чија максимална дужина не прелази 8 m.	2
-----	--	--	---

61.	Возач коме је издата возачка дозвола за управљање моторним возилима категорије А сме да управља у саобраћају на путу: (<i>Заокружити два тачна одговора</i>)	а) мотоциклом, б) мопедом, в) тешким четвороциклом, г) радном машином.	2
-----	---	---	---

62.	Возач коме је издата возачка дозвола за управљање моторним возилима категорије В1 сме да управља у саобраћају на путу: (<i>Заокружити три тачна одговора</i>)	а) тешким трициклом чија снага мотора није већа од 15 kW, б) мопедом, в) тешким трициклом без обзира на снагу мотора, г) лаким и тешким четвороциклом, д) радном машином, ђ) мотокултиватором.	2
-----	--	---	---

63.	Возач коме је издата возачка дозвола за управљање моторним возилима категорије В1 сме да управља у саобраћају на путу: (<i>Заокружити два тачна одговора</i>)	а) трактором, б) тешким трициклом чија снага мотора није већа од 15 kW, в) радном машином чија највећа дозвољена маса није већа од 3.500 kg, г) лаким трициклом и лаким четвороциклом, д) мопедом.	2
-----	--	--	---

64.	Возач коме је издата возачка дозвола за управљање моторним возилима категорије В сме да управља у саобраћају на путу: (<i>Заокружити два тачна одговора</i>)	а) трактором, б) тешким трициклом чија снага мотора није већа од 15 kW, в) радном машином чија највећа дозвољена маса није већа од 3.500 kg, г) тешким трициклом чија снага мотора је већа од 15 kW када напуни 21 годину.	2
-----	---	---	---

65.	Возач коме је издата возачка дозвола за управљање моторним возилима категорије В сме да управља у саобраћају на путу: (<i>Заокружити два тачна одговора</i>)	а) мопедом, б) лаким трициклом, в) радном машином, г) лаким четвороциклом.	2
-----	---	---	---

66.	Возач коме је издата возачка дозвола за управљање моторним возилима категорије А сме да управља у саобраћају на путу: (<i>Заокружити два тачна одговора</i>)	а) мотоциклом, б) тешким трициклом, в) тешким четвороциклом, г) радном машином.	2
-----	---	--	---



РЕПУБЛИКА СРБИЈА

МИНИСТАРСТВО УНУТРАШЊИХ ПОСЛОВА – УПРАВА САОБРАЋАЈНЕ ПОЛИЦИЈЕ





Забрањено је коришћење, односно повремено или стално умножавање базе података испитних питања или њених делова, било којим средствима и у било којој форми, у **комерцијалне сврхе**

67.	Возач коме је издата возачка дозвола за управљање моторним возилима категорије В може да управља у саобраћају на путу тим возилима и када им је придодато прикључно возило:	
	а) чија највећа дозвољена маса није већа од 750 kg, б) ако највећа дозвољена маса скупа возила није већа од 3.500 kg, в) ако маса прикључног возила није већа од масе вучног возила.	2

73.	Возач коме је издата возачка дозвола за управљање возилима категорије С1Е сме да управља у саобраћају на путу скуповима возила који чине вучно возило које припада категорији С1 и прикључно возило, ако:	
	а) највећа дозвољена маса скупа возила није већа од 12.000 kg, б) највећа дозвољена маса прикључног возила није већа од 12.000 kg, в) укупна маса скупа возила није већа од 12.000 kg.	2

68.	Возач коме је издата возачка дозвола за управљање моторним возилима категорије В сме да управља у саобраћају на путу: <i>(Заокружити два тачна одговора)</i>	
	а) путничким возилима чија највећа дозвољена маса није већа од 3.500 kg, б) мопедом, в) теретним возилима чија највећа дозвољена маса није већа од 3.500 kg, г) теретним возилима чија носивост није већа од 3.500 kg.	2

74.	Возач коме је издата возачка дозвола за управљање возилима категорије С1Е сме да управља у саобраћају на путу скуповима возила који чине вучно возило које припада категорији В и прикључно возило, ако:	
	а) највећа дозвољена маса скупа возила није већа од 12.000 kg, б) дужина скупа возила није већа од 8 m, в) укупна маса скупа возила није већа од 12.000 kg.	2

69.	Возач коме је издата возачка дозвола за управљање моторним возилима категорије В сме да управља у саобраћају на путу: <i>(Заокружити два тачна одговора)</i>	
	а) трактором, б) мотокултиватором, в) радном машином, г) тешким четвороциклом.	2

75.	Возач коме је издата возачка дозвола за управљање моторним возилима категорије D1 може да управља у саобраћају на путу тим возилима и када им је придодато прикључно возило:	
	а) чија највећа дозвољена маса није већа од 750 kg, б) чија носивост није већа од 750 kg, в) чија укупна маса није већа од 750 kg.	2

70.	Возач коме је издата возачка дозвола за управљање возилима категорије ВЕ сме да управља у саобраћају на путу скуповима возила који чине вучно возило које припада категорији В и прикључно возило чија:	
	а) највећа дозвољена маса није већа од 3.500 kg, б) највећа дозвољена маса није већа од 5.000 kg, в) носивост није већа од 3.500 kg.	2

76.	Возач коме је издата возачка дозвола за управљање возилима категорије D1Е сме да управља у саобраћају на путу скуповима возила који чине вучно возило које припада категорији D1 и прикључно возило:	
	а) само ако највећа дозвољена маса скупа возила није већа од 12.000 kg, б) само ако највећа дозвољена маса прикључног возила није већа од 3.500 kg, в) без обзира на највећу дозвољену масу прикључног возила.	2

71.	Возач коме је издата возачка дозвола за управљање моторним возилима категорије С1 сме да управља у саобраћају на путу:	
	а) аутобусима чија највећа дозвољена маса није већа од 7.500 kg, б) теретним возилима чија највећа дозвољена маса није већа од 7.500 kg, в) тракторима са или без прикључних возила за трактор, чија највећа дозвољена маса није већа од 7.500 kg.	2

77.	Возач коме је издата возачка дозвола за управљање моторним возилима категорије С сме да управља у саобраћају на путу: <i>(Заокружити два тачна одговора)</i>	
	а) теретним возилом, б) трактором са или без прикључних возила за трактор, в) путничким возилом, г) мопедом, д) радном машином.	2

72.	Возач коме је издата возачка дозвола за управљање моторним возилима категорије С1 може да управља у саобраћају на путу тим возилима и када им је придодато прикључно возило:	
	а) чија највећа дозвољена маса није већа од 750 kg, б) чија носивост није већа од 750 kg, в) чија укупна маса није већа од 750 kg.	2

78.	Возач коме је издата возачка дозвола за управљање моторним возилима категорије С1 и С може да управља у саобраћају на путу тим возилима и када им је придодато прикључно возило:	
	а) чија укупна маса није већа од 750 kg, б) чија носивост није већа од 750 kg, в) чија највећа дозвољена маса није већа од 750 kg.	2



РЕПУБЛИКА СРБИЈА

МИНИСТАРСТВО УНУТРАШЊИХ ПОСЛОВА – УПРАВА САОБРАЋАЈНЕ ПОЛИЦИЈЕ





Забрањено је коришћење, односно повремено или стално умножавање базе података испитних питања или њених делова, било којим средствима и у било којој форми, у **комерцијалне сврхе**

79.	Возач коме је издата возачка дозвола за управљање возилима категорије СЕ сме да управља у саобраћају на путу скуповима возила који чине вучно возило које припада категорији С и прикључно возило:	
	а) само ако највећа дозвољена маса скупа возила није већа од 12.000 kg, б) без обзира на највећу дозвољену масу скупа возила, в) само ако највећа дозвољена маса прикључног возила није већа од 12.000 kg.	2

80.	Возач коме је издата возачка дозвола за управљање моторним возилима категорије D сме да управља у саобраћају на путу: <i>(Заокружити два тачна одговора)</i>	
	а) аутобусом, б) скупом возила који чине аутобус и прикључно возило чија највећа дозвољена маса није већа од 750 kg, в) скупом возила који чине аутобус и прикључно возило чија највећа дозвољена маса није већа од 3.500 kg, г) трактором и радном машином.	2

81.	Возач коме је издата возачка дозвола за управљање моторним возилима категорије D1 и D може да управља у саобраћају на путу тим возилима и када им је придодато прикључно возило:	
	а) чија укупна маса није већа од 750 kg, б) чија носивост није већа од 750 kg, в) чија највећа дозвољена маса није већа од 750 kg.	2

82.	Возач коме је издата возачка дозвола за управљање возилима категорије DE сме да управља у саобраћају на путу скуповима возила који чине вучно возило које припада категорији D и прикључно возило:	
	г) само ако највећа дозвољена маса скупа возила није већа од 12.000 kg, д) без обзира на највећу дозвољену масу скупа возила, е) само ако највећа дозвољена маса прикључног возила није већа од 3.500 kg.	2

83.	Возач коме је издата возачка дозвола за управљање моторним возилима категорије F сме да управља у саобраћају на путу: <i>(Заокружити два тачна одговора)</i>	
	а) радном машином, б) мопедом, в) лаким трициклом и лаким четвороциклом, г) трактором са или без прикључних возила за трактор.	2

84.	Возач коме је издата возачка дозвола за управљање моторним возилима категорије M сме да управља у саобраћају на путу:	
	а) мопедом, б) лаким трициклом и лаким четвороциклом, в) мотокултиватором.	2

85.	Возач који је неспособан за безбедно управљање возилом, односно који је у толикој мери уморан, односно болестан или је у таквом психичком стању да није способан да безбедно управља возилом:	
	а) не сме да управља возилом у саобраћају на путу, б) сме да управља возилом у саобраћају на кратком делу пута, в) сме да управља возилом у саобраћају на путу ако тиме не омета, односно не угрожава друге учеснике у саобраћају.	3

86.	Возач који је под дејством алкохола, односно психоактивних супстанци:	
	а) сме да управља возилом у саобраћају на путу ако тиме не омета, односно не угрожава друге учеснике у саобраћају, б) сме да управља возилом у саобраћају на кратком делу пута, в) не сме да управља возилом у саобраћају на путу, г) не сме да управља возилом само у саобраћају на јавном путу.	3

87.	Под дејством алкохола је возач код којег је садржај алкохола у крви (утврђен анализом одговарајућег узорка крви или средствима или апаратима за мерење алкохолисаности) већи од:	
	а) 1,20 mg/ml, б) 0,50 mg/ml, в) 0,30 mg/ml.	3

88.	Возач аутобуса, када управља возилом у саобраћају на путу:	
	а) сме да има садржај алкохола у крви највише до 0,30 mg/ml, б) сме да има садржај алкохола у крви највише до 0,30 mg/ml, ако не обавља јавни превоз лица, в) не сме да има алкохола у крви.	3

89.	Возач моторног возила чија је највећа дозвољена маса већа од 3.500 kg, када управља возилом у саобраћају на путу:	
	а) не сме да има алкохола у крви, б) сме да има садржај алкохола у крви највише до 0,30 mg/ml, в) сме да има садржај алкохола у крви највише до 0,30 mg/ml, ако не обавља јавни превоз лица, односно ствари.	3

90.	Возач возила којим се превозе опасне материје, односно врши ванредни превоз, када управља возилом у саобраћају на путу:	
	а) сме да има садржај алкохола у крви највише до 0,30 mg/ml, б) не сме да има алкохола у крви, в) сме да има садржај алкохола у крви највише до 0,30 mg/ml, ако не обавља јавни превоз ствари.	3



РЕПУБЛИКА СРБИЈА

МИНИСТАРСТВО УНУТРАШЊИХ ПОСЛОВА – УПРАВА САОБРАЋАЈНЕ ПОЛИЦИЈЕ





Забрањено је коришћење, односно повремено или стално умножавање базе података испитних питања или њених делова, било којим средствима и у било којој форми, у **комерцијалне сврхе**

91.	Када учествује у саобраћају на путу, не сме да има алкохола у организму возач: <i>(Заокружити два тачна одговора)</i>	
	а) возила којим се превозе опасне материје, б) возила којим се врши ванредни превоз, в) возила којим се врши пробна вожња, г) мотокултиватора.	3

92.	Возач возила категорије АМ, када управља возилом у саобраћају на путу:	
	а) не сме да има алкохола у крви, б) сме да има садржај алкохола у крви највише до 0,30 mg/ml, в) сме да има садржај алкохола у крви највише до 0,50 mg/ml.	3

93.	Возач возила категорије А1, када управља возилом у саобраћају на путу:	
	а) не сме да има алкохола у крви, б) сме да има садржај алкохола у крви највише до 0,30 mg/ml, в) сме да има садржај алкохола у крви највише до 0,50 mg/ml.	3

94.	Возач возила категорије А2, када управља возилом у саобраћају на путу:	
	а) не сме да има алкохола у крви, б) сме да има садржај алкохола у крви највише до 0,30 mg/ml, в) сме да има садржај алкохола у крви највише до 0,50 mg/ml.	3

95.	Возач возила категорије А, када управља возилом у саобраћају на путу:	
	а) не сме да има алкохола у крви, б) сме да има садржај алкохола у крви највише до 0,30 mg/ml, в) сме да има садржај алкохола у крви највише до 0,50 mg/ml.	3

96.	Кандидат за возача током практичне обуке и полагања практичног испита:	
	а) не сме да има алкохола у крви, б) сме да има садржај алкохола у крви највише до 0,30 mg/ml, в) сме да има садржај алкохола у крви највише до 0,50 mg/ml.	3

97.	Возач са пробном возачком дозволом, када управља возилом у саобраћају на путу:	
	а) не сме да има алкохола у крви само у периоду од 23,00 до 05,00 сати, б) не сме да има алкохола у крви, в) сме да има садржај алкохола у крви највише до 0,30 mg/ml.	3

98.	Утврђивање да ли је возач у толикој мери уморан, болестан или је у таквом психофизичком стању да није способан да безбедно управља возилом, врши се:	
	а) стручним прегледом, б) непосредним увидом полицијског службеника, в) помоћу одговарајућих уређаја, од стране полицијског службеника.	3

99.	Возач возила на слици:	
		
	а) не сме да има алкохола у крви, б) сме да има садржај алкохола у крви највише до 0,30 mg/ml, в) сме да има садржај алкохола у крви највише до 0,50 mg/ml.	3

100.	Возач возила којим се обавља јавни превоз лица, када управља возилом у саобраћају на путу:	
	а) не сме да има алкохола у организму, б) сме да има садржај алкохола у крви највише до 0,30 mg/ml, в) сме да има садржај алкохола у крви највише до 0,50 mg/ml.	3

101.	Возач возила са правом првенства пролаза, када управља возилом у саобраћају на путу:	
	а) сме да има садржај алкохола у крви највише до 0,30 mg/ml, б) сме да има садржај алкохола у крви највише до 0,50 mg/ml, в) не сме да има алкохола у крви.	3

102.	Возач возила којим се обавља јавни превоз ствари, када управља возилом у саобраћају на путу:	
	а) не сме да има алкохола у организму, б) сме да има садржај алкохола у крви највише до 0,30 mg/ml, в) сме да има садржај алкохола у крви највише до 0,50 mg/ml.	3

ДУЖНОСТИ У СЛУЧАЈУ САОБРАЋАЈНЕ НЕЗГОДЕ

103.	Лице које се затекне или наиђе на место саобраћајне незгоде у којој има повређених лица дужно је да одмах обавести:	
	а) управљача пута, б) полицију, односно службу хитне медицинске помоћи, в) породицу повређеног лица.	2

104.	Возач који је учествовао у саобраћајној незгоди у којој је неко лице задобило телесне повреде, односно погинуло, или је настала велика материјална штета дужан је да:	
	а) обавести полицију и попуни Европски извештај о саобраћајној незгоди, б) обезбеди трагове и предмете незгоде, под условом да тиме не угрожава безбедност саобраћаја, в) обавести службу помоћи на путу и удаљи се са места незгоде ако прети опасност од нових саобраћајних незгода.	2



РЕПУБЛИКА СРБИЈА

МИНИСТАРСТВО УНУТРАШЊИХ ПОСЛОВА – УПРАВА САОБРАЋАЈНЕ ПОЛИЦИЈЕ





105	Возач који је учествовао у саобраћајној незгоди у којој је неко лице задобило телесне повреде, односно погинуло, или је настала велика материјална штета дужан је да:	<ul style="list-style-type: none"> а) обавести службу хитне помоћи и удаљи се са места незгоде ако прети опасност од нових саобраћајних незгода, б) обавести службу хитне помоћи, повређене што пре уклони са коловоза, односно избави из возила и остави их на месту где не могу бити угрожени, в) укаже помоћ повређенима, односно прву помоћ или медицинску помоћ у складу са својим знањима, способностима и могућностима. 	2
106	Лице које се затекне или наиђе на место саобраћајне незгоде у којој има повређених лица: (<i>Заокружити два тачна одговора</i>)	<ul style="list-style-type: none"> а) није обавезно да предузима било какве радње, односно мора обићи место саобраћајне незгоде на начин који неће довести до уништења трагова уколико је то могуће, б) обавезно је да у складу са својим знањима, способностима и могућностима пружи помоћ лицима повређеним у саобраћајној незгоди и по потреби их превезе до најближе здравствене установе, в) обавезно је да се што пре удаљи са места саобраћајне незгоде и обавести најближу службу помоћи на путу, г) обавезно је да предузме све што је у његовој моћи да спречи увећавање постојећих, односно настајање нових последица. 	2
107	Возач је дужан да заустави возило, искључи мотор, укључи све показиваче правца, постави сигурносни троугао на безбедном растојању, обавести полицију и/или службу хитне помоћи и предузме друге расположиве мере како би упозорио остале учеснике у саобраћају о постојању незгоде:	<ul style="list-style-type: none"> а) када је учествовао у саобраћајној незгоди без обзира на њене последице, б) када је учествовао у саобраћајној незгоди у којој је неко лице задобило телесне повреде, односно погинуло, или је настала велика материјална штета, в) када учесник који је изазвао саобраћајну незгоду неће да надокнади малу материјалну штету која је наступила као последица те незгоде. 	2
108	Од настанка саобраћајне незгоде до завршетка увиђаја, учесницима саобраћајне незгоде узимање алкохолних пића, односно психоактивних супстанци:	<ul style="list-style-type: none"> а) није дозвољено, б) је дозвољено, након спроведеног испитивања на присуство ових материја, в) није дозвољено, само када му такву забрану саопшти лице које врши увиђај. 	2
109	Возач који је учествовао у саобраћајној незгоди у којој је неко лице задобило телесне повреде, односно погинуло, или је настала велика материјална штета дужан је да:	<ul style="list-style-type: none"> а) предузме све мере заштите које су у његовој моћи да се спречи настајање нових и увећавање постојећих последица и повреда, б) обавести службу помоћи на путу и удаљи се са места незгоде ако прети опасност од нових саобраћајних незгода, в) обавести полицију и удаљи се са места незгоде ако није изазвао ту незгоду и нема знања, способности и могућности да пружи помоћ лицима повређеним у саобраћајној незгоди. 	2
110	Возач који је учествовао у саобраћајној незгоди у којој је неко лице задобило телесне повреде, односно погинуло, или је настала велика материјална штета:	<ul style="list-style-type: none"> а) дужан је да до доласка полиције врши регулисање саобраћаја на начин како то раде овлашћена лица, б) дужан је да упозори сва лица да се склоне са коловоза да не би била повређена и да не би уништавала трагове незгоде, в) није дужан да даје упозорења лицима која се затекну или наиђу на место саобраћајне незгоде. 	2
111	Возач који је учествовао у саобраћајној незгоди у којој је неко лице задобило телесне повреде, односно погинуло, или је настала велика материјална штета дужан је да:	<ul style="list-style-type: none"> а) обавести службу помоћи на путу и да се удаљи са места незгоде ако прети опасност од нових саобраћајних незгода, б) обавести полицију и да се удаљи са места незгоде ако није изазвао ту незгоду и нема знања, способности и могућности да пружи помоћ лицима повређеним у саобраћајној незгоди, в) обавести полицију и остане на месту незгоде до доласка полиције и завршетка увиђаја. 	2
112	Возач који је учествовао у саобраћајној незгоди у којој је неко лице задобило телесне повреде, односно погинуло, или је настала велика материјална штета: (<i>Заокружити два тачна одговора</i>)	<ul style="list-style-type: none"> а) дужан је да остане на месту незгоде до доласка полиције, без обзира на своје и повреде других учесника незгоде, б) може се удаљити са места незгоде ако му је неопходна хитна медицинска помоћ, в) може се удаљити са места незгоде ради превозења повређеног до најближе здравствене установе, г) може се удаљити са места незгоде ако нема знања, способности и могућности да пружи помоћ лицима повређеним у саобраћајној незгоди. 	2





Забрањено је коришћење, односно повремено или стално умножавање базе података испитних питања или њених делова, било којим средствима и у било којој форми, у **комерцијалне сврхе**

113	У саобраћајној незгоди у којој је настала мања материјална штета било који учесник саобраћајне незгоде или лице које је претрпело материјалну штету:	2
	а) може захтевати да полицијски службеник изађе на место незгоде и изврши увиђај, б) не може захтевати да полицијски службеник изађе на место незгоде и изврши увиђај, односно учесници ће попунити Европски извештај о саобраћајној незгоди, в) може захтевати да полицијски службеник изађе на место незгоде и изврши увиђај, само у случају када су и остали учесници, односно лице које је претрпело материјалну штету, сагласни са тим захтевом.	

114	Ако је бар један учесник или лице које је претрпело материјалну штету, у саобраћајној незгоди у којој је настала мања материјална штета, захтевао вршење увиђаја остали учесници:	2
	а) нису дужни да остану на месту саобраћајне незгоде, до завршетка увиђаја, б) су дужни да оставе податке о себи и возилу учеснику који је захтевао вршење увиђаја и могу се удаљити са места саобраћајне незгоде, в) су дужни да остану на месту саобраћајне незгоде, до завршетка увиђаја.	

115	Возач који је учествовао у саобраћајној незгоди у којој је настала само мања материјална штета: <i>(Заокружити два тачна одговора)</i>	2
	а) дужан је да до доласка полиције врши регулисање саобраћаја на начин како то раде овлашћена лица, б) дужан је да упозори остале учеснике у саобраћају о постојању возила и других препрека на путу, уколико их сам не може уклонити, в) дужан је да уклони возило и друге предмете са коловоза, ако онемогућавају или угрожавају одвијање саобраћаја, односно ако прети опасност од нових саобраћајних незгода, г) није дужан да даје упозорења лицима која се затекну или наиђу на место саобраћајне незгоде, д) не сме померати возило са места саобраћајне незгоде.	

116	Узимање узорка крви, односно урина, ради утврђивања присуства алкохола, односно психоактивних супстанци у организму учесника саобраћајне незгоде у којој има погинулих, односно повређених лица:	2
	а) је обавезно, б) није обавезно, уколико је провера присуства ових материја извршена коришћењем одговарајућих средстава, в) је обавезно, само у случају када је присуство ових материја утврђено коришћењем одговарајућих средстава.	

117	Возач који је учествовао у саобраћајној незгоди у којој је настала само мања материјална штета: <i>(Заокружити два тачна одговора)</i>	2
	а) дужан је да попуни Европски извештај о саобраћајној незгоди у случају када овлашћено лице не врши увиђај саобраћајне незгоде, б) не сме померати возило са места саобраћајне незгоде, в) дужан је да упозори сва лица да се склоне са коловоза да не би ометала саобраћај, г) дужан је да обавести полицију и поступи у складу са добијеним упутствима од стране полиције, д) није дужан да даје упозорења лицима која се затекну или наиђу на место саобраћајне незгоде.	

118	Возач који је учествовао у саобраћајној незгоди у којој је настала само мања материјална штета: <i>(Заокружити два тачна одговора)</i>	2
	а) дужан је да обавести полицију и поступи у складу са добијеним упутствима од стране полиције, б) дужан је да остави податке о себи и возилу возачу оштећеног возила или држаоцу друге оштећене ствари у незгоди, односно полицији, в) дужан је да до доласка полиције врши регулисање саобраћаја на начин како то раде овлашћена лица, г) дужан је да предузме мере заштите које су у његовој моћи да се спречи настајање нових и увећавање постојећих последица незгоде, д) дужан је да одмах надокнади штету другим учесницима саобраћајне незгоде ако је изазвао ту незгоду.	

119	Ако учесник у саобраћајној незгоди у којој је настала мања материјална штета на другом возилу, због одсутности возача другог возила, није у могућности да пружи личне податке и податке о осигурању возила, дужан је да:	2
	а) на оштећеном возилу у писаној форми остави своје личне податке, б) о тој незгоди обавести полицију и саопшти своје личне податке и податке о оштећеном возилу, в) о тој незгоди обавести осигуравајуће друштво код којег је осигурано његово возило и саопшти своје личне податке и податке о оштећеном возилу.	

120	Одузете регистарске таблице са возила које је учествовало у саобраћајној незгоди враћају се власнику, односно кориснику возила:	2
	а) када надлежном органу достави доказ да је возило технички исправно, б) након обављеног вештачења возила, в) након извршене поправке возила.	



РЕПУБЛИКА СРБИЈА

МИНИСТАРСТВО УНУТРАШЊИХ ПОСЛОВА – УПРАВА САОБРАЋАЈНЕ ПОЛИЦИЈЕ





Забрањено је коришћење, односно повремено или стално умножавање базе података испитних питања или њених делова, било којим средствима и у било којој форми, у **комерцијалне сврхе**

121	Приликом вршења увиђаја саобраћајне незгоде у којој нема погинулих, односно повређених лица, испитивање возача на присуство алкохола, односно психоактивних супстанци, помоћу одговарајућих средстава (алкометар, дрога тест и др.):	
	а) није обавезно, б) је обавезно, в) врши се само када то захтева бар један од учесника саобраћајне незгоде.	2

122	Меру искључења и одузимања регистарских таблица возила која су учествовала у саобраћајној незгоди полицијски службеник примењује:	
	а) на сва возила, када у незгоди има погинулих, односно повређених лица, б) на возила која нису у возном стању, односно на којима су очигледно неисправни склопови и уређаји битни за безбедно кретање, в) на возила којима је управљао возач чије је непрописно понашање довело до саобраћајне незгоде.	2

123	Након обављеног увиђаја саобраћајне незгоде, возач, односно власник возила, дужан је да:	
	а) без одлагања уклони са коловоза возило, терет, ствари или други материјал расут по путу, б) уклони возило са коловоза и обавести управљача пута о месту на коме се налазе ствари или други материјали расути по путу, в) уклони возило уколико је у возном стању.	2

124	Након саобраћајне незгоде са мањом материјалном штетом учесници у саобраћајној незгоди:	
	а) попуњавају записник о саобраћајној незгоди, б) попуњавају Европски извештај о саобраћајној незгоди, в) сачињавају изјаве, г) обавезни су да обавесте полицију ради вршења увиђаја.	2

ВРЕМЕ УПРАВЉАЊА И ОДМОР ВОЗАЧА

125	Дневно време управљања је укупно време управљања возилом:	
	а) у току било која 24 часа, б) између две паузе, в) између два дневна одмора или између дневног и недељног одмора.	2

126	Недеља је временски период:	
	а) од краја једног до почетка наредног недељног одмора, б) од било којих узастопних 7 периода по 24 часа у којима је возач управљао возилом, в) између понедељка у 00:00 сати и недеље у 24:00 сата.	2

127	Дневно време управљања теретним возилом или скупом возила чија је највећа дозвољена маса већа од 3.500 kg или аутобусом, може бити највише:	
	а) 9 сати, односно највише два пута недељно по 10 сати, б) 8 сати, в) 11 сати.	2

128	Укупно време управљања теретним возилом или скупом возила чија је највећа дозвољена маса већа од 3.500 kg или аутобусом у раздобљу од две узастопне недеље може бити највише:	
	а) 56 сати, б) 90 сати, в) 72 сата.	2

130	Пуни дневни одмор возача теретног возила или скупа возила чија највећа дозвољена маса прелази 3.500 kg или аутобуса траје најмање:	
	а) 9 сати, б) 11 сати, в) 12 сати.	2

131	Скраћени дневни одмор возача теретног возила или скупа возила чија највећа дозвољена маса прелази 3.500 kg или аутобуса траје:	
	а) најмање 10 сати, а мање од 12 сати, б) најмање 8 сати, а мање од 12 сати, в) најмање 9 сати, а мање од 11 сати.	2

132	Пуни недељни одмор возача теретног возила или скупа возила чија највећа дозвољена маса прелази 3.500 kg или аутобуса траје најмање:	
	а) 48 сати, б) 45 сати, в) 56 сати.	2

133	Скраћени недељни одмор возача теретног возила или скупа возила чија највећа дозвољена маса прелази 3.500 kg или аутобуса траје:	
	а) најмање 24 сата, а мање од 45 сати, б) најмање 30 сати, а мање од 48 сати, в) најмање 12 сати, а мање од 24 сата.	2

134	Возач теретног возила или скупа возила чија највећа дозвољена маса прелази 3.500 kg или аутобуса, мора направити паузу у трајању од најмање 45 минута најкасније након:	
	а) 5 сати и 30 минута управљања возилом, б) 4 сата и 30 минута управљања возилом, в) 4 сата управљања возилом.	2

135	Паузу од најмање 45 минута, најкасније након 4 сата и 30 минута управљања возилом, мора направити возач: (Заокружити два тачна одговора)	
	а) било којег возила, б) теретног возила, в) теретног возила, само када његова највећа дозвољена маса прелази 7.500 kg, г) скупа возила чија највећа дозвољена маса прелази 3.500 kg, д) било којег скупа возила.	2



РЕПУБЛИКА СРБИЈА

МИНИСТАРСТВО УНУТРАШЊИХ ПОСЛОВА – УПРАВА САОБРАЋАЈНЕ ПОЛИЦИЈЕ





Забрањено је коришћење, односно повремено или стално умножавање базе података испитних питања или њених делова, било којим средствима и у било којој форми, у **комерцијалне сврхе**

137	Возач теретног возила или скупа возила чија највећа дозвољена маса прелази 3.500 kg или аутобуса уместо паузе од најмање 45 минута, може направити више пауза распоређених током вожње тако да време управљања не сме бити дуже од 4 сата и 30 минута и да:	
	а) укупно трајање пауза износи најмање 45 минута, б) прва пауза траје најмање 10 минута, а друга најмање 35 минута. в) свака пауза траје најмање 15 минута, при чему укупно трајање пауза износи најмање 45 минута.	2

140	Возач теретног возила или скупа возила чија највећа дозвољена маса прелази 3.500 kg или аутобуса, мора да искористи дневни одмор, након завршетка претходног дневног или недељног одмора, у року од:	
	а) 24 сата, б) 26 сати, в) 30 сати.	2

145	Возач теретног возила или скупа возила чија највећа дозвољена маса прелази 3.500 kg или аутобуса, мора да започне коришћење недељног одмора, након завршетка претходног недељног одмора, најкасније у року од:	
	а) 8 периода по 24 часа, б) 7 периода по 24 часа, в) 6 периода по 24 часа.	2

216. Када учествује у саобраћају на путу, не сме да има алкохола у организму:
(*Заокружити два тачна одговора*)

A

- а) кандидат за возача током практичне обуке,
- б) возач мотокултиватора,
- в) возач мотоцикла и mopеда,
- г) возач возила којим се врши пробна вожња.

3



РЕПУБЛИКА СРБИЈА

МИНИСТАРСТВО УНУТРАШЊИХ ПОСЛОВА – УПРАВА САОБРАЋАЈНЕ ПОЛИЦИЈЕ





Забрањено је коришћење, односно повремено или стално умножавање базе података испитних питања или њених делова, било којим средствима и у било којој форми, у **комерцијалне сврхе**

ВОЗИЛА

1.	У саобраћају на путу могу да учествују само моторна и прикључна возила за која су издате:	2
	а) саобраћајна дозвола, регистарске таблице и регистрациона налепница, б) саобраћајна дозвола и регистарске таблице, в) саобраћајна дозвола и потврда о техничкој исправности.	
2.	У саобраћају на путу могу да учествују само моторна и прикључна возила за које је издата:	2
	а) саобраћајна дозвола, б) саобраћајна дозвола, регистарска таблица и регистрациона налепница, в) потврда о техничкој исправности и регистрациони лист.	
3.	а) орган локалне самоуправе надлежан за послове саобраћаја, према пребивалишту, односно седишту власника возила, б) привредно друштво овлашћено за вршење техничког прегледа возила, према пребивалишту, односно седишту власника возила, в) територијално надлежна организациона јединица Министарства унутрашњих послова, према пребивалишту, односно седишту власника возила.	2
4.	Моторно и прикључно возило након истека рока важења регистрационе налепнице:	2
	а) сме да учествује у саобраћају на путу најдуже 15 дана од дана истека важења, б) не сме да учествује у саобраћају на путу, в) сме да учествује у саобраћају на путу најдуже 5 дана од дана истека важења.	
5.	У саобраћају на путу могу да учествују моторна и прикључна возила која нису регистрована ако: <i>(Заокружити два тачна одговора)</i>	2
	а) су означена као возила од историјског значаја (олдтајмери), б) се крећу од места преузимања као нерегистрована до места у коме ће бити регистрована, в) се крећу ради спровођења прописаног царинског поступка, г) нису првенствено намењена за учествовање у саобраћају на путу.	
6.	Таблице за привремено означавање и потврда о њиховом коришћењу издају се са роком важења најдуже:	2
	а) 7 дана, б) 15 дана, в) 30 дана.	

7.	Регистрациона налепница се издаје са роком важења од:	2
	а) једне године, б) 6 месеци, в) 15 дана.	
8.	Рок важења регистрационе налепнице је:	2
	а) 2 године, б) 3 године, в) 1 година.	
10.	Приликом промене власника, носиоца права коришћења, промене пребивалишта власника на територију другог регистарског подручја или других података који се уносе у саобраћајну дозволу за тракторе, прикључна возила за трактор и мотокултиваторе:	2
	а) возило не подлеже поновној регистрацији ако већ има издату регистрациону налепницу у трајном важењу, б) возило подлеже поновној регистрацији при чему се издаје регистрациона налепница у трајном важењу, в) возило подлеже поновној регистрацији при чему се издаје регистрациона налепница са роком важења од једне године.	
12.	За време управљања возилом возач код себе:	2
	а) не мора имати саобраћајну дозволу, ако је возило означено регистрационом налепницом, којој није истекао рок важења, б) мора имати саобраћајну дозволу, в) не мора имати саобраћајну дозволу, ако поседује полису обавезног осигурања од аутоодговорности.	
13.	Да ли возач, овлашћеном лицу, мора дати на увид саобраћајну дозволу при контроли у саобраћају на путу?	2
	а) Не, ако је возило означено регистрационом налепницом, којој није истекао рок важења, б) Не, ако је на увид дата полиса обавезног осигурања од аутоодговорности, в) Да.	
14.	Возило које је искључено из саобраћаја:	2
	а) сме да учествује у саобраћају на путу ако тиме не омета, односно не угрожава друге учеснике у саобраћају, б) не сме да учествује у саобраћају на путу, в) сме да учествује у саобраћају на кратком делу пута.	



РЕПУБЛИКА СРБИЈА

МИНИСТАРСТВО УНУТРАШЊИХ ПОСЛОВА – УПРАВА САОБРАЋАЈНЕ ПОЛИЦИЈЕ





Забрањено је коришћење, односно повремено или стално умножавање базе података испитних питања или њених делова, било којим средствима и у било којој форми, у **комерцијалне сврхе**

15.	Регистровано возило након истека рока важења регистрационе налепнице, ради одласка на технички преглед, оправку, односно испитивање, у саобраћају на путу:	
A	а) може да учествује ако прибави посебну дозволу надлежног органа,	
B	б) не може да учествује,	
C	в) може да учествује ако је означено таблицама за привремено означавање и ако му је издата потврда о њиховом коришћењу.	2

16.	За време управљања возилом које је означено регистарским таблицама за привремено означавање возач код себе мора имати:	
	а) доказ о власништву возила,	
	б) потврду о коришћењу таблица за привремено означавање возила,	
	в) потврду о техничкој исправности возила.	2

17.	Да ли возач, коме су издате регистарске табlice за привремено означавање мора дати овлашћеном лицу на увид потврду о коришћењу таблица за привремено означавање возила при контроли у саобраћају на путу?	
	а) Да.	
	б) Не, ако је на увид дата потврда о техничкој исправности возила,	
	в) Не, ако је на увид дата полиса обавезног осигурања од аутоодговорности.	2

18.	Када управља возилом које је означено регистарским таблицама за привремено означавање, возач:	
	а) се може кретати на целој територији Републике Србије у време означено у потврди о коришћењу таблица за привремено означавање возила,	
	б) је дужан да се креће релацијом и у време означено у потврди о коришћењу таблица за привремено означавање возила,	
	в) се може кретати само на подручју органа који је издао регистарске табlice за привремено означавање возила.	2

26.	Возило мора да испуњава прописане техничке услове, техничке прописе и да буде технички исправно:	
	а) када учествује у саобраћају на путу,	
	б) само када учествује у саобраћају на јавном путу,	
	в) само када учествује у саобраћају на путу са савременим коловозним застором.	2

27.	Возило је технички исправно ако: (Заокружити два тачна одговора)	
	а) задовољава све техничке нормативе за возило,	
	б) ако је у прописаном року подвргнуто редовном техничком прегледу,	
	в) има исправне све прописане уређаје и опрему,	
	г) ако је у возном стању и на њему нема видљивих оштећења уређаја и опреме.	2

19.	Власник, односно корисник регистрованог возила, који не поднесе захтев за издавање нове регистрационе налепнице, дужан је да врати регистарске табlice органу који је исте издао у року од:	
	а) 7 дана од дана истека важења регистрационе налепнице,	
	б) 15 дана од дана истека важења регистрационе налепнице,	
	в) 30 дана од дана истека важења регистрационе налепнице.	2

20.	Власник, односно корисник возила дужан је да одјави возило ако је уништено или отписано у року од:	
	а) 7 дана,	
	б) 15 дана,	
	в) 30 дана.	2

21.	Власник, односно корисник возила дужан је да пријави промену било ког податка који се уписује у саобраћајну дозволу у року од:	
	а) 7 дана,	
	б) 15 дана,	
	в) 30 дана.	2

22.	Физичко лице које није власник возила које је предмет финансијског лизинга, односно закупа:	
	а) сме у саобраћају на путу користити возило одмах након закључења финансијског лизинга, односно закупа,	
	б) не сме у саобраћају на путу користити возило пре него што се податак о коришћењу не упише у саобраћајну дозволу.	2

23.	У случају губитка или нестанка регистарске табlice, односно регистрационе налепнице, власник, односно возач је дужан:	
	а) да у року од 7 дана обавести организациону јединицу Министарства унутрашњих послова, која је издала регистарске табlice, односно регистрациону налепницу,	
	б) да у року од 7 дана обавести најближу организациону јединицу Министарства унутрашњих послова,	
	в) да одмах о томе обавести најближу организациону јединицу Министарства унутрашњих послова.	2

24.	Редовни технички прегледи могу бити:	
	а) тромесечни и шестомесечни,	
	б) годишњи и петогодишњи,	
	в) годишњи и шестомесечни.	2

25.	На контролни технички преглед се може упутити возило:	
	а) које је у возном стању,	
	б) које није у возном стању,	
	в) којем су у саобраћајној незгоди оштећени уређаји и склопови битни за безбедно учествовање у саобраћају.	2



РЕПУБЛИКА СРБИЈА

МИНИСТАРСТВО УНУТРАШЊИХ ПОСЛОВА – УПРАВА САОБРАЋАЈНЕ ПОЛИЦИЈЕ





Забрањено је коришћење, односно повремено или стално умножавање базе података испитних питања или њених делова, било којим средствима и у било којој форми, у **комерцијалне сврхе**

28.	Возило које је преправљено може учествовати у саобраћају:	2
	а) одмах након извршене преправке, б) након што се испита и утврди да испуњава прописане услове, в) након што се на техничком прегледу утврди да је технички исправно.	

29.	Технички преглед моторног, односно прикључног возила се врши ради утврђивања да ли: (<i>Заокружити два тачна одговора</i>)	2
	а) испуњава техничке прописе и услове за учешће у саобраћају, б) је преправљено у складу са смерницама које одређује произвођач возила, в) је усаглашено са једнообразним техничким условима у складу са прописима о хомологацији, г) је возило технички исправно.	

30.	Свако поједино возило једнозначно је одређено:	2
	а) идентификационом ознаком возила, коју одређује произвођач возила, б) идентификационом ознаком возила и бројем мотора, в) регистрационом налепницом.	

31.	Редовном годишњем техничком прегледу возило се подвргава:	2
	а) сваке године, б) пре издавања саобраћајне дозволе, односно издавања регистрационе налепнице, в) најкасније једну годину након претходног редовног годишњег техничког прегледа возила.	

32.	Редовни годишњи технички преглед возила се може извршити најраније 30 дана пре:	2
	а) подношења захтева за регистрацију, б) истека важења регистрационе налепнице, в) истека важења саобраћајне дозволе.	

40.	Ванредни технички преглед возила обавља се: (<i>Заокружити два тачна одговора</i>)	2
	а) пре истека рока од шест месеци од дана почетка важења регистрационе налепнице, б) пре пуштања у саобраћај возила, код којег су у саобраћајној незгоди или на други начин оштећени витални склопови и уређаји битни за безбедно учествовање возила у саобраћају, односно које након тога није било у возном стању, в) ради контроле техничке исправности возила од стране овлашћеног лица Министарства унутрашњих послова, односно инспектора за друмски саобраћај, г) пре пуштања у саобраћај возила које је искључено из саобраћаја због техничке неисправности утврђене на контролном техничком прегледу.	

33.	Редовни шестомесечни технички преглед се мора обавити:	2
	а) пре истека рока од шест месеци од дана претходног редовног техничког прегледа возила, б) најкасније 15 дана после истека важења регистрационе налепнице, в) пре истека рока од шест месеци од дана почетка важења регистрационе налепнице.	

34.	Редовни шестомесечни технички преглед може се обавити најраније:	2
	а) 30 дана пре истека рока од шест месеци од дана почетка важења регистрационе налепнице, б) 15 дана пре истека рока од шест месеци од дана почетка важења регистрационе налепнице, в) 15 дана пре истека рока од шест месеци од дана претходног редовног техничког прегледа возила.	

35.	Редовном шестомесечном техничком прегледу се морају подвргавати сва моторна и прикључна возила:	2
	а) која су власништво правних лица и предузетника, б) намењена за превоз терета, в) којима се обавља јавни превоз.	

39.	Редовном шестомесечном техничком прегледу се морају подвргавати моторна возила старости преко:	2
	а) 10 година, б) 15 година, в) 20 година.	

41.	Контролни технички преглед врши се: (<i>Заокружити два тачна одговора</i>)	2
	а) по захтеву власника, односно корисника возила, б) по налогу овлашћеног лица Министарства унутрашњих послова, в) по налогу инспектора за друмски саобраћај, г) по захтеву возача.	

ТЕХНИЧКИ УСЛОВИ ЗА ВОЗИЛА

42.	Ближи услови које морају да испуњавају возила у саобраћају на путу у погледу димензија, техничких услова и уређаја, склопова и опреме и техничких норматива прописани су:	2
	а) Законом о безбедности саобраћаја на путевима, б) Правилником о техничком прегледу возила, в) Правилником о подели моторних и прикључних возила и техничким условима за возила у саобраћају на путевима.	



РЕПУБЛИКА СРБИЈА

МИНИСТАРСТВО УНУТРАШЊИХ ПОСЛОВА – УПРАВА САОБРАЋАЈНЕ ПОЛИЦИЈЕ





Забрањено је коришћење, односно повремено или стално умножавање базе података испитних питања или њених делова, било којим средствима и у било којој форми, у **комерцијалне сврхе**

46.	Прикључно возило које вуче мопед, односно мотоцикл, не сме бити шире од:	
A	а) једног метра, б) ширине мопеда, односно мотоцикла, који га вуче, в) 0,5 m.	2

48.	Највећа дозвољена толеранција највеће дозвољене дужине возила износи:	
	а) 0,50 %, б) 0,75 %, в) 1,00 %.	2

45.	Највећа дозвољена дужина мопеда, мотоцикла, трицикла и четвороцикла, износи:	
A	а) 3,00 m, б) 4,00 m, в) 5,00 m.	2

52.	Највећа дозвољена висина мопеда, мотоцикла, трицикла и четвороцикла износи:	
A	а) 2,50 m, б) 2,00 m, в) 1,50 m.	2

53.	Моторно, односно прикључно возило, може бити оптерећено тако да укупна маса моторног, односно прикључног возила, не прелази вредност:	
	а) носивости возила уписане у саобраћајну дозволу, б) осовинског оптерећења прописаног за погонску осовину моторног, односно гоњену осовину прикључног возила, в) највеће дозвољене масе возила која је декларисана на произвођачким таблицама моторног, односно прикључног возила.	2

54.	Укупна маса до које може бити оптерећено прикључног возило из скупа возила одређује се:	
	а) на основу декларисане вредности највеће дозвољене масе одређене на произвођачкој табlici прикључног возила и декларисане вредности укупне масе прикључног возила коју може вући моторно возило одређене на произвођачкој табlici моторног возила, б) само на основу декларисане вредности највеће дозвољене масе одређене на произвођачкој табlici прикључног возила, в) само на основу декларисане вредности укупне масе прикључног возила коју може вући моторно возило одређене на произвођачкој табlici моторног возила.	2

59.	Кочни систем мопеда, односно мотоцикала, мора да оствари функције:	
A	а) радног кочења, б) радног кочења и помоћног кочења, в) радног кочења, помоћног кочења и паркирног кочења.	2

71.	Радно кочење возила за превоз путника, теретних возила, мопеда, мотоцикала, трицикала, четвороцикала и прикључних возила, осим трактора, радних машина и прикључних возила за трактор, мора дејствовати:	
A	а) само на точкове гоњене осовине,	2
B	б) најмање на точкове погонске осовине,	
C	в) на све точкове.	

72.	Радно кочење мотокултиватора мора дејствовати:	
	а) на све точкове, под условом да у случају отказа кочења на точковима једне осовине мора бити исправно кочење на точковима друге осовине, б) само на точкове задње осовине, в) на точкове предње или задње осовине, с тим да у случају отказа кочења на једном точку мора бити исправно кочење на другом.	2

73.	Радно кочење мопеда, мотоцикала, трицикала и четвороцикала, мора дејствовати:	
A	а) само на точкове гоњене осовине, б) најмање на точкове погонске осовине, в) на све точкове.	2

74.	Постављање или коришћење уређаја на возилу који дају, односно одбијају светлост видљиву учесницима у саобраћају у бојама које нису предвиђене прописима о условима које морају да испуњавају возила у саобраћају на путу:	
	а) је дозвољено само ако ти уређаји на предњој страни возила не дају, односно одбијају светлост црвене боје, а на задњој страни не дају, односно одбијају светлост беле боје, б) није дозвољено, в) је дозвољено само ако ти уређаји не ометају остале учеснике у саобраћају.	2

75.	Светлосни и светлосно сигнални уређаји, постављени на предњој страни моторног и прикључног возила, не могу бити изведени тако да дају светлост:	
	а) црвене боје видљиву са предње стране возила, осим у случајевима предвиђеним прописима о условима које морају да испуњавају возила у саобраћају на путу, б) жуте боје видљиву са предње стране возила, в) беле боје видљиву са предње стране возила, осим у случајевима предвиђеним прописима о условима које морају да испуњавају возила у саобраћају на путу.	2

76.	Светлосни и светлосно сигнални уређаји, постављени на задњој страни моторног и прикључног возила не могу бити изведени тако да дају светлост:	
	а) беле боје видљиву са задње стране возила, осим у случајевима предвиђеним прописима о условима које морају да испуњавају возила у саобраћају на путу, б) жуте боје видљиву са задње стране возила, в) црвене боје видљиву са задње стране возила.	2



РЕПУБЛИКА СРБИЈА

МИНИСТАРСТВО УНУТРАШЊИХ ПОСЛОВА – УПРАВА САОБРАЋАЈНЕ ПОЛИЦИЈЕ





Забрањено је коришћење, односно повремено или стално умножавање базе података испитних питања или њених делова, било којим средствима и у било којој форми, у комерцијалне сврхе

77.	Истоветни светлосни и светлосно сигнални уређаји који су удвојени на моторном возилу на три или више тачкова:	
	а) не морају бити исте величине и боје и дејствовати уједначеним светлосним интензитетом, б) морају бити исте величине и боје, а не морају дејствовати уједначеним светлосним интензитетом, в) морају бити исте величине и боје и дејствовати уједначеним светлосним интензитетом.	2

78.	Под уређајима за осветљавање пута на моторним возилима, од набројаних, подразумевају се: (Заокружити три тачна одговора)	
	а) задње светло за маглу, б) светла за маглу, в) габаритна светла, г) катадиоптери, д) главни фарови, е) светла за возњу уназад.	2

79.	Под уређајима за осветљавање пута на моторним возилима, од набројаног, подразумевају се: (Заокружити три тачна одговора)	
	а) задње светло за маглу, б) дневно светло, в) габаритна светла, г) покретни фар (рефлектор), д) катадиоптери, е) фарови и светла за осветљавање места на коме се изводе радови.	2

80.	На моторним возилима на четири или више тачкова и на моторним возилима на три тачка која су шира од 1,3 m главни фарови морају бити уграђени и изведени:	
A B C D	а) само као четири главна фара, од којих су најмање два за кратко светло, б) два или четири главна фара, од којих су два за кратко светло, в) само као два главна фара, која могу имати дуго и кратко светло или само кратко светло.	2

81.	На мопеду, односно мотоциклу, главни фарови морају бити уграђени и изведени као:	
A	а) два или четири главна фара, од којих су два за кратко светло, б) само као два главна фара, која могу имати дуго и кратко светло или само кратко светло, в) један главни фар или два главна фара, од којих је један за кратко светло.	2

96.	Светлост светла за возњу уназад мора бити:	
	а) црвене боје, б) боје одређене од стране произвођача возила, в) беле боје.	2

83.	Светлост главних фарова мора бити:	
	а) плаве или жуте боје, б) боје одређене од стране произвођача возила, в) беле боје.	2

84.	Када се укључе дуга светла за осветљавање пута, на контролној табли возила мора аутоматски да светли контролна лампа:	
	а) плаве боје, б) жуте боје, в) зелене боје.	2

85.	Када се укључе кратка светла за осветљавање пута, на контролној табли возила:	
	а) мора аутоматски да светли контролна лампа зелене боје, б) мора аутоматски да светли контролна лампа жуте боје, в) не мора бити укључена лампа било које боје.	2

88.	Светлосни снап кратког светла моторних возила, осим трактора, мора да осветли:	
A B C D	а) најмање 40 m, а највише 80 m пута, б) најмање 40 m пута, в) најмање 100 m пута.	2

90.	Светлосни снап дугог светла моторних возила, осим трактора, мора да осветли:	
A B C D	а) најмање 40 m пута, б) најмање 80 m пута, в) најмање 100 m пута.	2

92.	Светлосни снап кратког светла трактора, мопеда, трицикала и четворочикала:	
A F	а) мора бити изведен само као десносмерни асиметрични, б) може бити изведен као симетрични или десносмерни асиметрични, в) мора бити изведен само као симетрични.	2

93.	Светлосни снап светла за маглу моторних возила мора да осветли:	
A B C D	а) најмање 35 m пута, б) најмање 35 m, а највише 80 m пута, в) највише 35 m пута.	2

94.	Светлосни снап кратког светла мопеда мора да осветли:	
A	а) најмање 10 m, а највише 50 m пута, б) најмање 40 m пута, в) најмање 20 m, а највише 60 m пута.	2

95.	Светла на мотокултиватору морају бити изведена тако да се светлост коју дају, ноћу при доброј видљивости, може видети на удаљености од најмање:	
	а) 80 m, б) 100 m, в) 150 m.	2



РЕПУБЛИКА СРБИЈА

МИНИСТАРСТВО УНУТРАШЊИХ ПОСЛОВА – УПРАВА САОБРАЋАЈНЕ ПОЛИЦИЈЕ





Забрањено је коришћење, односно повремено или стално умножавање базе података испитних питања или њених делова, било којим средствима и у било којој форми, у **комерцијалне сврхе**

98.	На мотоциклима светла за маглу могу бити уграђена и изведена:	
A	а) само као једно светло, б) као једно или два симетрично постављена светла, в) паран број светала без ограничења броја.	2

99.	Светлост светала за маглу мора бити:	
	а) беле или жуте боје, б) боје одређене од стране произвођача возила, в) само жуте боје.	2

100	Када се укључе светла за маглу, на контролној табли возила:	
	а) мора аутоматски да светли контролна лампа зелене боје, б) мора аутоматски да светли контролна лампа жуте боје, в) не мора бити укључена лампа било које боје.	2

106	На моторном возилу на два точка и моторном возилу на три точка која нису шира од 1,3 m:	
A	а) не морају бити уграђена предња позициона светала, б) мора бити уграђено једно предње позиционо светло беле или жуте боје, в) мора бити уграђено једно предње позиционо светло беле боје.	2

101	Светлост дневних светала мора бити:	
	а) беле или жуте боје, б) боје одређене од стране произвођача возила, в) само беле боје.	2

109	На мопеду и мотоциклу:	
A	а) не морају бити уграђена задња позициона светала, б) мора бити уграђено једно задње позиционо светло црвене или жуте боје, в) мора бити уграђено једно или два задња позициона светла црвене боје.	2

111	Када се укључе задња светла за маглу на контролној табли возила мора аутоматски да светли контролна лампа:	
	а) плаве боје, б) црвене боје, в) жуте или зелене боје.	2

114	На возилима мора бити уграђено и изведено светло задње регистарске таблице, тако да даје светлост:	
	а) жуте боје, б) беле боје, в) црвене боје.	2

122	На мотокултиватору:	
	а) не морају бити уграђени задњи катадиоптери, б) морају бити уграђена два задња катадиоптера, црвене боје, који нису троугластог облика, в) морају бити уграђена два задња катадиоптера троугластог облика жуте или црвене боје.	2

116	На моторном возилу на два точка и моторном возилу на три точка која нису шира од 1,3 m:	
A	а) не морају бити уграђени задњи катадиоптери, б) мора бити уграђен најмање један задњи катадиоптер троугластог облика жуте или црвене боје, в) мора бити уграђен један задњи катадиоптер, црвене боје, који није троугластог облика.	2

117	На мотоциклу са три точка:	
A	а) не морају бити уграђени задњи катадиоптери, б) морају бити уграђена два задња катадиоптера, црвене боје, који нису троугластог облика, в) мора бити уграђен један задњи катадиоптер троугластог облика жуте или црвене боје.	2

118	На четвороциклу ширем од 1 m:	
A	а) не морају бити уграђени задњи катадиоптери, Б б) морају бити уграђена два задња катадиоптера, црвене боје, који нису троугластог облика, в) морају бити уграђена најмање два задња катадиоптера троугластог облика жуте или црвене боје.	2

132	На мопеду односно а задњој грани возила:	
A	а) мора бити уграђено најмање једно светло, тако да даје светлост црвене боје, б) мора бити уграђено најмање једно светло, тако да даје светлост жуте боје, в) морају бити уграђена најмање два светла, тако да дају светлост црвене боје.	2

134	Стоп светла се укључују при активирању:	
	а) радног очеења возила, б) паркирачког кочења, в) дуготрајног успоравања возила.	2

135	Стоп светла не морају имати мото на возила која на авном путу не могу разићи брзину ретања већ од:	
	а) 25 km/h б) 30 km/h в) 45 km/h	2

136	Светлост показивача правца мора бити:	
	а) беле боје, б) жуте боје, в) жуте или црвене боје.	2

137	На возилима која су први пут регистрована у Републици Србији пре 1. јула 2011. године контрола укључености показивача правца, мора бити обезбеђена:	
	а) само помоћу звучне контролне направе, б) помоћу оптичке и звучне контролне направе, в) помоћу оптичке или звучне контролне направе.	2



РЕПУБЛИКА СРБИЈА

МИНИСТАРСТВО УНУТРАШЊИХ ПОСЛОВА – УПРАВА САОБРАЋАЈНЕ ПОЛИЦИЈЕ





Забрањено је коришћење, односно повремено или стално умножавање базе података испитних питања или њених делова, било којим средствима и у било којој форми, у **комерцијалне сврхе**

124	Ознака приказана на слици служи за означавање:
	<ul style="list-style-type: none"> а) тешких возила, б) дугих возила, в) спорих возила.
	2

125	Ознака приказана на слици служи за означавање:
	<ul style="list-style-type: none"> а) тешких возила, б) дугих возила, в) спорих возила.
	2

126	Ознака приказана на слици служи за означавање:
	<ul style="list-style-type: none"> а) тешких возила, б) дугих возила, в) спорих возила.
	2

127	Ознака спорих возила мора бити постављена на: (Заокружити два тачна одговора)
	<ul style="list-style-type: none"> а) возила чија највећа конструктивна брзина не прелази 30 km/h, б) возила чија највећа конструктивна брзина не прелази 40 km/h, в) возила чија највећа конструктивна брзина не прелази 50 km/h, г) тракторима, радним машинама, мотокултиваторима и прикључним возилима за трактор.
	2

128	Табла за означавање спорих возила поставља се, врхом засеченог троугла окренутим на горе и основицом паралелном са површином коловоза, на:
	<ul style="list-style-type: none"> а) половини ширине задње стране спорог возила, б) левом делу задње стране спорог возила, в) на предњој или задњој страни спорог возила.
	2

144	На моторном возилу уређај за давање звучних знакова:
	<ul style="list-style-type: none"> а) не мора бити уграђен, б) мора бити уграђен и изведен, као најмање један уређај, тако да даје једноличне звукове непроменљивог интензитета, в) може бити уграђен и изведен, као најмање један уређај, тако да даје различите звукове променљивог интензитета.
	2

145	Уређај за давање звучних знакова мора производити звук:
	<ul style="list-style-type: none"> а) чија јачина мора бити у прописаним границама, б) што веће јачине, в) чија јачина није прописана.
	2

147	Уградња контролне плаве лампе за контролу укључености дугих светала на мотоциклима је:
A	<ul style="list-style-type: none"> а) обавезна, б) обавезна, осим на мотоциклима чија радна запремина мотора не прелази 50cm³, в) обавезна само на мотоциклима који су први пут регистровани у Републици Србији након 1. јула 2011. године.
	2

148	Уградња контролне плаве лампе за контролу укључености дугих светала на лаким четвороциклима:
A	<ul style="list-style-type: none"> а) је обавезна, б) није обавезна, в) је обавезна само на лаким четвороциклима који су први пут регистровани у Републици Србији након 1. јула 2011. године.
	2

152	Уклањање катализатора, уграђеног од стране произвођача возила:
	<ul style="list-style-type: none"> а) је дозвољено, б) није дозвољено, в) је дозвољено само када онемогућава правилан рад мотора.
	2

155	Када је постављена на место одређено од стране произвођача, угао који заклапа регистарска таблица и раван управна на хоризонталну подлогу:
	<ul style="list-style-type: none"> а) не може прелазити 30⁰ према горе нити 15⁰ према доле, б) не може прелазити 15⁰ према горе нити 30⁰ према доле, в) не може прелазити 15⁰ према горе нити 20⁰ према доле.
	2

173	Опрема за пружање прве помоћи величине „А“ мора постојати у:
A	<ul style="list-style-type: none"> а) мотоциклима и четвороциклима, б) мотоциклима, тешким трициклима и тешким четвороциклима, в) mopедима, мотоциклима, трициклима и четвороциклима.
	2



РЕПУБЛИКА СРБИЈА

МИНИСТАРСТВО УНУТРАШЊИХ ПОСЛОВА – УПРАВА САОБРАЋАЈНЕ ПОЛИЦИЈЕ





Забрањено је коришћење, односно повремено или стално умножавање базе података испитних питања или њених делова, било којим средствима и у било којој форми, у **комерцијалне сврхе**

169	Постојање уређај за обезбеђење возила од неовлашћене употребе је обавезно:	
	а) на аутобусима, путничким и теретним возилима, б) само на путничким возилима, в) само на путничким и теретним возилима.	2

178	Пнеуматици на возилу:	
	а) могу имати највеће димензије које омогућавају њихову несметано коришћење, б) морају имати димензије које су одређене прописима о техничким условима за возила у саобраћају на путевима, в) морају бити декларисаних димензија од стране произвођача возила.	2

179	У ознаци пнеуматика 195/65 R 16 89 Н димензије су исказане кодовима: (Заокружити два тачна одговора)	
	а) 195/65, б) 89, в) 16, г) R, д) Н.	2

180	На ознаци пнеуматика 180/60 R 14 82 Т ознака 180 означава:	
	а) ширину пнеуматика, б) висину пнеуматика, в) однос висине и ширине пнеуматика изражен у процентима	

181	На ознаци пнеуматика 180/60 R 14 82 Т ознака 60 означава:	
	а) брзинску ознаку, б) индекс носивости, в) однос висине и ширине пнеуматика изражен у процентима.	

182	У ознаци пнеуматика 195/65 R 16 89 Н конструкција је исказана кодом:	
	а) 195/65, б) 89, в) 16, г) R, д) Н.	2

183	На ознаци пнеуматика 180/60 R 14 82 Т ознака R означава:	
	а) да пнеуматик може да се нарезује, б) брзинску ознаку пнеуматика, в) да је пнеуматик радијални.	2

184	На ознаци пнеуматика 180/60 R 14 82 Т ознака 14 означава:	
	а) ширину пнеуматика, б) висину пнеуматика, в) пречник наплата.	2

185	На ознаци пнеуматика 180/60 R 14 82 Т ознака 82 означава:	
	а) ознаку носивости, б) брзинску ознаку пнеуматика, в) висину пнеуматика.	2

177	Пнеуматици на истој осовини морају бити једнаки по: (Заокружити три тачна одговора)	
	а) конструкцији (радијални, дијагонални и са укрштеним појасевима), б) дубини газећег слоја, в) години производње, г) произвођачу и типу, д) врсти (летњи, зимски), ђ) индексу брзине.	2

188	На ознаци пнеуматика 180/60 R 14 82 Т ознака Т означава:	
	а) да пнеуматик може да се нарезује, б) брзинску ознаку пнеуматика, в) да је пнеуматик радијални.	2

191	Ознака на пнеуматику TWI значава:	
	а) индекс брзине, б) индекс носивости, в) положај индикатора истрошености пнеуматика.	

192	Ознака на пнеуматику TWI означава:	
	а) да је пнеуматик намењен за летњу употребу, б) положај индикатора истрошености пнеуматика, в) да пнеуматик може да се протектира.	

193	Најмање дозвољена дубина „шаре“ газећег слоја пнеуматика мопеда, односно мотоцикла, када не постоји TWI ознака, износи:	
A	а) 4,0 mm, б) 2,0 mm, в) 1,6 mm.	2

194	Дубина газећег слоја пнеуматика на мопедима, мотоциклима, трициклима, четвороциклима и путничким возилима мора бити:	
A	а) већа од дубине означене TWI ознакама, односно најмање 2 mm, ако TWI ознаке не постоје,	
B	б) најмање 1,6 mm, в) већа од дубине означене TWI ознакама, односно најмање 1,6 mm, ако TWI ознаке не постоје.	2

213	Дубина газећег слоја на пнеуматичима за зимску употребу не сме бити мања од:	
	а) 4 mm, б) 2 mm, в) 5 mm.	2



РЕПУБЛИКА СРБИЈА

МИНИСТАРСТВО УНУТРАШЊИХ ПОСЛОВА – УПРАВА САОБРАЋАЈНЕ ПОЛИЦИЈЕ





Забрањено је коришћење, односно повремено или стално умножавање базе података испитних питања или њених делова, било којим средствима и у било којој форми, у **комерцијалне сврхе**

312	Да ли терет на возилу може бити смештен и обезбеђен тако да умањује стабилност возила и отежава управљање возилом, као и да утиче на функционисање и коришћење склопова и делова возила?	
	а) Да. б) Не. в) Не, осим када је надлежни орган издао посебну дозволу да се превоз врши уз пратњу са укљученим жутим ротационим или трепћућим светлом.	2

360	Возач не сме управљати возилом на начин који омогућава: (<i>Заокружити два тачна одговора</i>)	
	а) отварање прозора, б) коришћење уређаја за комуникацију који омогућавају телефонирање без ангажовања руку, в) нагињање ван возила, г) вожњу на спољним деловима возила или на прикључцима за извођење радова.	2

315	ерет на в зилу мора да буде т ко смеште и о ездеђен да:	
	а не закла а светла, ре истарске та лице и друг прописан ознаке на в зилу, б не закла а само светл , в не закла а само регистарску табл цу.	2

316	а ли терет на возилу може да уде смешт н и о ездеђен так да загађује животну ср дину?	
	а Да. б Не.	

340	У моторном возилу, односно на возилу и прикључном возилу у саобраћају на путу, дозвољено је превозити:	
	а) онолико лица колико је означено у саобраћајној дозволи, на местима која су за то предвиђена, б) онолико лица колико у возилу постоји места за седење, односно места за стајање, в) онолико лица колико може да стане у простору за превоз путника, под условом да укупна маса возила није већа од највеће дозвољене масе возила.	2

354	На мопеду није дозвољено превозити дете млађе од:	
A	а) 12 година, б) 13 година, в) 14 година.	2

355	На трициклу није дозвољено превозити дете млађе од:	
A B	а) 12 година, б) 13 година, в) 14 година.	2

356	На мотоциклу није дозвољено превозити дете млађе од:	
A	а) 12 година, б) 13 година, в) 14 година.	2

357	На четвороциклу није дозвољено превозити дете млађе од:	
A B	а) 12 година, б) 13 година, в) 14 година.	2

358	Возач не сме управљати на начин који омогућава: (<i>Заокружити два тачна одговора</i>)	
	а) искакање из возила, б) отварање врата, в) отварање прозора, г) коришћење аудио уређаја у возилу.	2



РЕПУБЛИКА СРБИЈА

МИНИСТАРСТВО УНУТРАШЊИХ ПОСЛОВА – УПРАВА САОБРАЋАЈНЕ ПОЛИЦИЈЕ

